





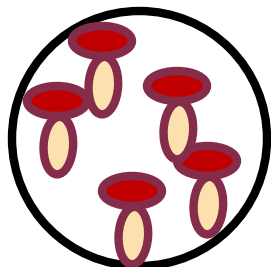


ЗАДАНИЯ ДЛЯ САМОСТОЯТЕЛЬНОЙ РАБОТЫ ПО ФЭМП

Для детей старшего возраста
подготовила и провела:
Кот Ольга студентка 2-го курса дошкольного
отделения

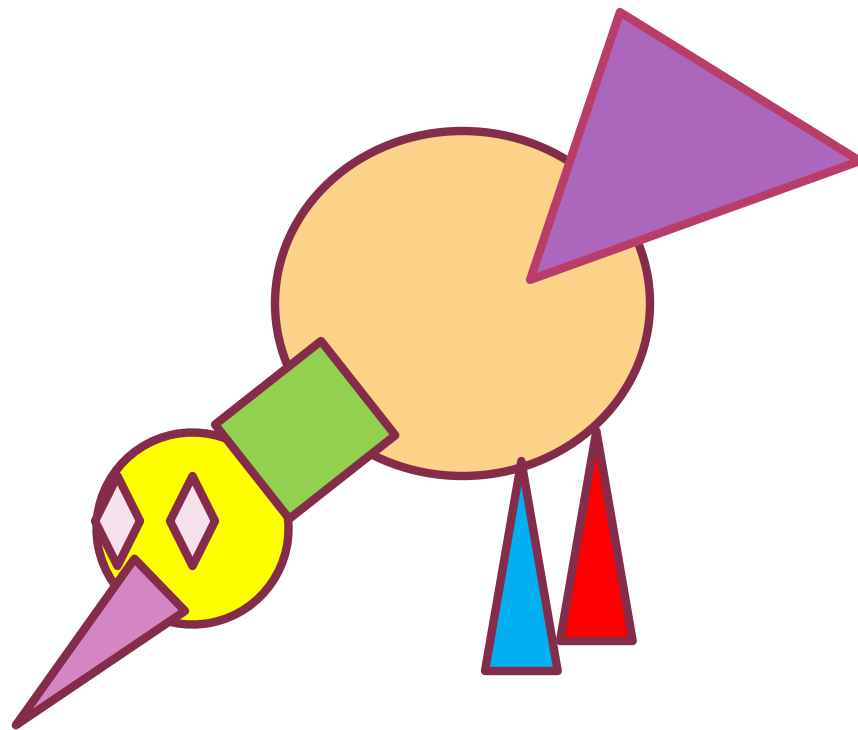

ЗНАКИ: БОЛЬШЕ И МЕНЬШЕ



Сколько точек нужно нарисовать в каждом круге, чтобы «записи»
получились правильными

ГЕОМЕТРИЧЕСКИЕ ФИГУРЫ

- Какая птичка составлена из большего количества геометрических фигур? Из каких фигур состоят птички?



ЦИФРЫ

- Вставь пропущенные цифры. Какие цифры ты поставил? Объясни почему?

3	6	9
6	9	3
9	3	

1	2	3
2	3	4
3	4	

ЧИСЛО

Нарисуй в пустых клетках столько точек, чтобы в каждой паре клеток получилось всего четыре точки.

