



**Демонстрационные
материалы для подготовки
учащихся к ЕГЭ
по обществознанию**

**Тренировочные задания части А в графиках:
действие рыночного механизма**

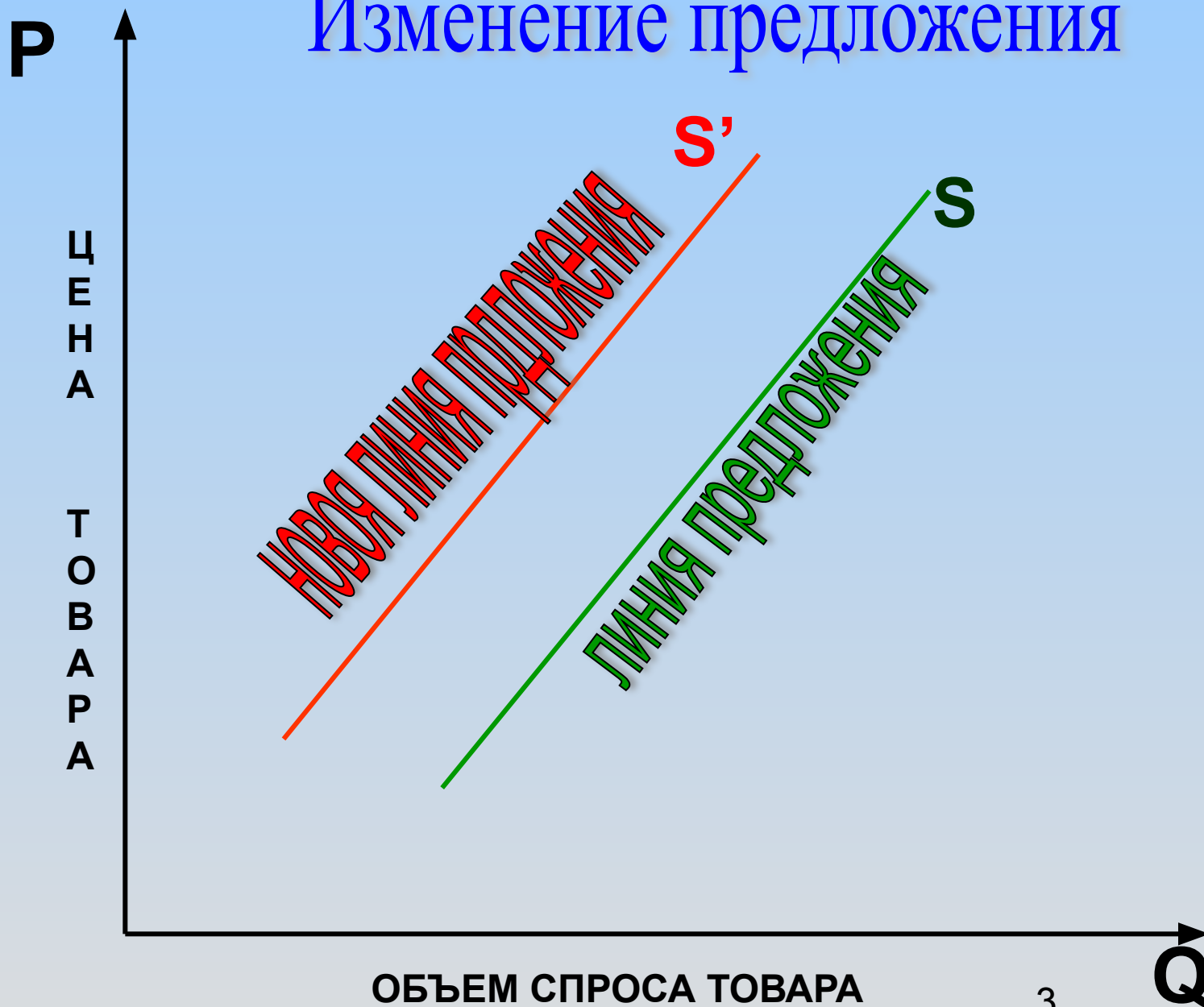
Учитель: Плугатаренко О.В.

ГОУ СОШ № 776 ЮВОВОУ г. МОСКВЫ

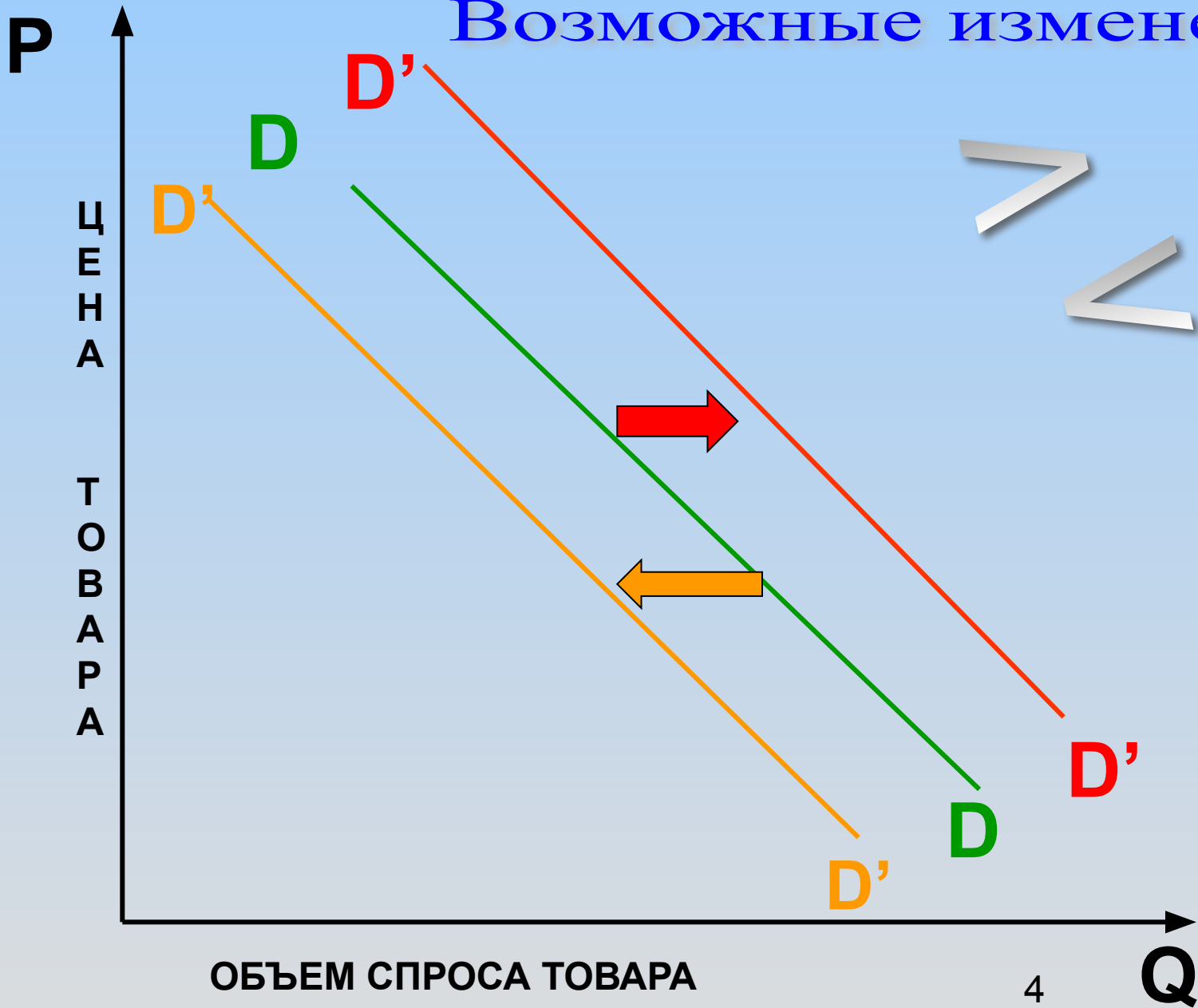
Изменение спроса

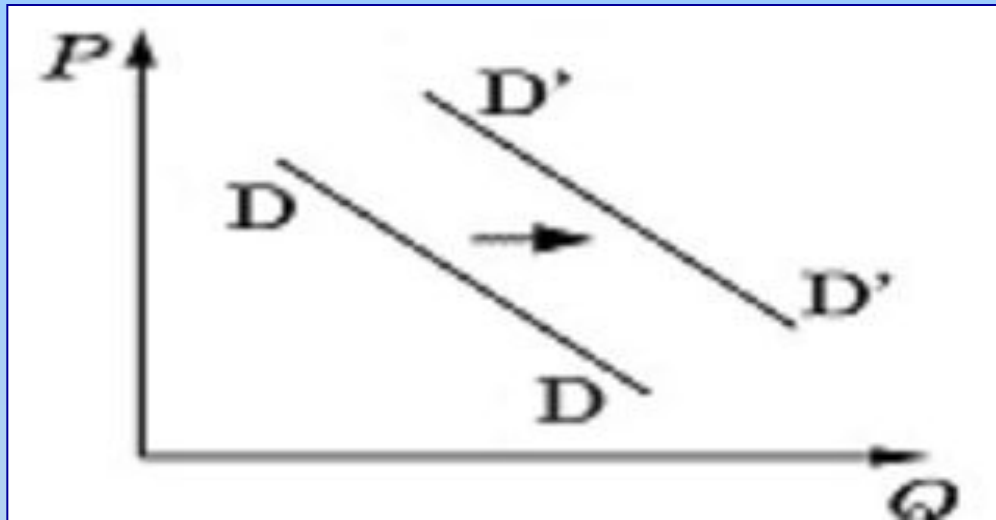


Изменение предложения



Возможные изменения





Ответ:

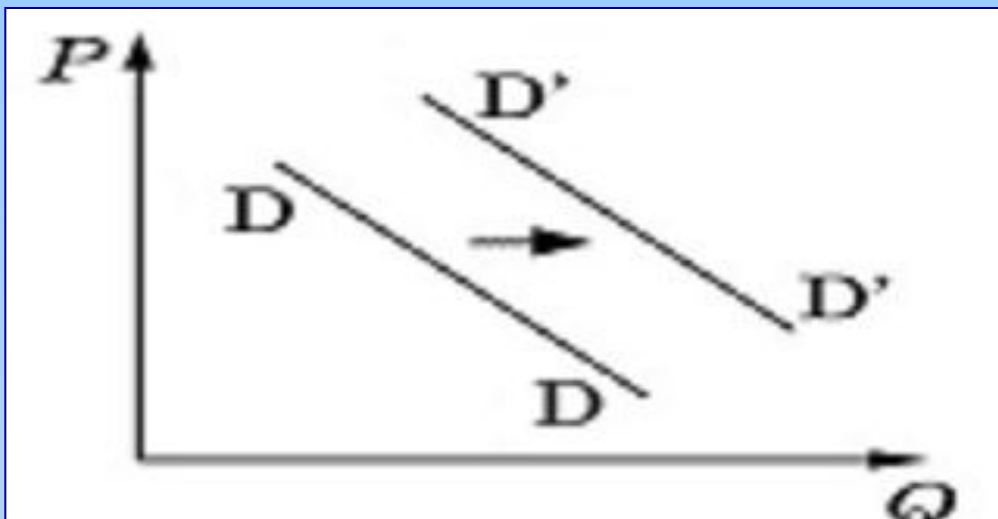
4

На рисунке отражена ситуация на рынке бытовой техники – линия спроса DD переместилась в новое положение $D'D'$.

(P – цена товара, Q – количество товара).

Это перемещение может быть связано:

1. с совершенствованием технологии производства бытовой техники;
2. с уменьшением издержек производства бытовой техники;
3. с увеличением объема услуг общественного транспорта;
4. с увеличением доходов населения



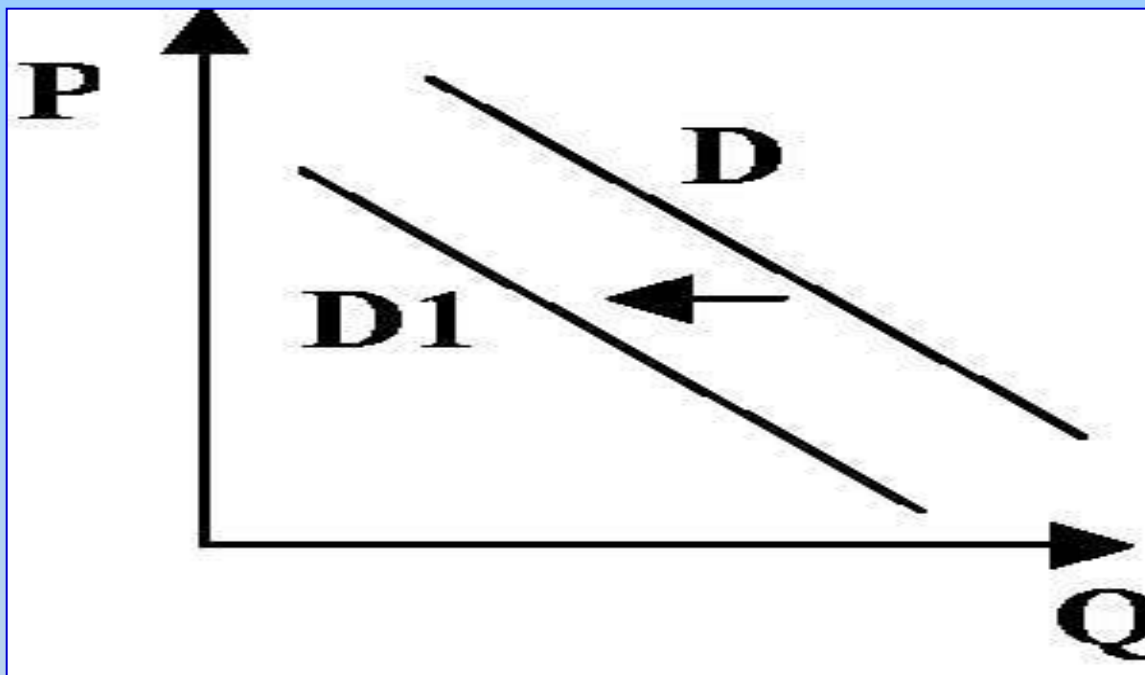
Ответ:

3

На рисунке отражено изменение спроса на джинсовую одежду на соответствующем рынке: линия спроса DD переместилась в новое положение $D'D'$. (P – цена товара, Q – объем спроса товара).

Это перемещение может быть связано:

1. со снижением доходов потребителей;
2. с увеличением таможенных пошлин на импортную одежду
3. с модой на джинсовую одежду ;
4. с повышением цен на энергоносители

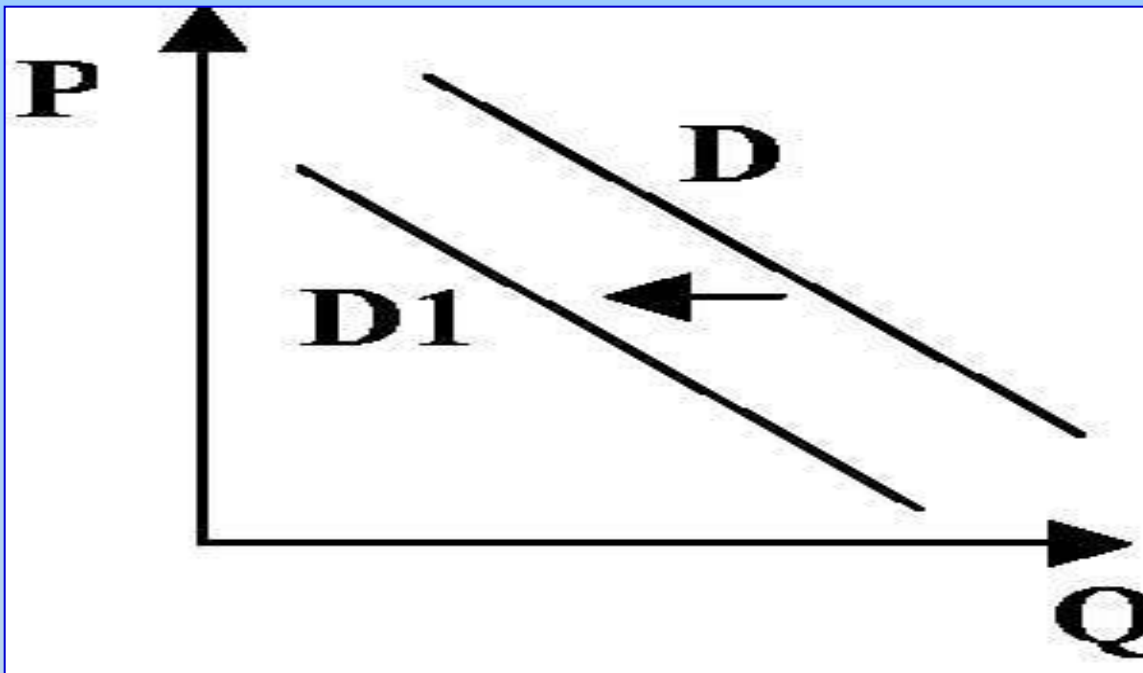


Ответ:

1

На рисунке отражено изменение на соответствующем рынке спроса на услуги частных клиник: линия спроса D переместилась в новое положение $D1$. (P - цена товара, Q - объем спроса товара) Это перемещение может быть связано, прежде всего, с ...

- 1) повышением цен на медицинские услуги;
- 2) снижением налогов с частных клиник;
- 3) закрытием ряда муниципальных клиник;
- 4) увеличением числа частных клиник



Ответ:

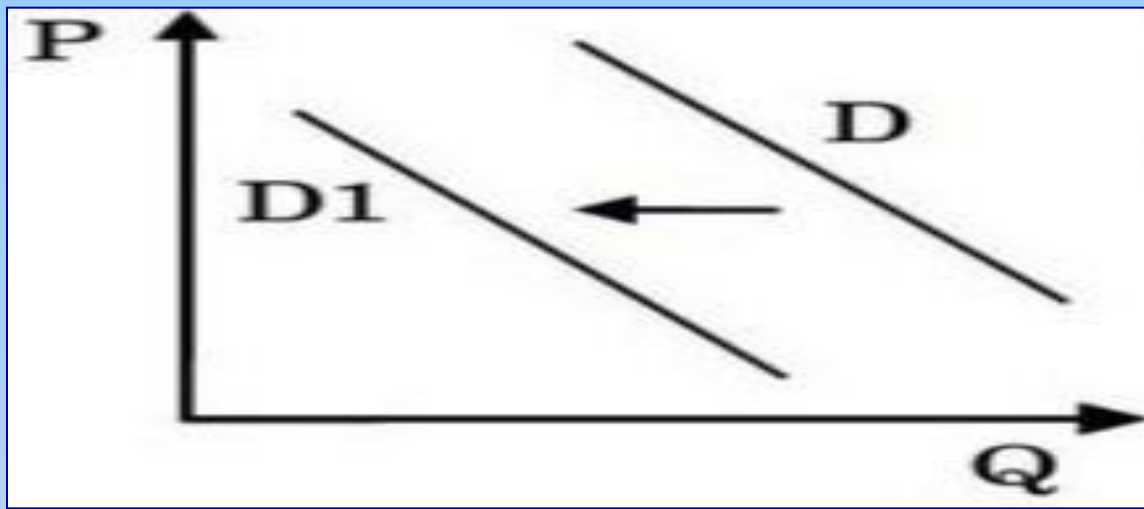
2

На рисунке отражена ситуация на рынке туристических услуг: линия спроса D переместилась в новое положение $D1$. (P - цена товара, Q - объем спроса товара) Это перемещение может быть связано, прежде всего, с

- 1) ожиданиями экономического подъема

- 2) завершением туристического сезона
- 3) увеличением доходов потребителей
- 4) ростом числа туристических фирм

Решение: Падение цен на товар и объемов спроса характерно для окончания туристического сезона



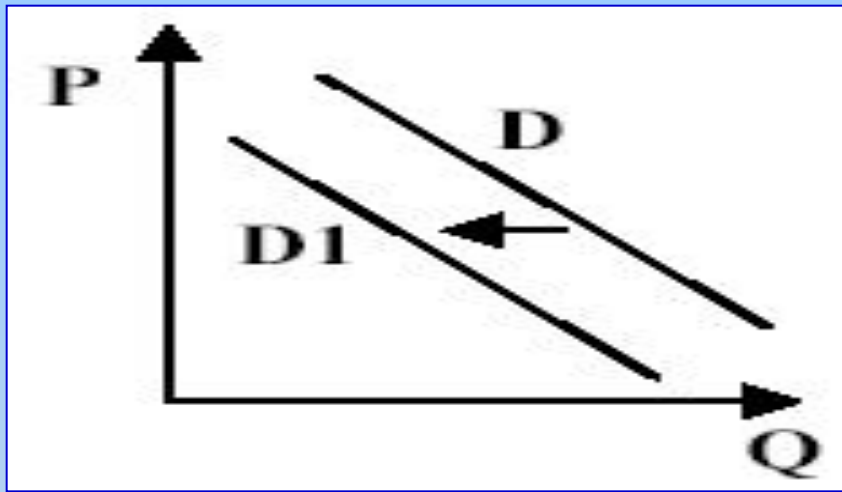
Ответ:

3

На рисунке отражена ситуация на рынке услуг итальянских ресторанов и кафе: линия спроса D переместилась в новое положение $D1$. (P – цена товара, Q – объем спроса товара)

Это перемещение может быть связано прежде всего с

1. снижением ввозных пошлин на соусы для пиццы
2. внедрением новых технологий производства спагетти из твердых сортов пшеницы
3. установлением моды на японскую кухню, суши и роллы
4. увеличением доходов потребителей

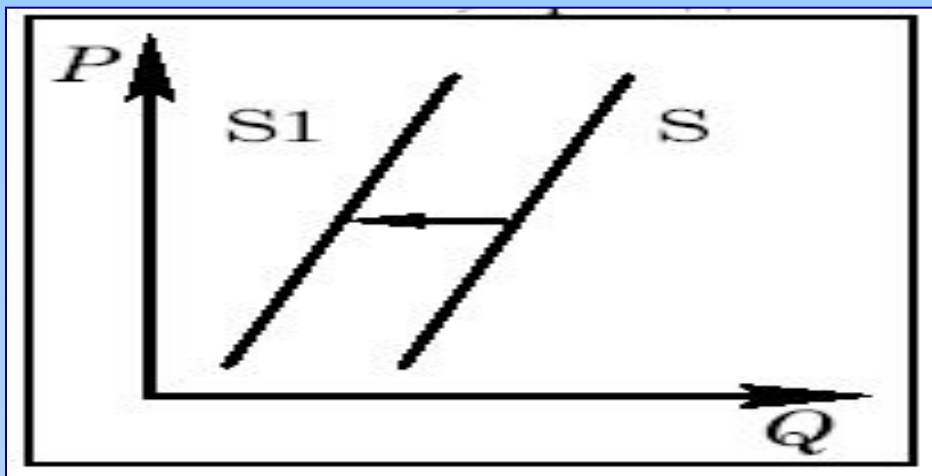


Ответ:

1

На рисунке отражена ситуация на рынке шерстяных ковров: линия спроса D переместилась в новое положение $D1$. (P – цена товара, Q – объем спроса товара). Это перемещение, прежде всего, может быть связано с:

1. модой на напольные покрытия из синтетических материалов
2. ростом доходов населения
3. со снижением пошлин на импорт шерстяных ковров
4. со снижением спроса на оборудование «теплых» полов



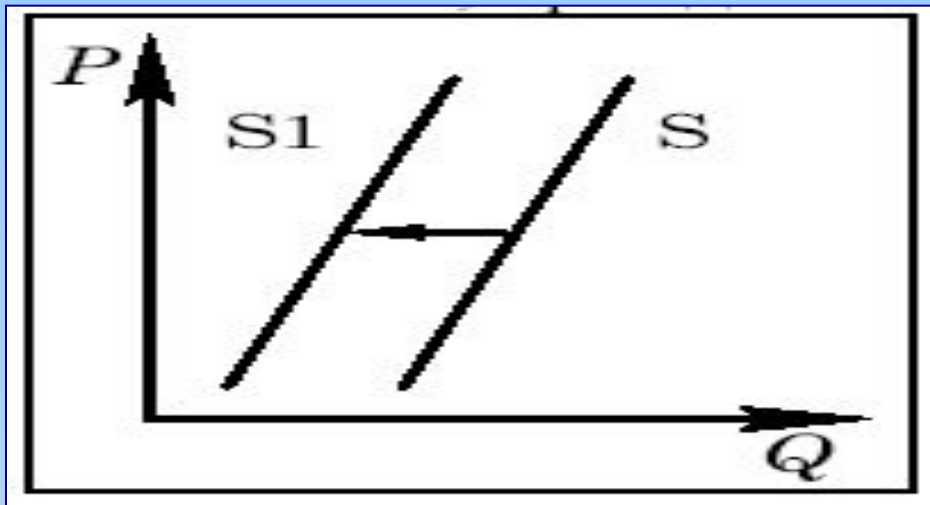
Ответ:

3

На рисунке отражена ситуация на рынке зерна: линия предложения S переместилась в новое положение $S1$ (P – цена товара, Q – количество товара).

Это перемещение может быть связано, прежде всего, с ...

- 1) предоставлением производителям зерна налоговых льгот
- 2) снижением цен на топливо и удобрения
- 3) ожиданиями низкого урожая зерна
- 4) ростом числа хлебопекарных и кондитерских предприятий

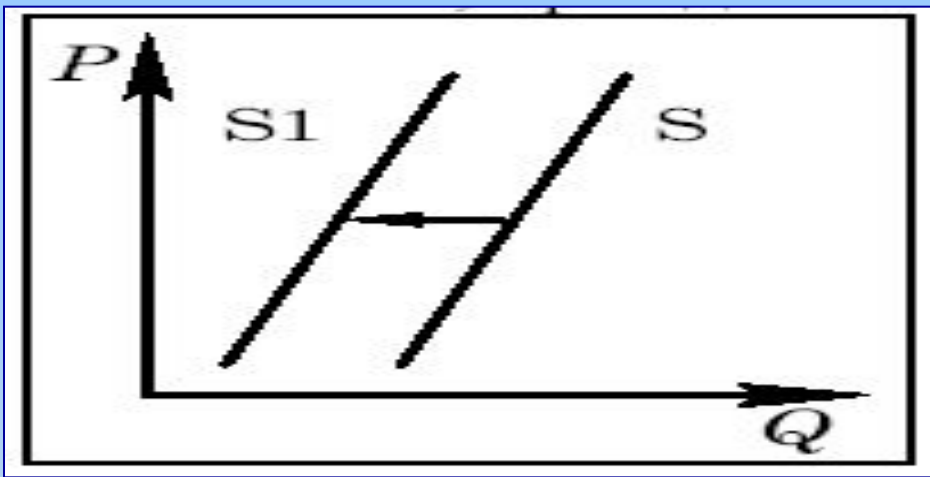


Ответ:

2

На рисунке отражена ситуация на рынке ипотечного кредитования: линия предложения S переместилась в новое положение $S1$. (P – цена товара, Q – объем спроса товара). Это перемещение, прежде всего, может быть связано с

1. ростом доходов населения
2. кризисными явлениями в банковской системе, ростом неплатежей
3. массовым вводом в строй недорогого жилья
4. снижением цен на загородную недвижимость



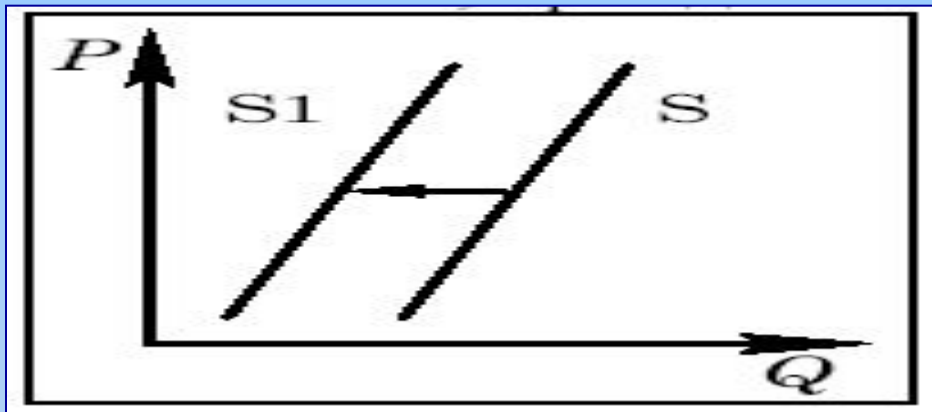
Ответ:

4

Какой фактор мог вызвать смещение кривой предложения элитных сортов чая из положения S в положение $S1$? (P – цена товара, Q – объем предложения товара).

Это перемещение, прежде всего, может быть связано с

1. ростом доходов населения
2. расширением торговых сетей, торгующих элитным чаем
3. сокращением расходов компаний, фасующих чай
4. засухой в чаепроизводящих районах



Ответ:

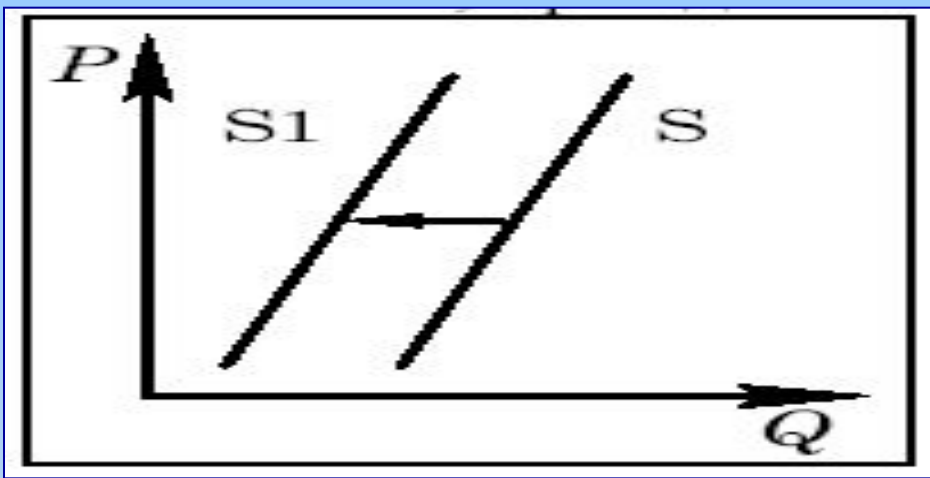
2

На рисунке отражена ситуация на рынке кредитов на покупку автомобилей: линия предложения S переместилась в новое положение $S1$.

(P – цена товара, Q – объем спроса товара)

Это перемещение, прежде всего, может быть связано с

1. **ростом доходов населения**
2. **ростом неплатежей в банковской системе**
3. **стремлением потребителей к замене старых автомобилей на новые**
4. **снижением цен на популярные иномарки**



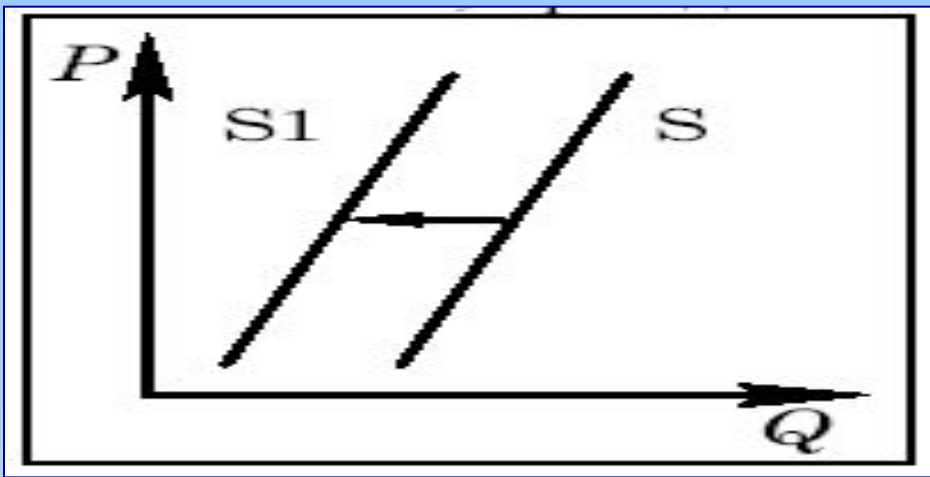
Ответ:

3

На рисунке отражено изменение предложения риса на соответствующем рынке : линия предложения S переместилась в новое положение $S1$.

Это перемещение может быть связано с ...

- 1) увеличением доходов потребителей;**
- 2) предоставлением льготных кредитов продавцам риса;**
- 3) увеличением таможенных пошлин на импорт риса;**
- 4) уменьшением цен на энергоносители**



Ответ:

1

На рисунке отражены изменения предложения моркови и лука на соответствующем рынке: линия предложения S переместилась в новое положение $S1$.

Это перемещение может быть связано с ...

- 1) увеличением цен на минеральные удобрения;**
- 2) увеличением доходов потребителей;**
- 3) снижением платы за аренду земельных участков;**
- 4) снижением цен на дизельное топливо и бензин**