



---

ИМЯ УРОКА:  
« МАТЕМАТИКА- БОЛЬШЕ, ЧЕМ  
НАУКА, ЭТО- ЯЗЫК»


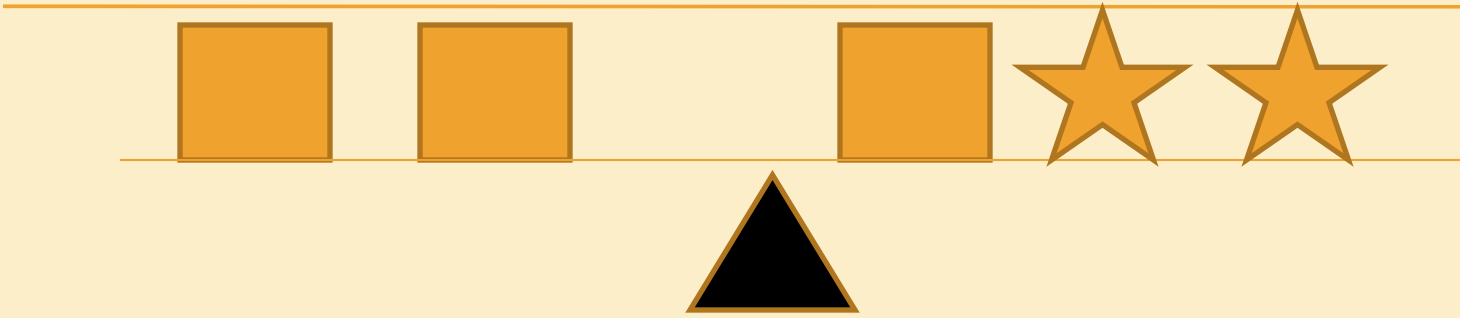
Н. БОР





?





---

МАЛЬЧИК ПАТ И СОБАЧОНКА  
ВЕСЯТ ДВА ПУСТЫХ БОЧОНКА.  
СОБАЧОНКА БЕЗ МАЛЬЧИШКИ  
ВЕСИТ ДВЕ ПУСТЫХ КОВРИЖКИ.  
А С КОВРИЖКОЙ ПОРОСЕНОК  
ВЕСИТ , ВИДИТЕ, БОЧОНОК.  
СКОЛЬКО ВЕСИТ МАЛЬЧИК ПАТ?  
СОСЧИТАЙ-КА ПОРОСЯТ.

---

## ПО КАКОМУ ПРАВИЛУ ДАННЫЕ ВЫРАЖЕНИЯ РАСПРЕДЕЛЕННЫ В ДВА СТОЛБИКА?

$$2(A+4);$$

$$6,8-(9,7-6,3);$$

$$5,4+(3,7-5,4);$$

$$7,2-(3,2-5,9);$$

$$B(4+A+C);$$

$$2A+8;$$

$$6,8-9,7+6,3;$$

$$5,4+3,7-5,4;$$

$$7,2-3,2+5,9;$$

$$4B+4A+4C$$

---

КАКАЯ ЖИЗНЕННАЯ СИТУАЦИЯ  
ПОХОЖА НА ДАННОЕ ВЫРАЖЕНИЕ?

$$6,1 + (-3,2 + 4 - 8,1)$$

$$7,2 - (3,2 - 5,9 + 4,1)$$





---

## МАТЕМАТИЧЕСКИЙ ДИКТАНТ

1. РАСКРОЙТЕ СКОБКИ , ИСПОЛЬЗУЯ  
РАСПРЕДЕЛИТЕЛЬНЫЙ ЗАКОН УМНОЖЕНИЯ:

$$5(x+3)$$

$$2(7+y)$$

$$10(x+y-7)$$

$$(a-b+c)*9$$

---

УПРОСТИТЕ ВЫРАЖЕНИЕ:

$$7*(-A)$$

$$-8*(-B)$$

$$-5*-6$$

$$-A*6B$$

$$-A*K$$

$$-A*(-N)$$