

Размещение и плотность

Более 50% населения мира проживает на равнинах и низменностях с высотами до 200 м

1/3 населения проживает на расстоянии не более 50 км от моря (эта полоса занимает 12% суши)

Восточное полушарие 86% населения мира

Южное полушарие 10%

Зарубежная Азия 60%

Африка 12%

Зарубежная Европа 10%

Латинская Америка 8,4%

Северная Америка 5%

Россия 4,1%

Австралия и Океания 0,5%

Размещение и плотность

Средняя плотность населения в мире 45 ч/км²

Европа 69 ч/км²

Азия 85 ч/км²

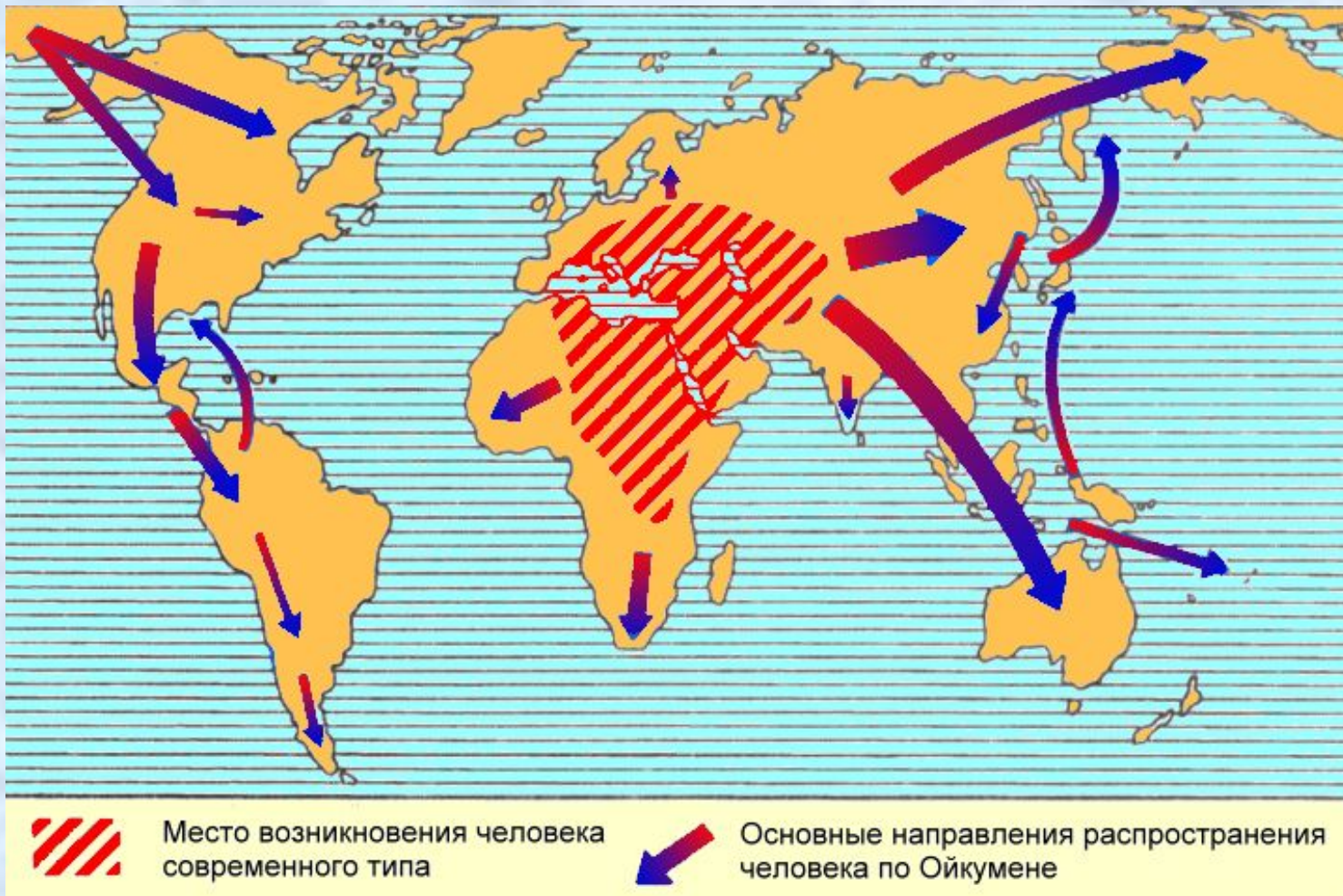
Африка 27 ч/км²

Америка 20 ч/км²

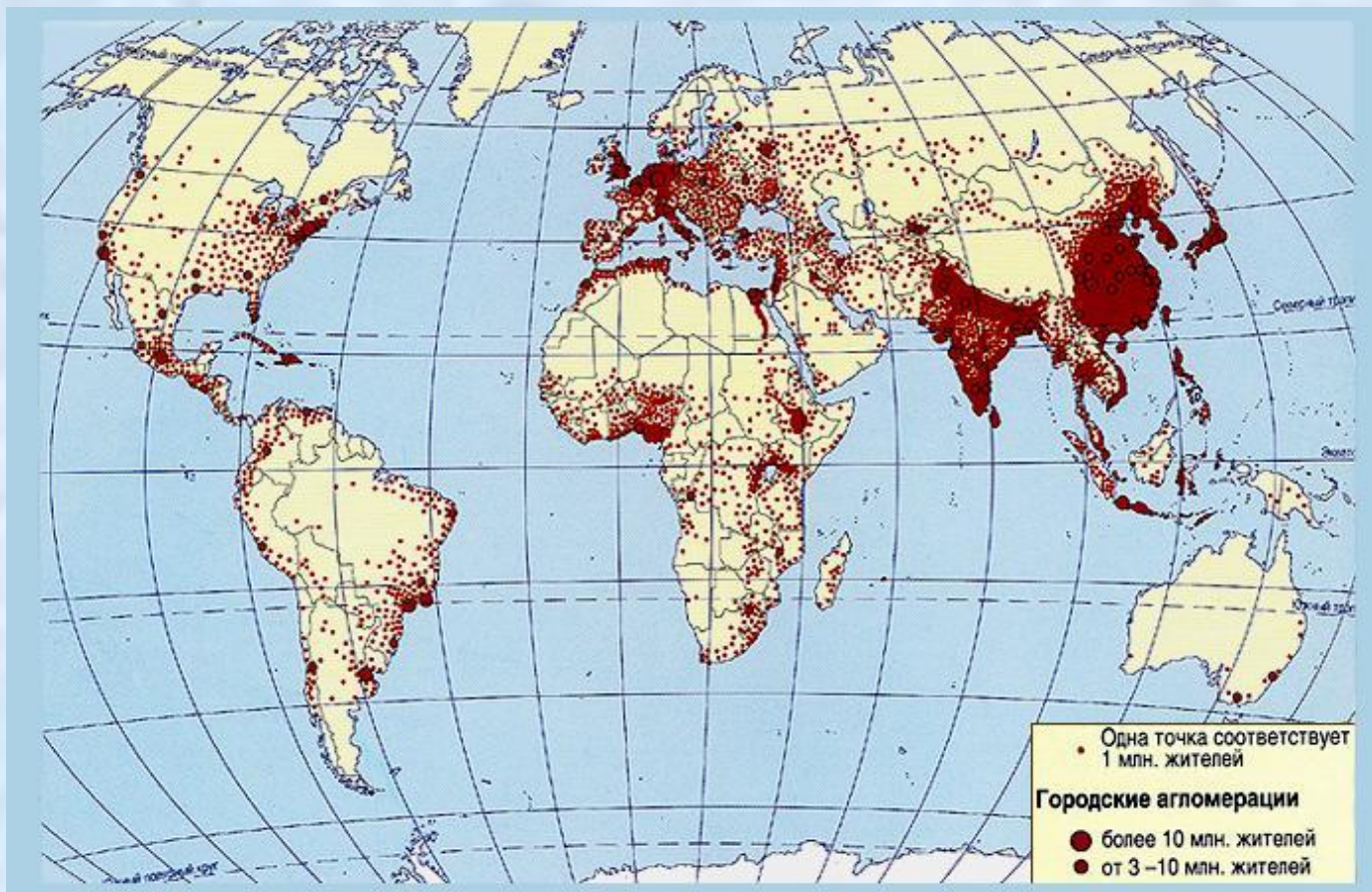
Австралия и Океания 4 ч/км²

Максимальная плотность в Бангладеш 1066 ч/км²

Размещение и плотность



Размещение и плотность



Размещение и плотность

Классификация стран по плотности населения:

1. Высокая плотность >200 ч/км²

Бельгия, Нидерланды, Великобритания, Израиль, Южная Корея

2. Средняя плотность 40 ч/км²

Ирландия, Ирак, Малайзия, Мексика, Эквадор

3. Низкая плотность <2 ч/км²

Монголия, Ливия, Австралия, Намибия

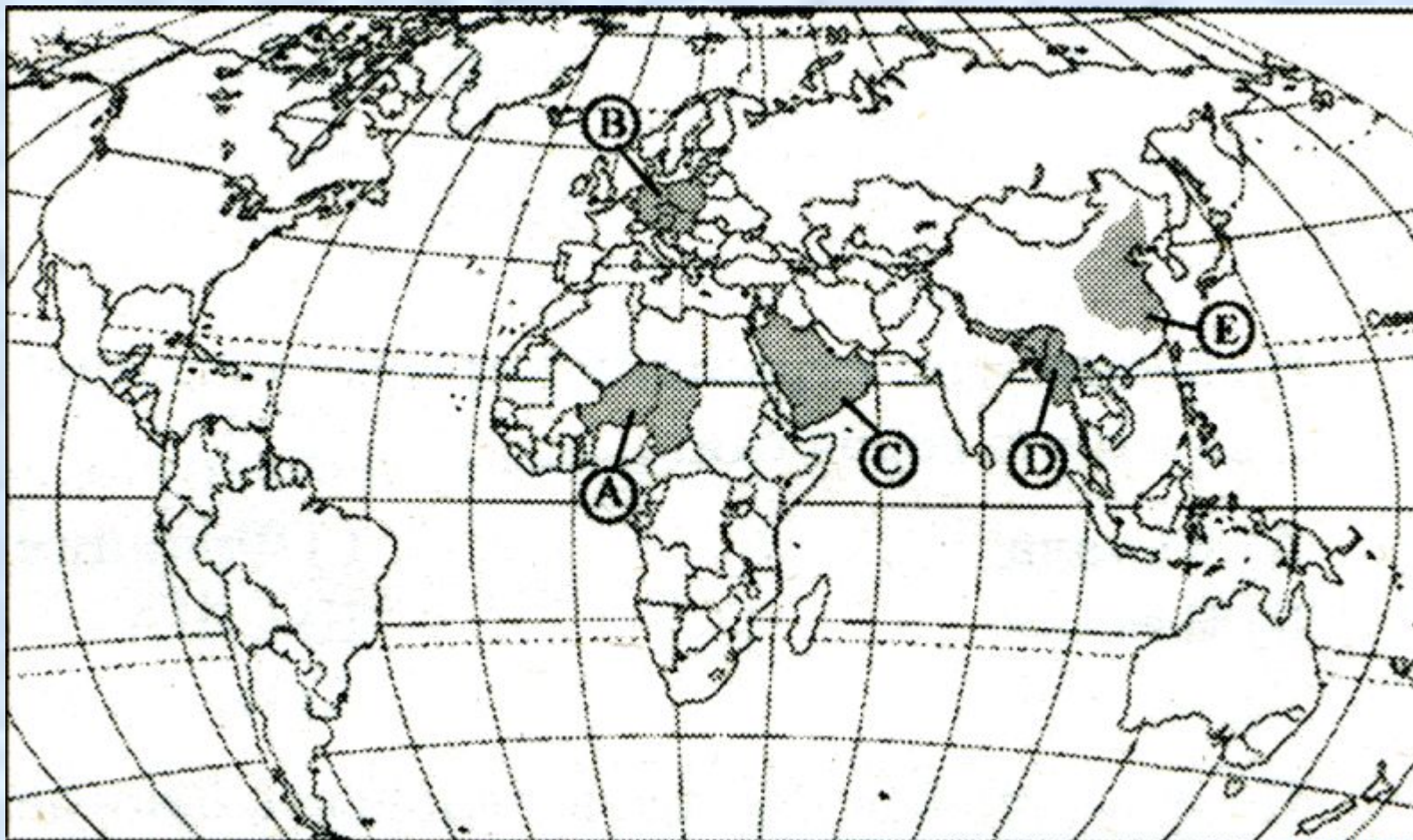
Наибольшие контрасты по размещению населения:

Египет (долина Нила – 4% от площади страны – проживает почти все население, плотность 1 700 ч/км²), Китай, Канада, Австралия, Россия, Бразилия

Укажите верные утверждения:

1. в Восточном полушарии сосредоточено больше населения, чем в Западном
2. население Северного полушария меньше населения Южного
3. большинство жителей Земли расселено на высотах до 200 м
4. средняя плотность населения в мире 30 ч/км²

Какие две территории имеют наименьшую плотность населения?



A
B
C
D
E

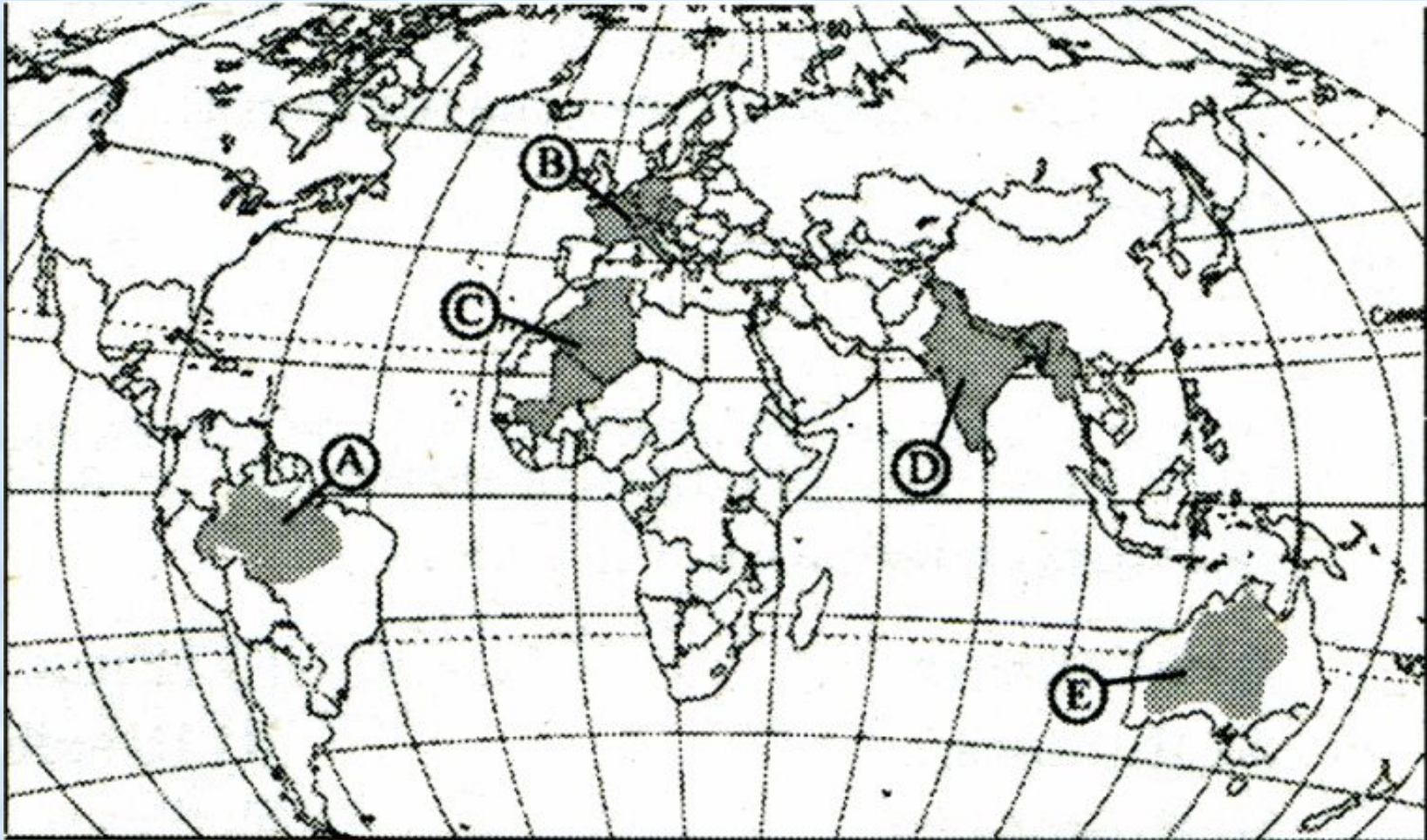
Выбрать три страны с максимальной плотностью населения:

1. ФРГ
2. Франция
3. Нидерланды
4. Греция
5. Болгария
6. Бельгия
7. Португалия
8. Норвегия
9. Швеция
10. Польша

Выбрать группу, в которой все страны имеют низкую плотность населения:

1. Оман, Парагвай, Бельгия
2. Вьетнам, Лаос, Камбоджа
3. США, Япония, Германия
4. Россия, Ливия, Монголия

Какие две территории имеют наибольшую плотность населения?



A
B
C
D
E