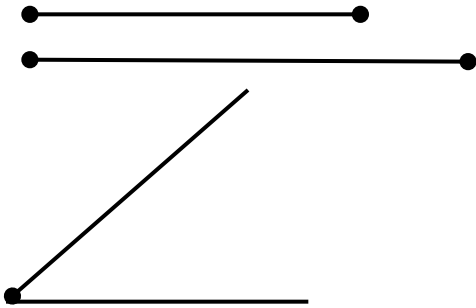


Фамилия, имя _____

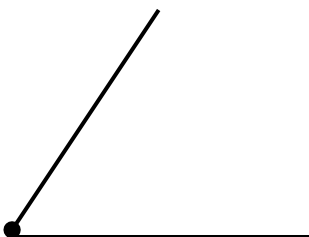
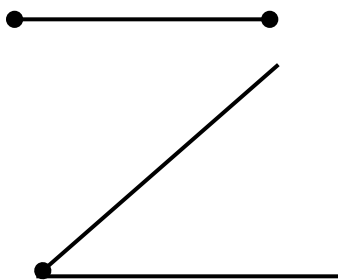
Дата _____

Класс _____

1. С помощью циркуля и линейки без шкалы делений нарисуйте треугольник по двум данным сторонам и углу между ними.



2. С помощью циркуля и линейки без шкалы делений нарисуйте треугольник по стороне и двум прилежащим к ней углам .



3. С помощью циркуля и линейки без шкалы делений нарисуйте треугольник по трем сторонам. Объясните, в каком случае выполнить данное задание невозможно.

