

Подготовка площадки


$$18 : (27 : 3) + 89$$

$$27 + (4 \times 3)$$

$$(30 + 6) : 3$$

Закладка фундамента

$$36 : X = 9$$




Возводим стены

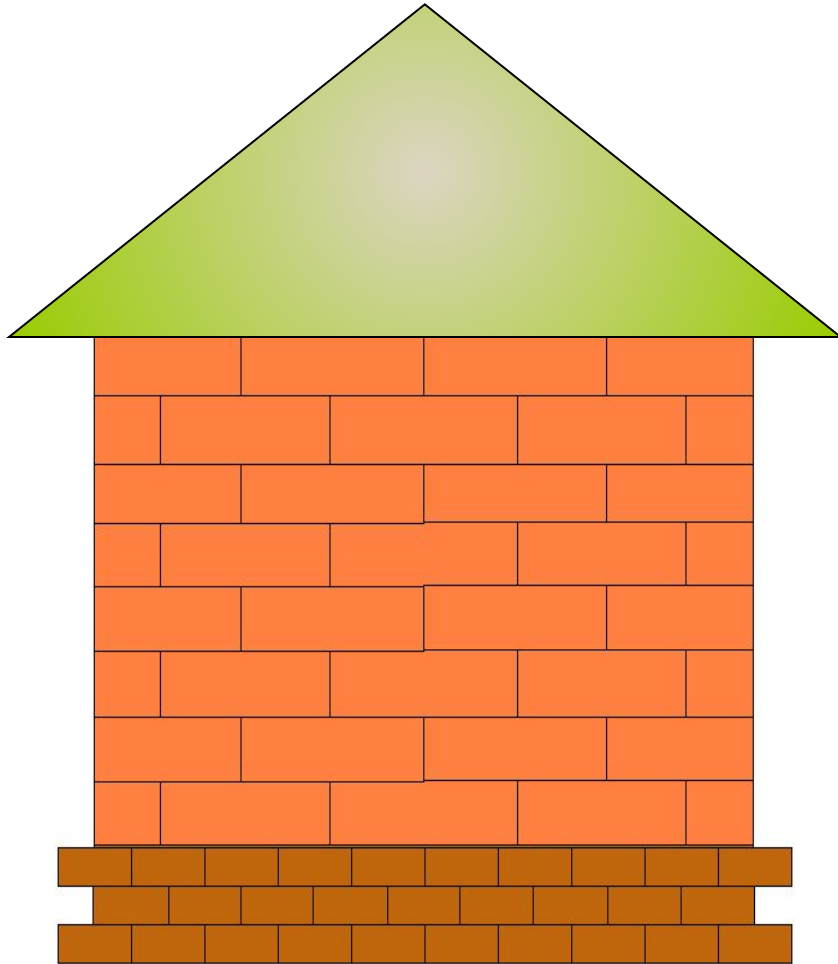
$$18 : (2 \times 3) + 9 =$$

$$27 : (45 - 36) + 47 =$$

$$9 * 4 - 3 * 6 =$$

$$4 * 6 - 3 * 7 =$$





Установка окон и дверей

Задача.

Высота оконной рамы 9 дм, а ширина в два раза больше, чем высота.

Чему равна ширина оконной рамы?

Сколько потребуется рейки для обналички?

Ребусы

СЗЖ

Р1А

40А

7Я

СКОЛЬКО ЗДЕСЬ ТРЕУГОЛЬНИКОВ?

