



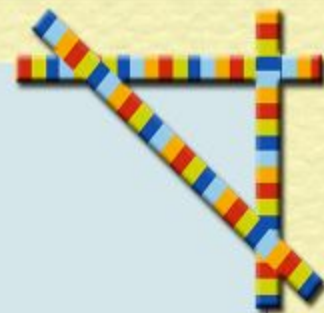



Гонышева Светлана Владимировна,
учитель начальных классов,
МБОУ «Чернореченская СОШ»,
Оренбургский район






**Мы день не спим,
Мы ночь не спим,
И день и ночь
Стучим, стучим.**



Единицы времени



Устный счёт

Арифметический диктант


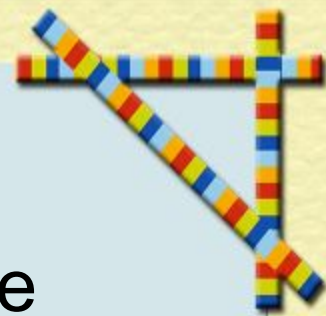
- а) Увеличьте 9 в 4 раза.
- б) Найди сумму 18 и 36.
- в) Полученный результат в пункте б) разделите на 6.
- г) Найди частное чисел 490 и 7.
- д) Произведение двух чисел равно 350, первый множитель 7. Найдите другой множитель.
- е) Делимое 4200, делитель 60, Чему равно частное?
- ж) На сколько 5600 больше 5300?
- з) Увеличьте 7600 на 10 000.



Лена получает журнал «Весёлые картинки». Он выходит один раз в месяц. Сколько номеров журнала Лена получит за год? За 2 года? За 3 года?






Газета выходит ежедневно. Сколько номеров газеты выйдут за 1 неделю, за 2 недели? Сколько выйдут в течение января? Мая?





- Какое время показывают часы?

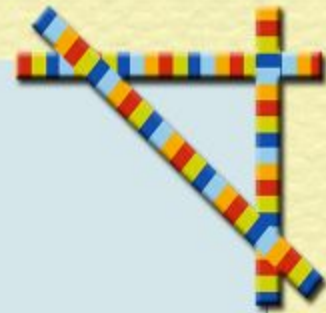


- Можно ли по эти часам определить время суток: утро или вечер, день или ночь?






Задача на смекалку.



Митя спросил у дедушки. Сколько ему лет. Дедушка ответил: «Когда проживу половину того, что прожил. И ещё 1 год, мне будет 100 лет.» Сколько лет дедушке?





I - январь

II – февраль

III – март

IV – апрель

V – май

VI – июнь

VII – июль


VIII – август


IX – сентябрь

X – октябрь

XI - ноябрь

XII - декабрь



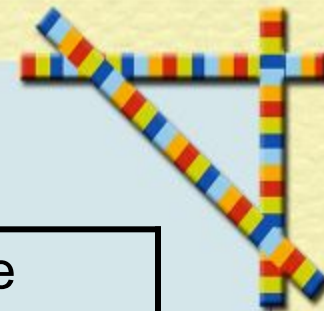


В году **365** или, в високосном,
366 суток.







Заполните таблицу



Количество снимков в 1 секунду	Время	Общее количество снимков
25 снимков	2с	
25 снимков	3с	
25 снимков	10с	
25 снимков	1 мин	



Спасибо за урок!

