


Правила дорожного движения



СОДЕРЖАНИЕ:

- Рекомендации для пешеходов
- Обязанности пассажиров
- Запомни!
- Внимание: дорога
- Помни!
- А ты знаешь, что..?
- Весёлый тест
- Задача

Рекомендации для пешеходов

- Пересекай проезжую часть только по пешеходным переходам;
- В местах, где движение регулируется, переходить проезжую часть следует только по сигналам светофора и регулировщика;
Не ослабляй внимания при желтом сигнале светофора.



Обязанности пассажиров

- Ожидайте общественный транспорт на посадочных площадках, а где их нет – на тротуаре или обочине.
- Посадку, а также и высадку производите только после полной остановки транспортного средства.
- Не стойте около дверей.
- Во время движения обеспечьте себе устойчивое положение – держитесь за поручни.
- Не читайте и не засыпайте во время движения.
- Не отвлекайте водителя разговорами.




Детские удерживающие устройства – жизнь для ребенка!



Кресло
поможет
избежать
травм при
резком
торможении

Запомни!



- После выхода из общественного транспорта переходи улицу только по пешеходному переходу, а если его нет, то после отхода автобуса, троллейбуса, когда дорога будет хорошо просматриваться в обе стороны.




Внимание: дорога...!

Тут шалить,
мешать народу

За – пре – ща –
ет – ся !

Быть примерным
пешеходом

Разрешается...



ПОМНИ!



- Зона остановки – опасное место для ребенка.



А ты знаешь, что...?

- **Очень опасно перебегать дорогу перед близко идущим транспортом.**



Весёлый тест

Вова Тормозян подошел к перекрестку и увидел, что светофор горит сразу тремя цветами: красным, желтым и зеленым, а в середине перекрестка размахивает белым жезлом милиционер. Как поступит Вова – знаток ОБЖ ?

- А. Подождет, пока зажжется четвертый цвет – синий.
- Б. Решит, что попал на праздничную иллюминацию, немного посмотрит ее и пойдет домой.
- В. Перейдет перекресток, как захочет.
- Г. Перейдет перекресток, подчиняясь сигналам регулировщика.



ЗАДАЧА



На расстоянии 16 метров от пешеходного перехода одновременно затормозили два автомобиля. Тормозной путь первого составил 13 метров, второго – на 4 метра больше. Кто из водителей будет считаться нарушившим правила после остановки и почему?

