






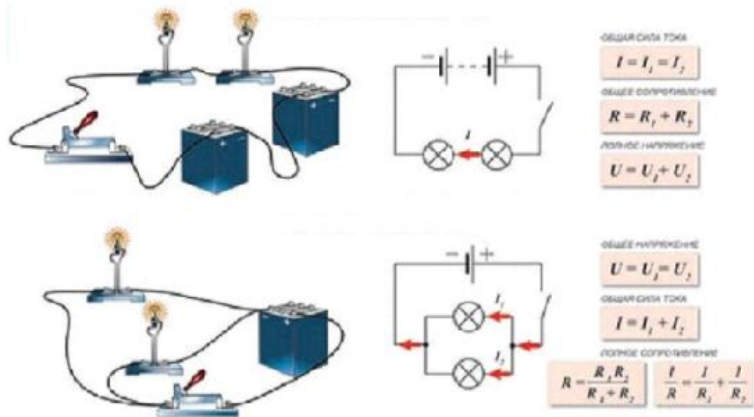
Задачи по темам «Закон Ома,
сопротивление, соединение
проводников»»

Назовите учёных





Назовите виды соединения проводников, показанных на рисунке



Идёт сборка электрических цепей



Сначала мальчик

Затем девочка





Собрать по верхней схеме электрическую цепь, соблюдая следующее условие:

цепь надо собрать **вслепую!!!**

Собираем цепи как последовательные,
так и параллельные
интересным способом



Сначала девочка

Затем мальчик



Задача



Определить массу железного
провода сопротивлением
 6 Ом и сечением 2 мм^2

Кроссворд на дорогу:



1									
		2							
		3							
4									
5									
		6							
		7							



1. Мельчайшая частица вещества
2. Единица измерения работы
3. Другое название сопротивления
4. Переход жидкости в пар по всему объёму
5. Физическая величина, которую измеряет спидометр авто
6. Итальянский физик, создавший первый гальванический элемент
7. Прибор для определения влажности воздуха.