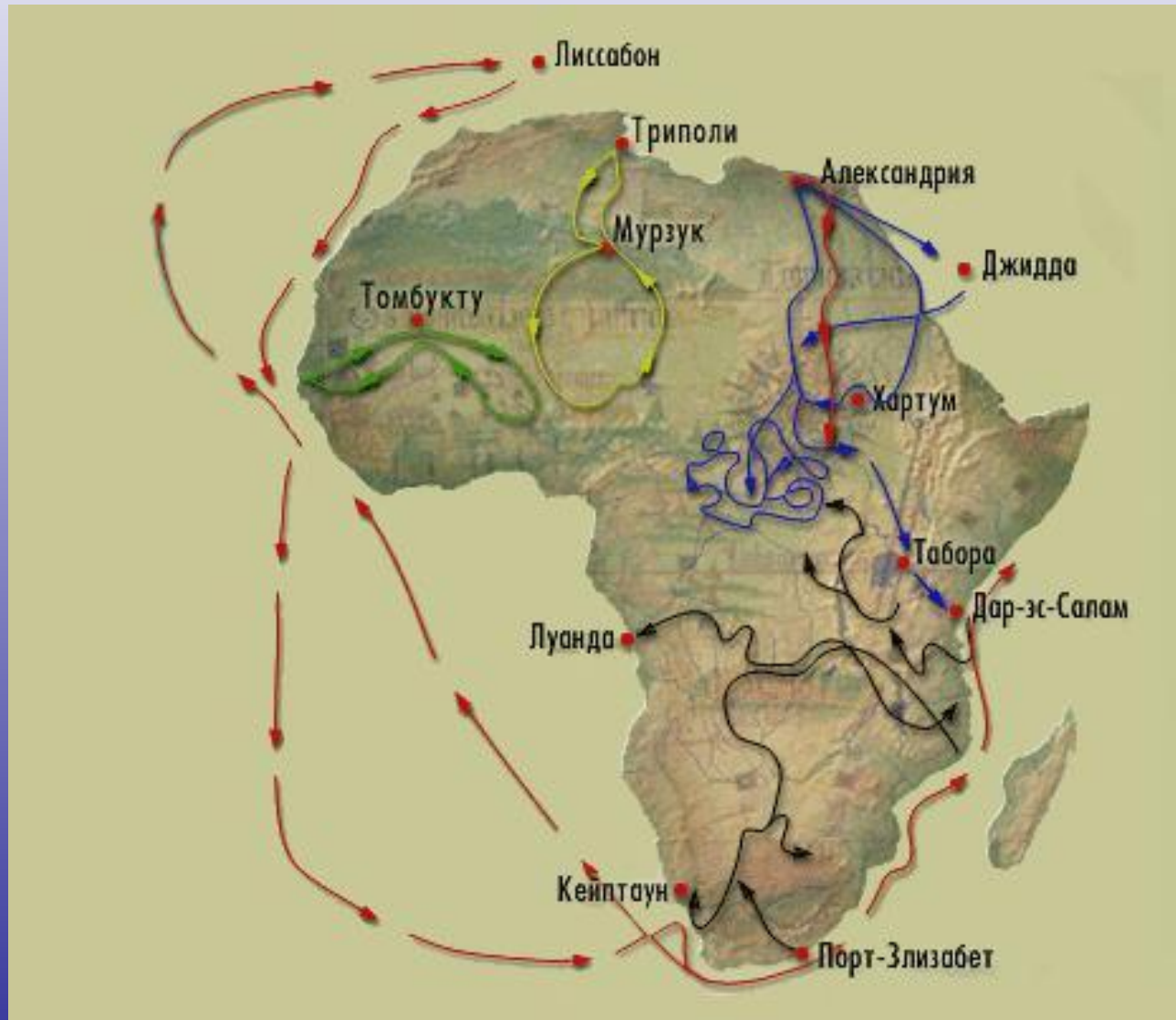


Африка

Остановка «Историческая»



Васко да Гамма.



- В 1498г.этот мореплаватель обогнул Южную Африку, прошел вдоль восточного побережья материка, первым из европейцев пересек Индийский океан и достиг берегов Индостана.

Д.ЛИВИНГСТОН.



- Он пересек Южную Африку с запада на восток, исследовал реку Замбези, открыл на ней красивый водопад, названный им Виктория; описал верхнее течение реки Конго (Заир), озера Ньяса. Он очень хотел найти истоки Нила-великой реки, однако смерть помешала осуществить этот замысел.

Г.М.СТЭНЛИ.



- В 1874 г. была организована англо-американская экспедиция под руководством этого исследователя. Путешественникам удалось завершить исследование озер Виктория и Танганьика, открыть древний горный массив Рувензори с убеленными снегами вершинами, исследовать верхние течения рек Конго и Нила.

В.В.Юнкер.



- Он путешествовал по Центральной и Восточной Африке в конце XIX в., собрал интересные сведения о природе и жизни населения, проводил топографические работы, вел гидрологические и метеорологические наблюдения.

Остановка "Географическое положение"



Гибралтарский пролив.



Начинаем наше путешествие в проливе
- это своеобразные «ворота»,
соединяющие Атлантический
океан с его внутренними морями.

Атлантический океан.

Выходим в океан, который омывает западное побережье материка.



Канарские острова.

Проплываем мимо островов, которые расположены в 100-120 км от берегов Марокко. Издалека можно увидеть очертания огромной горы- это знаменитый действующий вулкан Тенерифе. В здешних лесах живет множество желтых канареек, поэтому острова так и называли.



Индийский океан.

Огибаем крайнюю южную точку Африки и оказываемся в океане.



Баб –эль- Мандебский пролив.

Проплываем у берегов полуострова Сомали, проходим Аденский залив и входим в пролив.



Красное море.

Теперь мы плывем по самому
соленому на земле морю.



Суэцкий канал.

**Этот канал
позволяет нам
оказаться в том
море,
где начиналось
наше
путешествие.**



Выполните тест.

1. В каком направлении располагается Африка относительно Евразии?

- а) к западу;
- б) к юго-западу;
- в) к северу.

2. Какой пролив отделяет Африку от Европы?

- а) Мозамбикский;
- б) Гибралтарский;
- в) Берингов.

3. Какой мыс Африки является ее крайней южной точкой?

- а) Игольный;
- б) Альмади;
- в) Рас-Хафун.

4. Как называется самый крупный остров у берегов Африки?

- а) Гренландия;
- б) Новая Гвинея;
- в) Мадагаскар.

5. Самый большой полуостров Африки?

- а) Аравийский;
- б) Сомали;
- в) Индостан.

6. Какой канал является условной границей между Африкой и Евразией?
- а) Суэцкий;
 - б) Панамский;
 - в) Каракумский.
7. Какой океан оказывает наибольшее влияние на природу Африки?
- а) Атлантический;
 - б) Индийский;
 - в) Тихий.
8. Какой исследователь завершил открытие берегов материка при своем плавании вокруг Африки?
- а) Ливингстон;
 - б) Васко да Гама;
 - в) Вавилов.
9. Какой исследователь пересек Южную Африку, открыл верховья р. Конго, водопад Виктория?
- а) Ливингстон;
 - б) Васко да Гама;
 - в) Вавилов.
10. Как называется крупный залив у берегов Африки?
- а) Мексиканский;
 - б) Персидский;
 - в) Гвинейский.

Проверьте правильность ваших ответов по контрольной карте.

Контрольная карта

Проверьте правильность выполнения тестового задания

1 – б;	3 – а;	5 – б;	7 – б;	9 – а;
2 – б;	4 – в;	6 – а;	8 – б;	10 – в

Оцените вашу работу.

Критерии оценок:

9-10 правильных ответов – вы успешно справились с работой – 5 баллов.

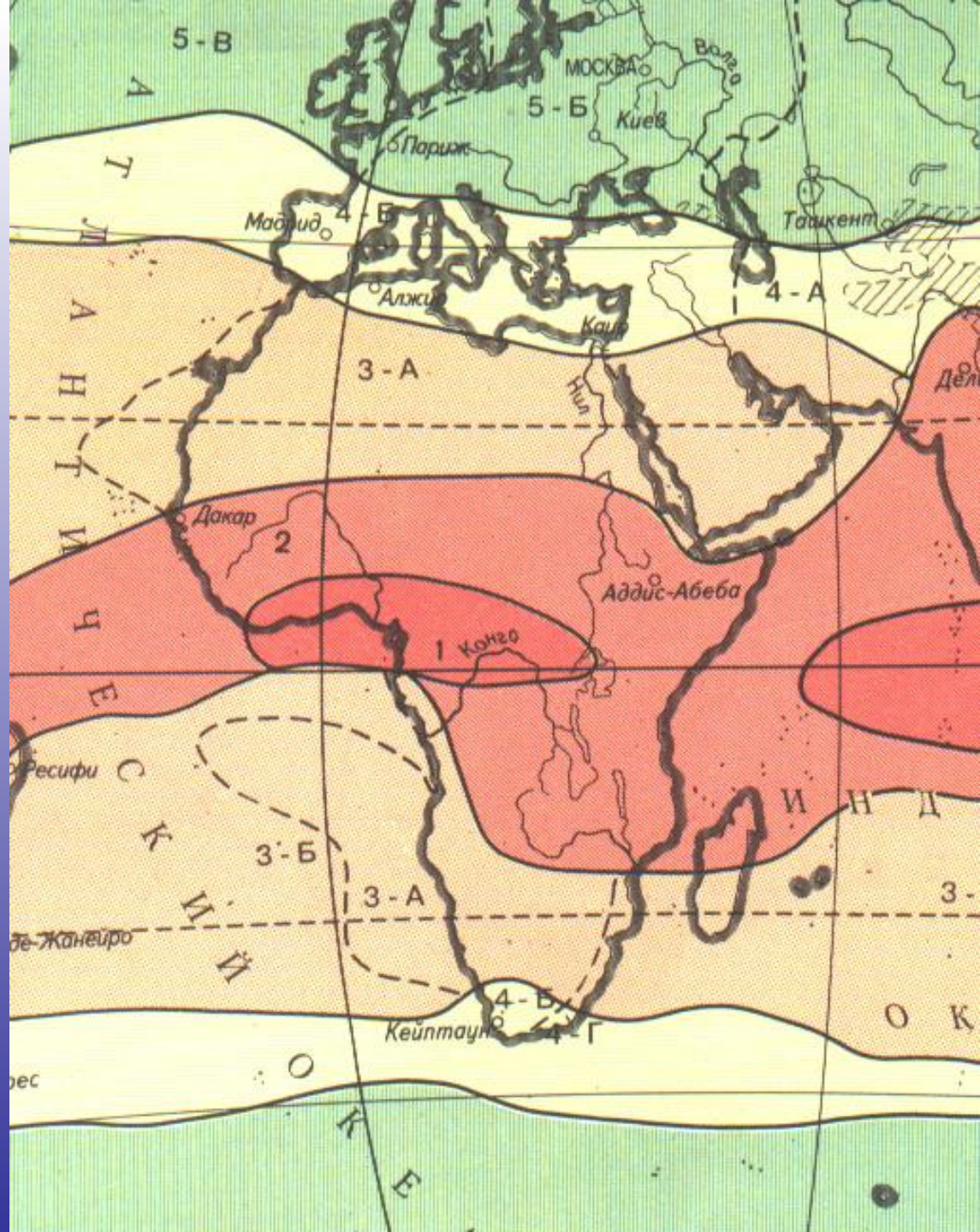
7-8 правильных ответов- вы неплохо усвоили материал – 4 балла.

4-6 правильных ответов – вы были не слишком внимательны – 3 балла.

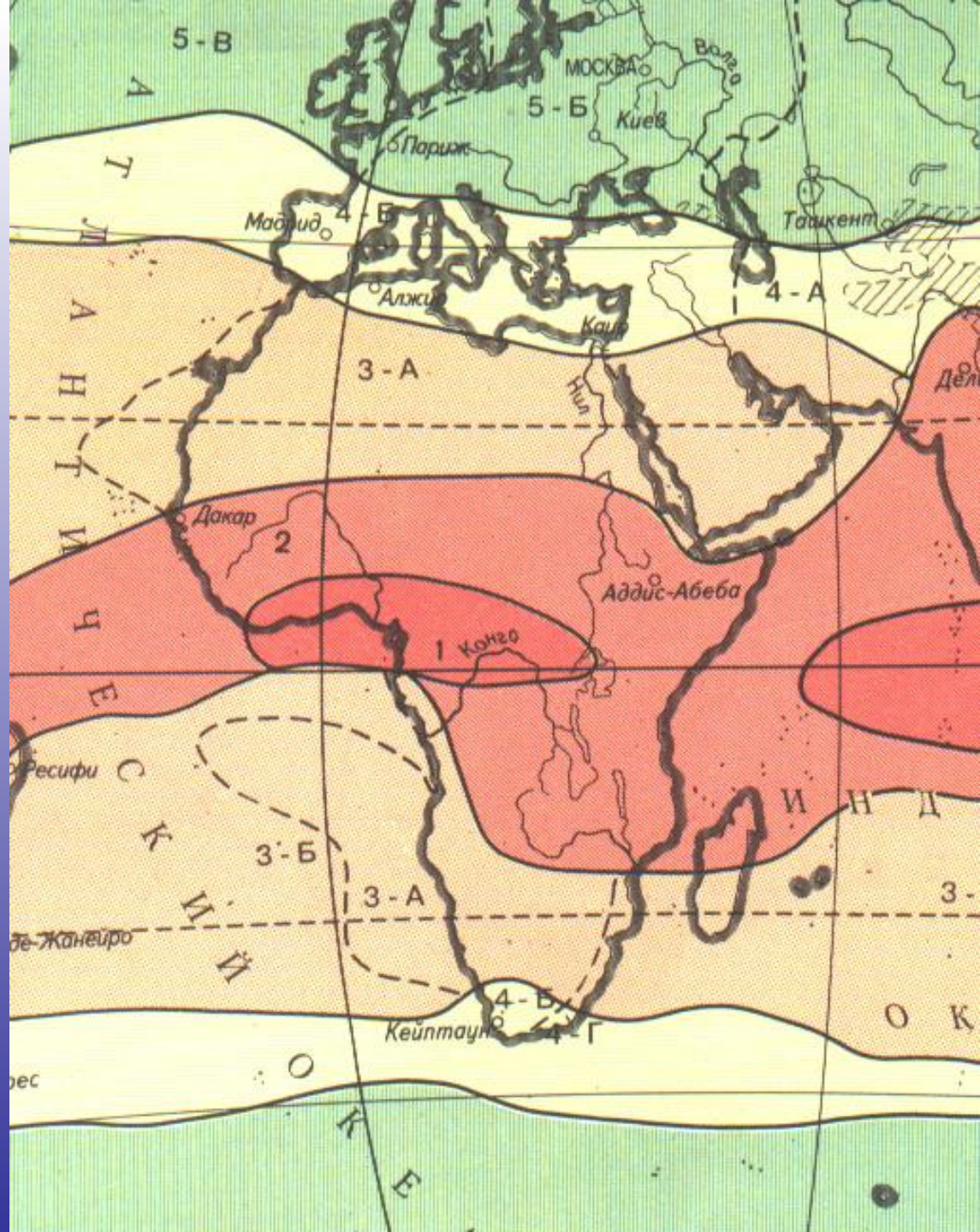
менее 4 правильных ответов – к сожалению, вы плохо усвоили тему.

Остановка «Климатическая».

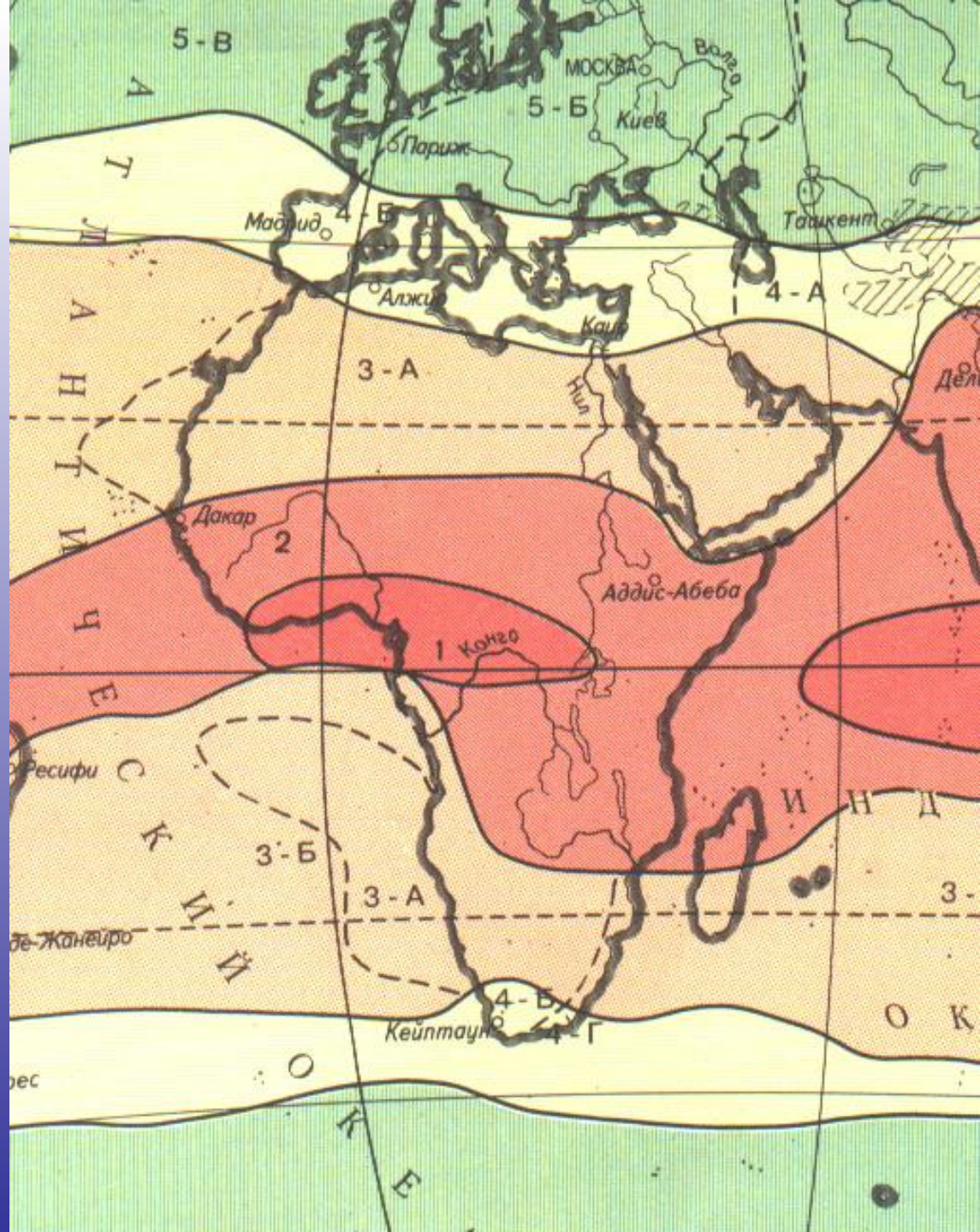
Определите
названия
климатических
поясов.



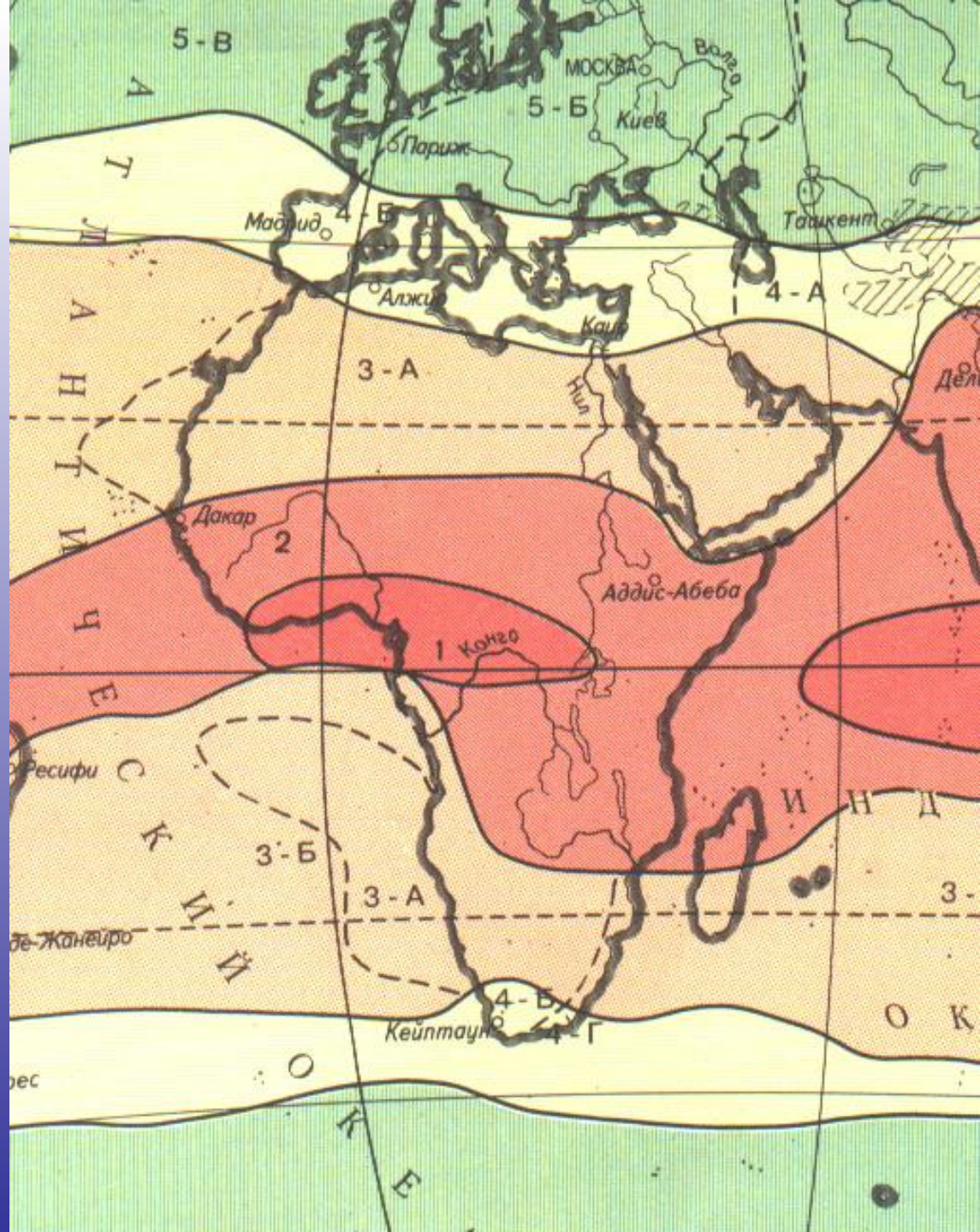
**Температура
круглый год
составляет
+26..+28
градусов,
за год выпадает
более 2000 мм
осадков,
которые
равномерно
распределяются
в течение года.**



Средняя годовая температура около 20 градусов, проявляются ее сезонные колебания. Выделяются две климатические области: средиземноморско го типа климата и с равномерным увлажнением.



Солнце нагревает поверхность камней и песка до 70 градусов, температура воздуха поднимается до 40 градусов и выше. В связи с отсутствием облаков ночью поверхность земли и воздух быстро охлаждаются. Поэтому колебания суточных температур очень большие.



Экваториальный

Субтропический

Тропический

Остановка «Водная»

Цифровой диктант

Ответы

ВОПРОС
ОТВЕТ

9-0.
8-1.
7-0.
6-0.
5-1.
4-0.
3-0.
2-1.
1-0.

Расселить животных по природным зонам.

- 1.Слон 4.Мартышка 7.Горилла
- 2.Верблюд 5.Зебра 8.Антилопа-гну
- 3.Жираф 6.Лисица-фенек 9.Скорпион

Влажные экваториальные леса

Саванны и редколесья

Пустыни

Ответ:

- Влажные экваториальные леса: 4, 7.
- Саванны и редколесья: 1, 3, 5, 8.
- Пустыни: 2, 6, 9