

Конкурс

«Ох, уж эта
математика»



2

0

3

5

4

Первый тур


*Первый тур мы начинаем,
Победителей узнаем.*

*Здесь загадки и шарады,
За разгадку – всем награды.*





1

- ***Шла старушка в Москву, а навстречу ей три старика. Сколько человек шло в Москву?***
- 

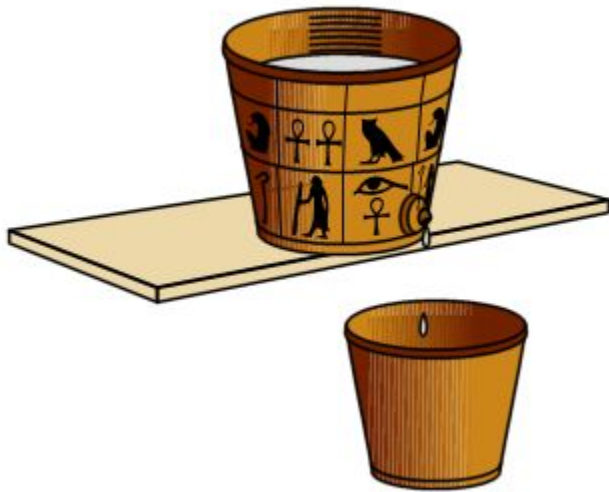
2

Что легче : пуд ваты или пуд железа ?



3

Сколько горошин может войти в пустой стакан ?



4

- **К 7 прибавить 5. Как правильно записать: «одиннадцать» ил. «адиннадцать»?**

?

?

?


?

?



5

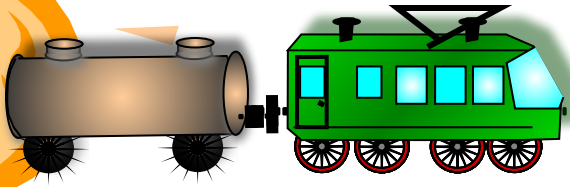
- **Спутник Земли делает один оборот за 1 ч 40 мин, а второй оборот за 100 мин. Как это получается?**



6

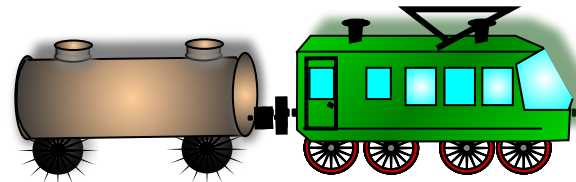
**Двое играли в шахматы 4 часа.
Сколько времени играл
каждый?**

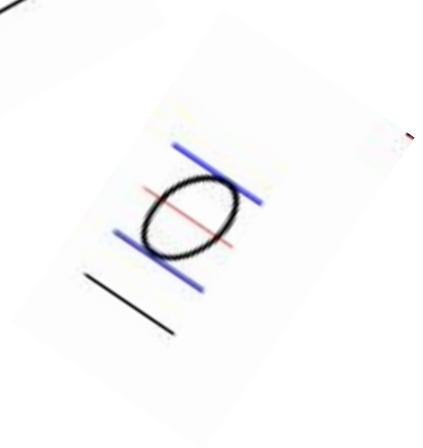




7

- Из Москвы в Петербург вышел поезд со скоростью 60 км/ч , а из Петербурга в Москву вышел второй поезд со скоростью 70 км/ч . Какой из поездов будет дальше от Москвы в момент встречи?





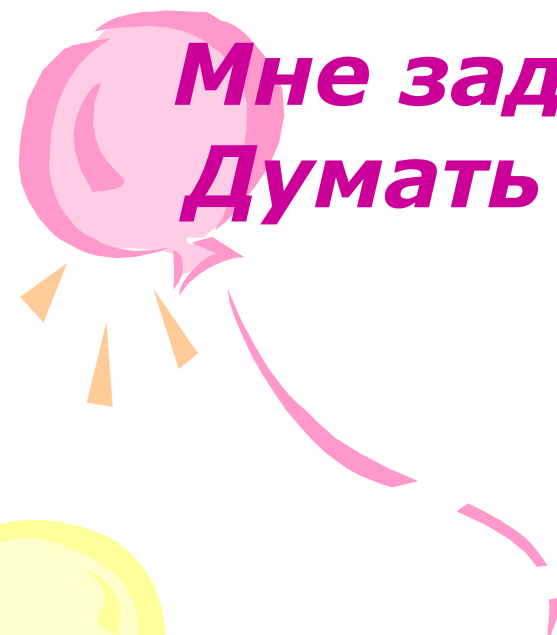
Второй

т.



***Тур второй: пусть всякий знает,
Кто же лучше вычисляет?***

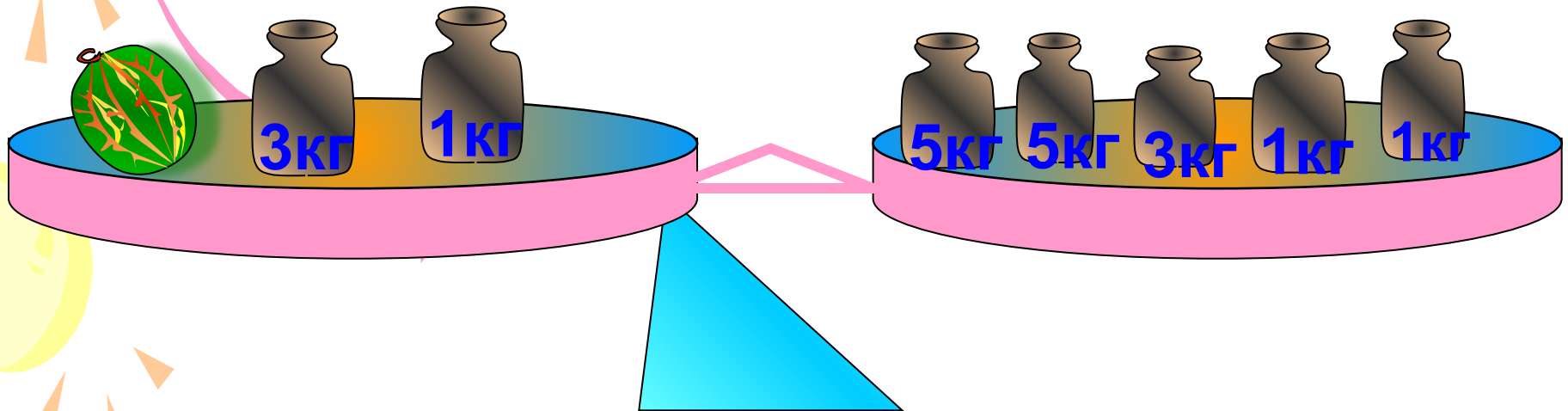
***Мне задачки прочитать, Вам же
Думать и считать !***



Задача 1

● **Сколько стоит арбуз?**

1 кг – 2 рубля



Задача 2

- **На озере росли лилии. Каждый день их число удваивалось, и на 20-й день заросло все озеро. На какой день заросла половина озера?**



Задача 3

- **В мешке три пуда муки.
Сколько нужно заплатить за муку, если один килограмм муки стоит 7 рублей?**




Третий тур

*Третий тур мы начинаем,
Капитанов приглашаем.
Будут трудные задачи,
Пожелаем им удачи!*



1

- ***В одной семье у каждого из трех братьев есть сестра. Сколько детей в семье?***



2

- ***Петух, стоя на одной ноге ,
весит 5 кг. Сколько он будет
весить, если встанет на обе
ноги ?***



3

**Шоколад стоит 10 рублей, и еще
половина шоколадки. Сколько
стоит шоколадка?**



4

- **Есть две сковородки. На каждой помещается один блин. Надо пожарить три блина с двух сторон . Каждая сторона блина жарится 1 мин. За какое время можно это сделать ?**



Четвертый тур

Вы, ребята все устали.

Много думали , считали.

Отдохнуть уже пора!

Так четвертый тур – «Игра»!





1. «Каждой руке свое дело»

***Правая рука чертит
окружность, левая –
треугольник.***



2

» Нарисуй из цифр человека.



**Считаем до 30, вместо
чисел , кратных трем,
произносим: «Ай, да я»**

The image features three balloons: an orange one at the top left, a pink one in the middle left, and a yellow one at the bottom left. Each balloon has a string and is surrounded by small, triangular streamers. The text is written in a bold, dark red, italicized font.

***Вот закончилась игра,
Результат узнать пора.***

***Кто же лучше всех
трудился***

И в турнире отличился?