


Урок 1. Давайте познакомимся




На уроке у вас должны быть

- Учебник
Математика-5(1
часть)
- Тетрадь тонкая (для
домашних заданий)
- Тетрадь толстая (для
классных работ)
- Рабочая тетрадь
- Ручка, карандаш,
линейка, цветные
фломастеры



Математическая разминка

- Повторим таблицу умножения
- Как умножать на 9?
- Как умножать на 11?



Задача «Рассказ Незнайки»

□ Я встал пораньше, в 4 кг утра. Позавтракал плотно, выпил 1 км молока. Потом отправился на озеро, расстояние до него немалое, 5 градусов. Утром было прохладно, температура всего 10 часов тепла. Поэтому я шел быстро, со скоростью 6 метров. Пришел, закинул удочки, не прошло и 20 см, как я поймал первую рыбину. Большую – длиной 50 минут и весом 3 км/ч. Отличная получилась уха!»



Еще задача

- Кто знает как записать число 37 при помощи пяти троек и знаков арифметических действий

$$3\ 3\ 3\ 3\ 3=37$$



Судоку

10		
	7	
	11	

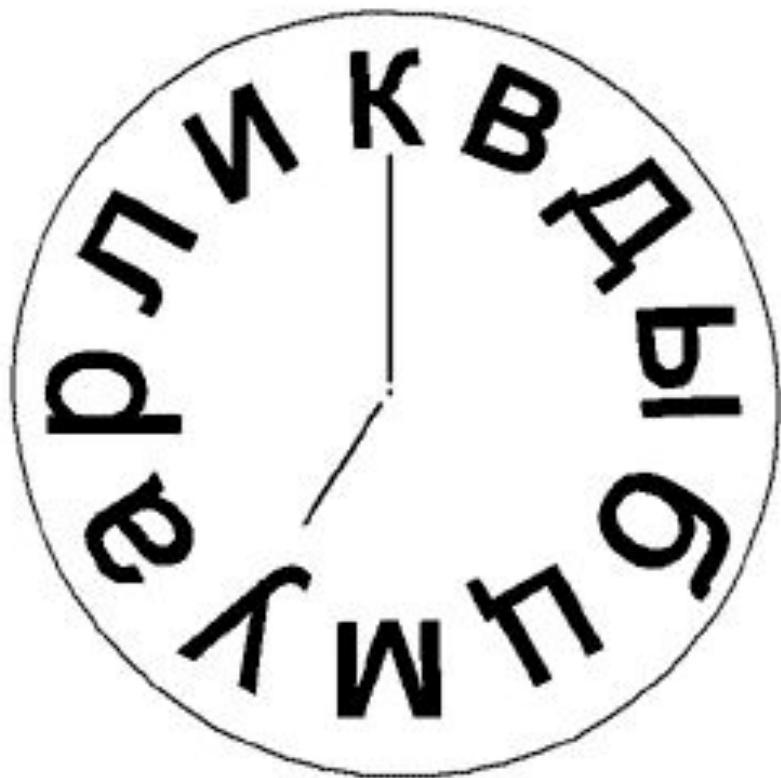
- Расставьте числа 3,4,5,6,8,9 так, чтобы сумма трех чисел в любом направлении была равна 21.
-

Задача про котят:

- – В квартирах №№ 1, 2 и 3 жили три котенка: белый, черный и рыжий. В квартирах №№ 1 и 2 жил не черный котенок. Белый жил не в первой квартире. В какой квартире жил какой котенок?



Как звали белого котенка?



- 1) $324:54=$
 - 2) $91:13=$
 - 3) $126:14=$
 - 4) $800:80=$
 - 5) $186:62=$
 - 6) $144:12=$
 - 7) $200:25=$
-

ЗВОНКИ

- Мы привыкли, что вся школьная жизнь связана со школьным звонком. Он говорит нам, когда бежать на урок, он дает разрешение на перемену, он так не вовремя звучит на контрольной... А сколько всего звонков нам предстоит услышать за 11 лет учебы?
 - Каждый день у нас 5 уроков.
 - На каждый урок приходится по 2 звонка.
 - А за 6 учебных дней ?
 - В году 34 учебных недель...
 - За один учебный год звонок прозвенит нам...
 - А за 11 лет учебы мы его услышим... раз
-

Домашнее задание

- 1) $КОШКА + МЫШКА = ДРУЖБА$ Помогите коту Леопольду найти слово ДРУЖБА, если в этом ребусе использованы все десять цифр и разным буквам соответствуют разные цифры, кроме букв Ж и Ш, которые обозначают одну и ту же цифру.
 - 2) Разделите прямоугольник тремя прямыми на 7 частей.
-