

«Звездный миг»


(Географическая игра)

Конкурс 1

(отборочный)



- Самая высокая точка земной поверхности



- Самый жаркий материк



- Самое толстое дерево в мире



- Самая тяжелая жидкость на нашей планете



- Самая глубокая впадина Мирового океана



- Самая большая пустыня в мире



- Какое государство занимает весь материк?



- Самый большой полуостров в мире



- Кто осуществил первое кругосветное путешествие?



- Самое мощное течение в мире



• Сколько областей в России?



- Самое маленькое по площади государство в мире



- Самая маленькая птичка



- Самая большая змея в мире



- Самый холодный материк



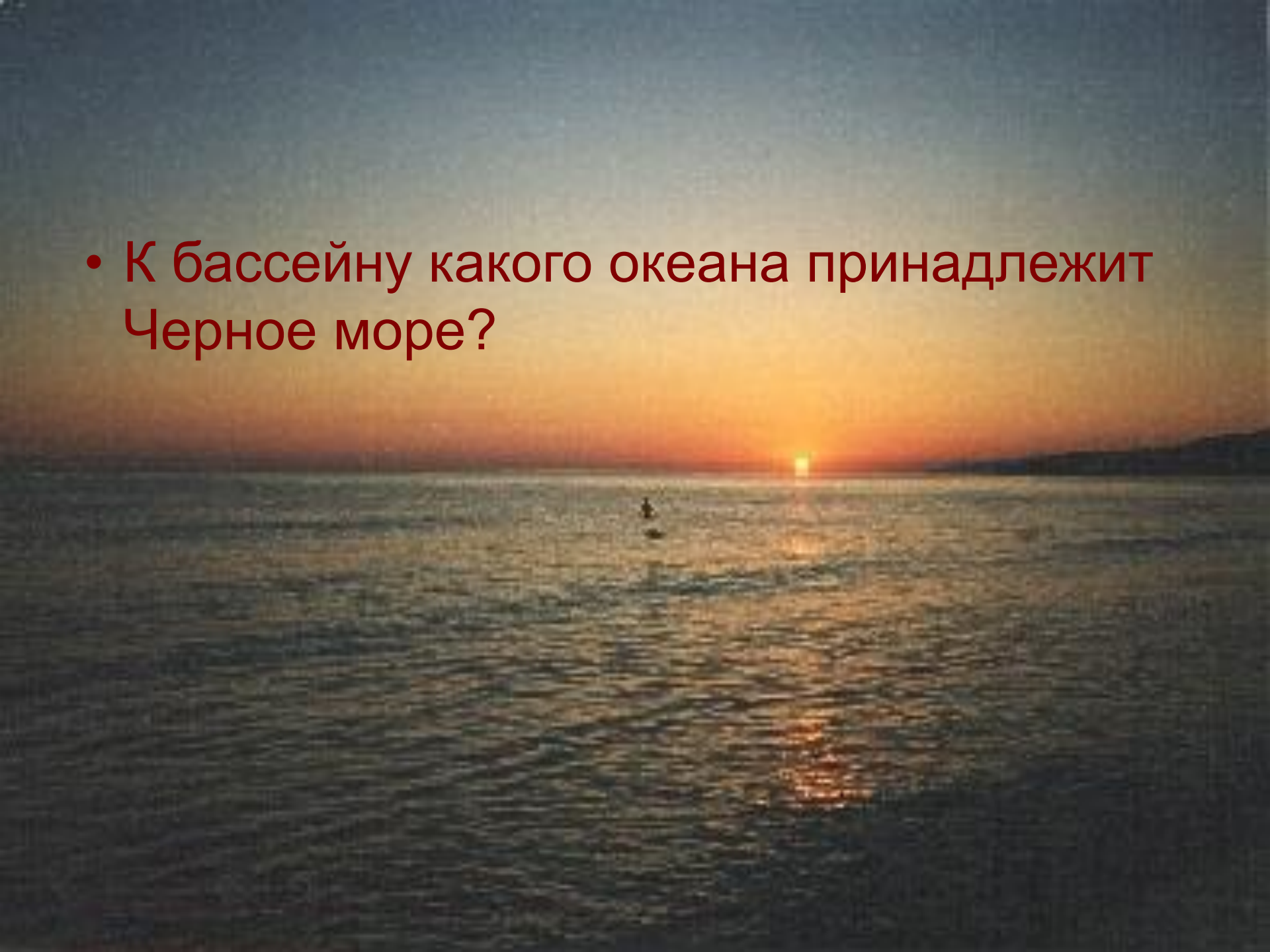
- В какой природной зоне мы живем?



- Самая высокая точка России



- К бассейну какого океана принадлежит Черное море?



- Самое соленое море в мире



- 
- Каспийское- море или озеро?

- Самый большой остров в мире



- Какое млекопитающее рождает самого маленького детеныша?

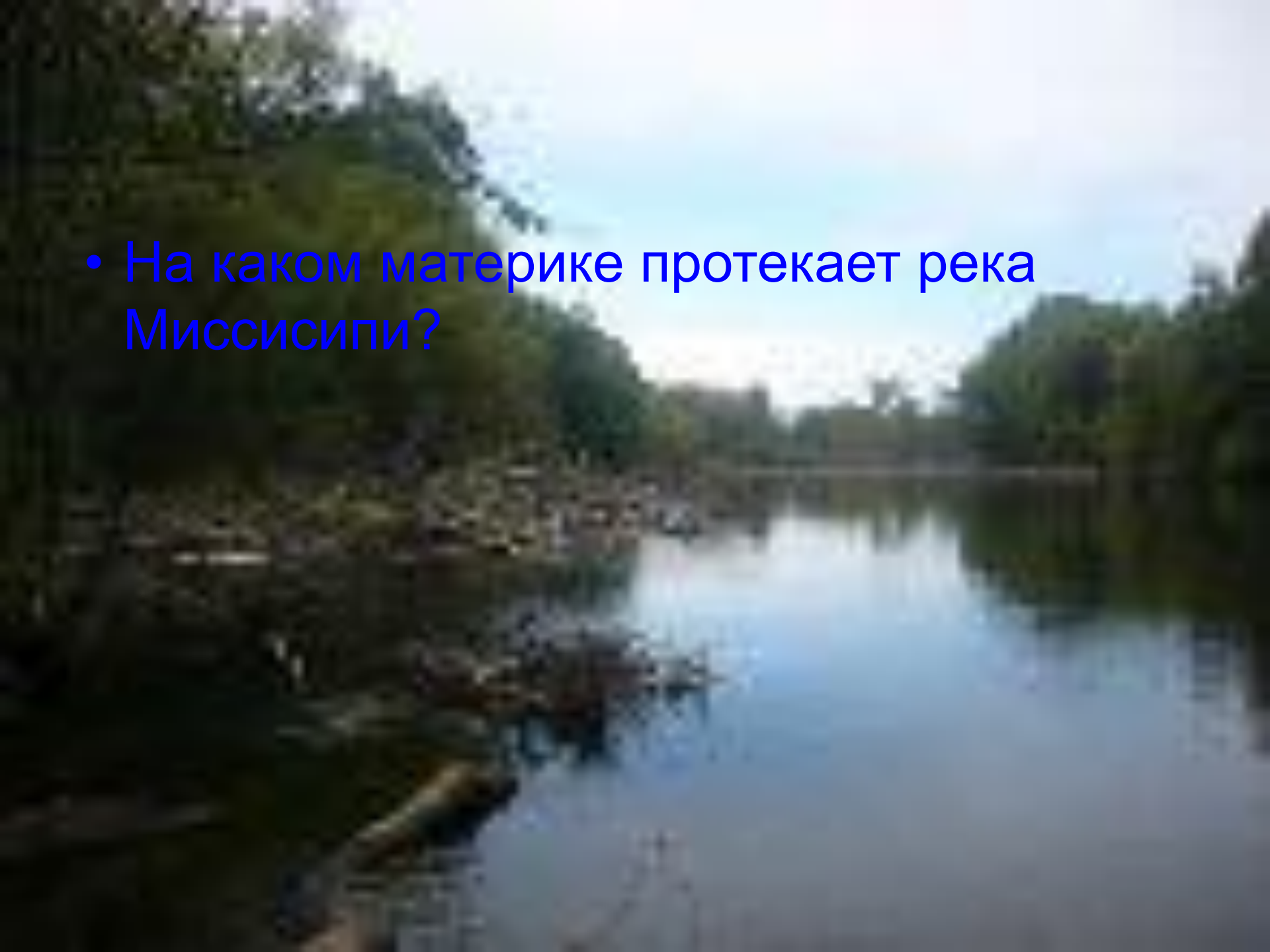
- Какие горы называют «медными»?



- Какая река самая полноводная в мире?




- На каком материке протекает река Миссисипи?



Конкурс 2





Перед вами географические
объекты. Один из них лишний.
Какой именно?

- I: Мадагаскар, Ява, Новая Гвинея, Сомали
- II: Альпы, Драконовы, Анды, Сахара
- III: Саргассово, Нил, Нигер, Дунай

Конкурс 3




Перед вами названия горных систем. Все они стоят в порядке уменьшения высоты. В порядке допущена ошибка. Необходимо поменять названия местами.

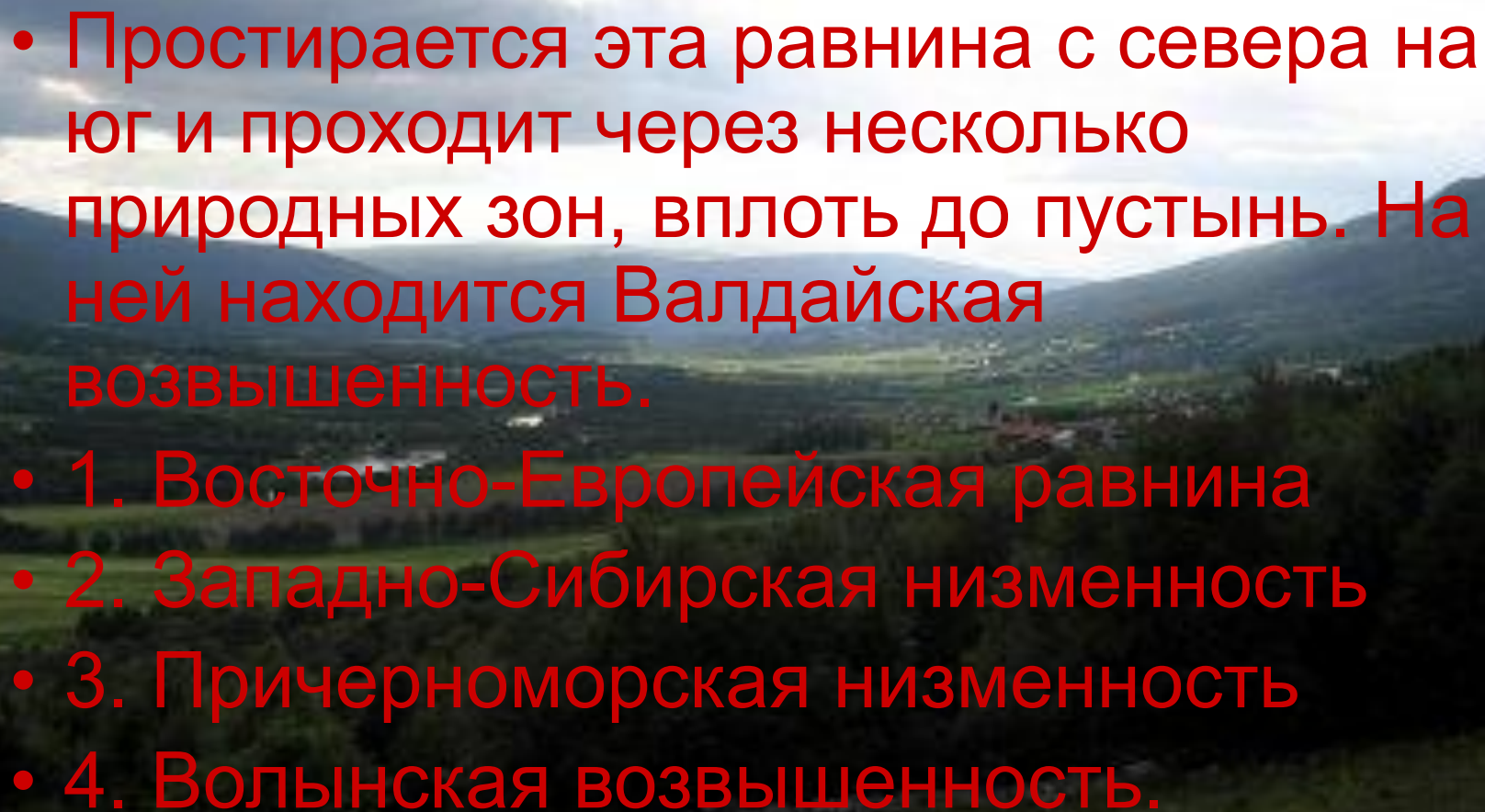
- Анды, Гималаи, Карпаты, Крым

Конкурс 4



A landscape photograph showing a wide valley with green fields and a small town in the distance. The background features rolling mountains under a sky filled with large, grey clouds. The text is overlaid in the center of the image.


Перед вами названия равнин.
Для какой равнины характерно
это описание?

- 
- Простирается эта равнина с севера на юг и проходит через несколько природных зон, вплоть до пустынь. На ней находится Валдайская возвышенность.
 - 1. Восточно-Европейская равнина
 - 2. Западно-Сибирская низменность
 - 3. Причерноморская низменность
 - 4. Волынская возвышенность.

- Эта низменность в древние времена была морским дном. Расположена полосой до 120-150 км вдоль Черного и Азовского морей от устья Дуная на западе до реки Кальмиус на востоке
- 1. Восточно-Европейская равнина
- 2. Западно-Сибирская низменность
- 3. Причерноморская низменность
- 4. Волынская возвышенность

Конкурс 5



A satellite photograph of the Mediterranean Sea region, showing the sea, surrounding landmasses, and some cloud cover. The text is overlaid in the center.

Перед вами названия
проливов:

- 
- A satellite view of Earth showing the Atlantic Ocean, Europe, and Africa. The ocean is dark blue, and the land is brown and green. The Earth's curvature is visible at the top left.
- 1. Магелланов
 - 2. Берингов
 - 3. Баб-эль-Мандебский
 - 4. Босфор
 - 5. Ла-Манш
 - Какие проливы соединяют два океана?
 - Какой пролив отделяет два полуострова?
 - Какой пролив разъединяет два материка?
 - Какой пролив разделяет две европейские страны?

Конкурс 6



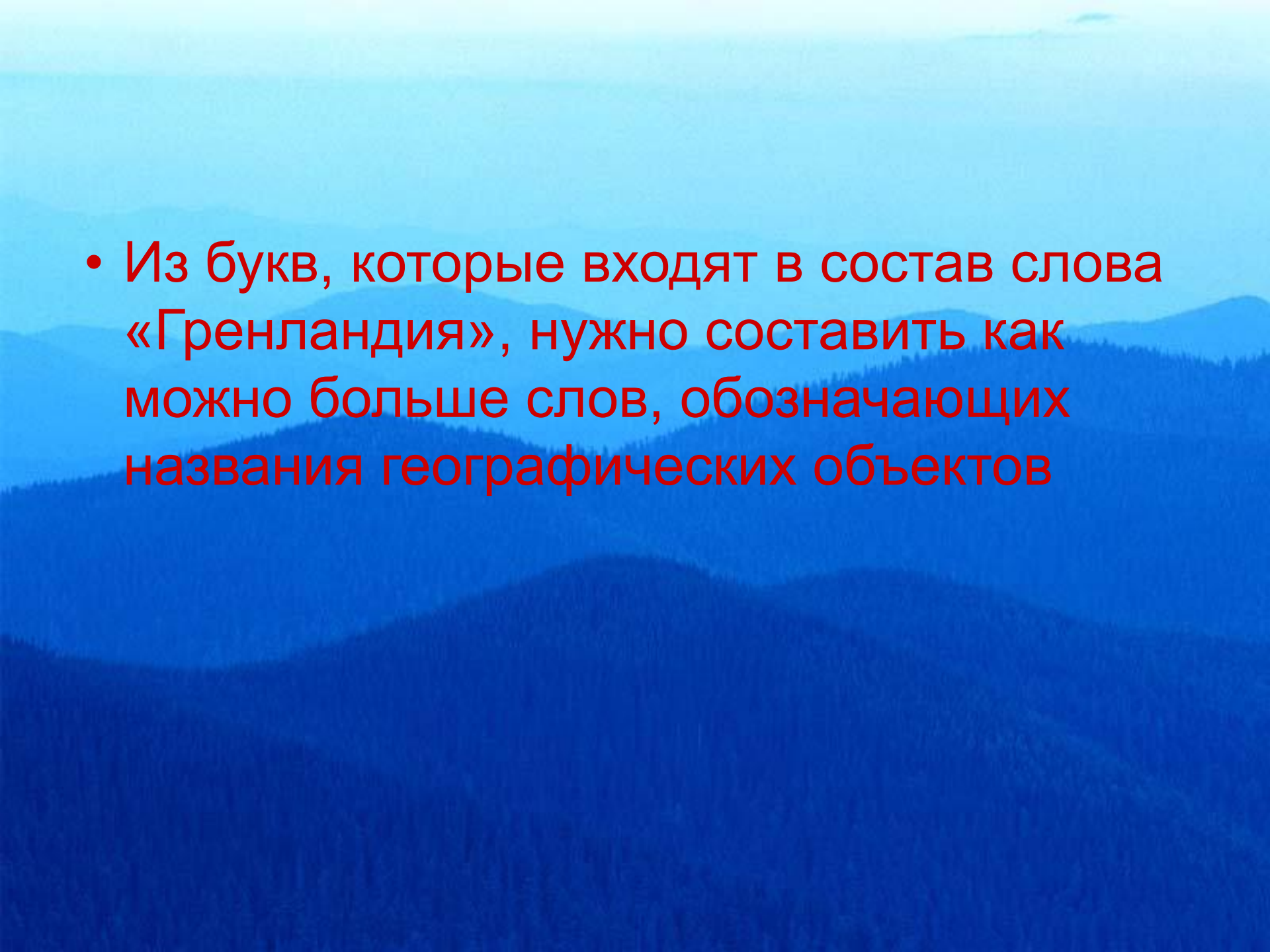
Перед вами названия морей:

- 1. Белое море
 - 2. Желтое море
 - 3. Черное море
 - 4. Красное море
- Необходимо расположить их согласно географическому положению с севера на юг



Конкурс 7



- 
- The background of the slide is a monochromatic blue-tinted landscape. It features a series of rolling hills and mountains, with the foreground showing a dense forest of evergreen trees. The sky is a pale, hazy blue, suggesting a misty or overcast day. The overall mood is serene and natural.
- Из букв, которые входят в состав слова «Гренландия», нужно составить как можно больше слов, обозначающих названия географических объектов