

г. Москва

школа № 531


ученики 7"А"

класса.

A decorative graphic on the left side of the page features three balloons: a light green one at the top, a light blue one in the middle, and a light purple one at the bottom. Each balloon is attached to a streamer that curves downwards and to the right. Small yellow triangular shapes are scattered around the balloons, resembling confetti or streamer details.

**Ерёмичева
Валерия
и
Гнедич
Алина.**

Задачи на проценты.



ЗАДАЧА




В прошлый Новый год дед Мороз подарил детям 10500 подарков . В этом году он подарил на 20% подарков меньше, чем в прошлый год.

ВОПРОС:

Сколько подарков дед Мороз подарил детям за два года?

РЕШЕНИЕ




1) $10500 : 100 = 105$ (подарков) - 1%

2) $105 * 20 = 2100$ (подарков) - 20%

3) $10500 - 2100 = 8400$ (подарков) - в этом году

4) $10500 + 8400 = 18900$ (подарков) - за два года

ОТВЕТ



Ответ : за два года
дед Мороз подарил
18900 подарков.

ЗАДАЧА № 2



В магазин привезли 7 литров
молока.

ВОПРОС:

Найдите десять процентов
молока от 7 литров.


РЕШЕНИЕ



1) $7 : 100 = 0,07$ (литров) - один процент

2) $0,07 * 10 = 0,7$ (литров) - десять процентов

ОТВЕТ



Ответ : один процент
это 0,7 литров
молока.

ЗАДАЧА № 3

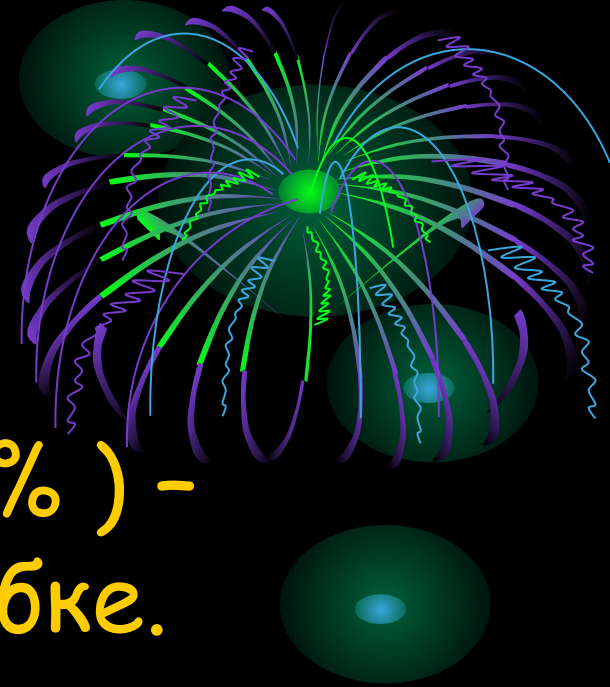


В полке лежали 3 коробки конфет. В первой коробке 25% конфет. Во второй коробке 21% конфет. Известно, что 3 конфеты - это 1%.

ВОПРОС:

Найдите сколько конфет в третьей коробке.

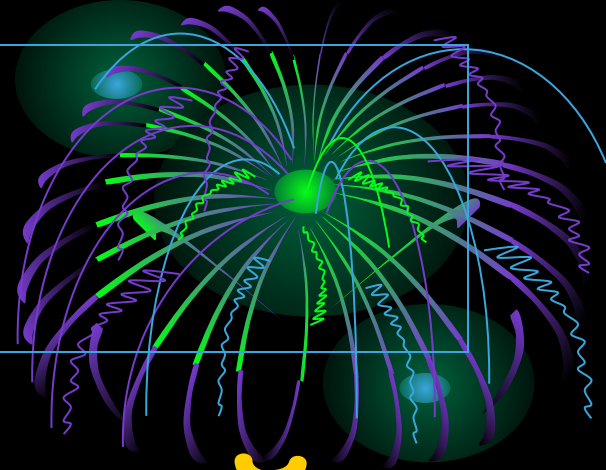
РЕШЕНИЕ:



1) $100 - (25 + 21) = 56 (\%)$ -
конфет в третьей коробке.

2) $56 * 3 = 168$ (конфет) - в
третьей коробке.

ОТВЕТ



- **Ответ : в третьей
коробке 168
конфет.**