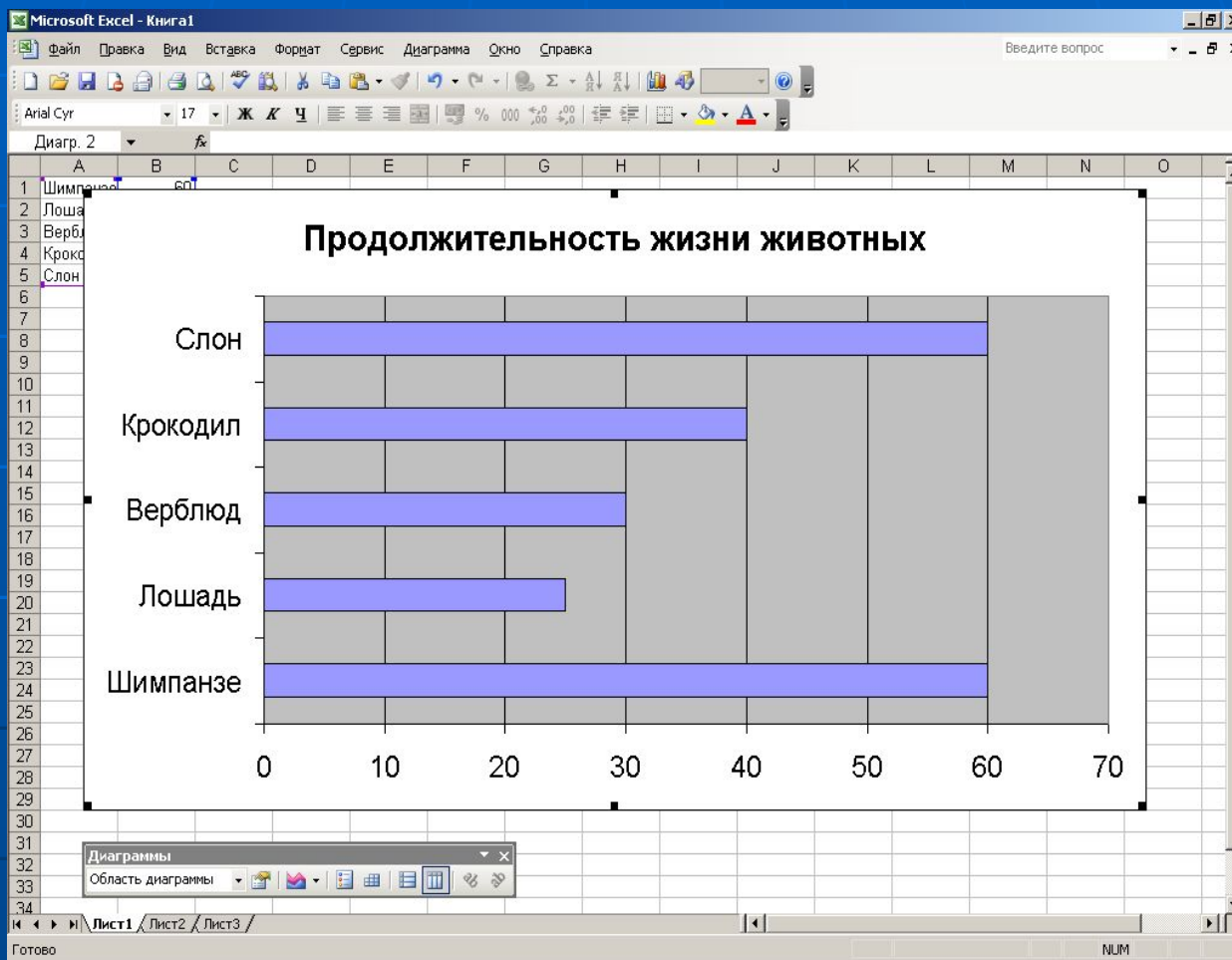


# Наглядные формы представления информации

Составила учитель информатики  
МОУ «Усть-Пристанская СОШ  
им А.М.Птухина»  
Балдуркина Наталья Викторовна

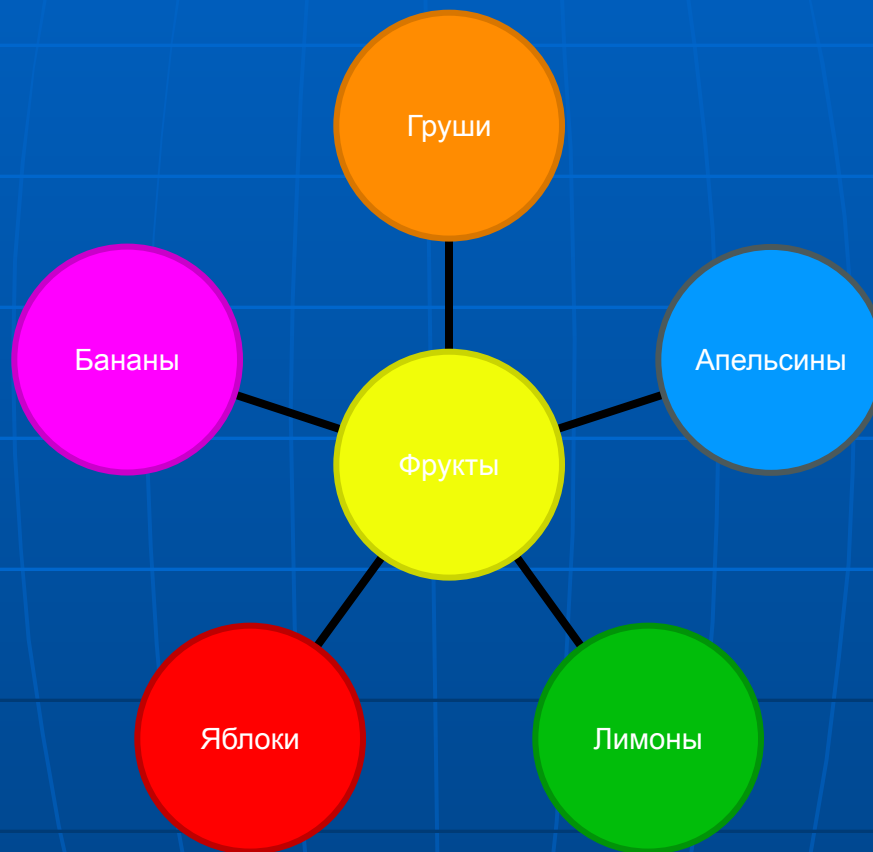
# Пример построения диаграммы в табличном редакторе



# Схема магазина



# Диаграмма фрукты




# Круговорот воды в природе



# Задача о переливании меда

## стр.127 §3.9

- Некто имеет 12 пинт меда и хочет отлить из этого количества половину, но у него нет сосуда вместимостью в 6 пинт. Он имеет два сосуда: вместимостью 8 пинт и 5 пинт. Каким образом налить 6 пинт меда в сосуд на 8 пинт.





этапы	12п	8п	5п
До переливания	12	0	0
1-е переливание	4 (12-8)	8(0+8)	0
2-е переливание	4	3(8-5)	5(0+5)
3-е переливание	9(4+5)	3	0(5-5)
4-е переливание	9	0(3-3)	3(0+3)
5-е переливание	1(9-8)	8(0+8)	3
6-е переливание	1	6(8-2)	5(3+2)