


Тест по математике

(для учащихся 5-х классов)

Желаем удачи!



- **Вопрос № 1.**

Скорость грузовика 60 км\ч, а скорость велосипедиста 10 км\ч. Какой вид транспорта опаснее для пешехода начавшего движение?

Велосипедист



10 км\ч



•Автомобиль




60 км\ч



Молодец!

- **Автомобиль**




Вопрос №2

Неправильно

- Подумай ещё

Бегут 4 цыпленка и 4 котенка. Чьих ног бежит больше?

- Цыплят



- Котят



Молодец!

- Котят



Вопрос №3

Неправильно


- Подумай ещё

Меч и шлем средневекового рыцаря вместе весят 10кг 500г.
Шлем весит 3кг 200г. Что тяжелее?

- Меч



- Шлем



Молодец!

- Меч



Вопрос 4

Неправильно


- Подумай ещё

В магазине купили 3кг 250г яблок и 3150 г лимонов. Каких фруктов купили больше?

• Яблоко



• Лимонов



Молодец!

- Яблоко



Молодец!

- **Тест окончен**

Неправильно

- Подумай ещё