


Какие группы волокон относятся к натуральным?



растительные

синтетические

животные

минеральные

искусственные

Установите соответствие:

Сб

Ст

Ди

Дст

Сш

Полуобхват шеи

Длина спины до талии

Полуобхват талии

Полуобхват бедер

Длина изделия

МЕРКИ

*Мерки записываются в
половинном размере*

Сб

Сш

Ди

Дтс

Шп

Дтп

Сг

Ор

*Мерки записываются в полном
размере*

Линии чертежа

Линия бока

Линия плеча

Средняя линия

Линия низа
рукава

Линия талии

Линия горлов.

Линия низа

Какие мерки нужны для построения чертежа юбки?



Ди

Ст

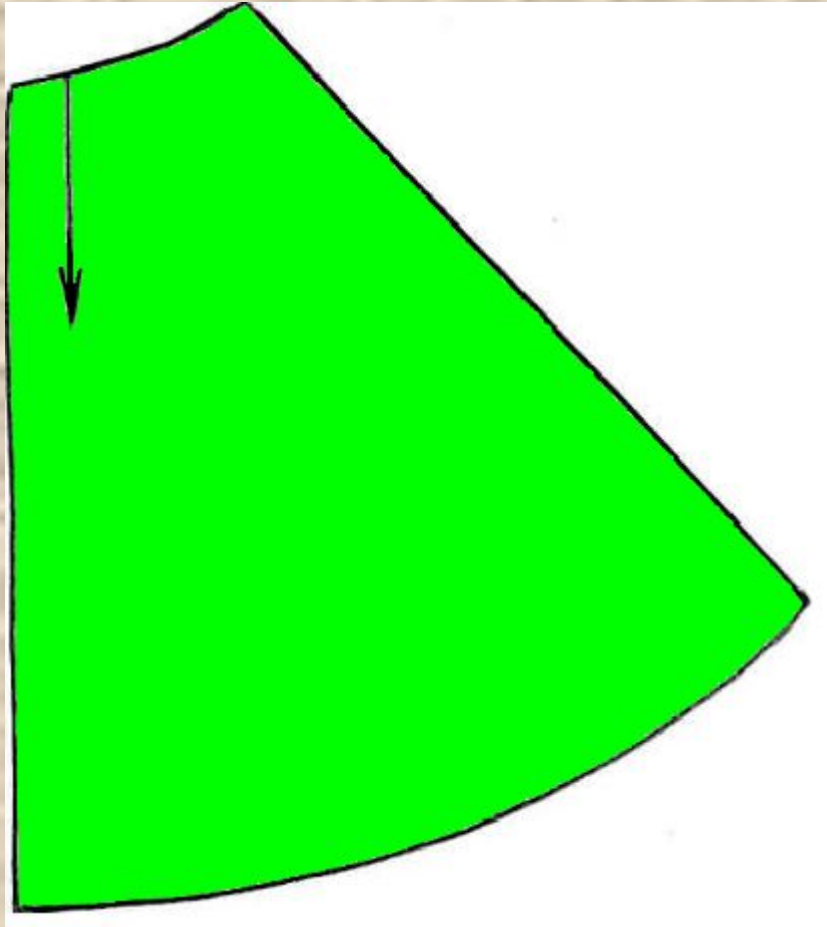
Дст

Сш

Шп

Сб

Линии чертежа



Линия бока

Линия низа

Линия талии

Средняя линия

В швейной машине применяются приводы?

(правильные ответы отметить знаком «+»)

- **Электрический**
- **Гидравлический**
- **Ручной**
- **Пневматический**
- **Ножной**

При выкраивании крслй обтачки её долевою нить располагают?

(правильный ответ отметить знаком «+»)

- Вдоль обтачки
- Поперек обтачки
- Под углом 45^0 к долевою нити
- Под углом 30^0 к долевою нити
- По направлению долевою нити

Установить последовательность технологических операций при изготовлении швейных изделий?

- Подготовить ткань к раскрою
- Сметать детали кроя
- Стачать детали кроя
- Раскроить ткань
- Выполнить художественную отделку
- Обработать срезы
- Разложить выкройку на ткани
- Выполнить влажно-тепловую обработку

Какие группы волокон относятся к химическим?



растительные

синтетические

животные

минеральные

искусственные

Какие мерки нужны для построения чертежа фартука?

Ди

Ст

Дст

Сш

Шп

Сб

К технологическим свойствам тканей относятся:

(правильный ответ отметить знаком «+»)

- прочность
- драпируемость
- Раздвижка нитей в швах
- усадка
- осыпаемость

Как называется место соединения деталей?

(правильные ответы отметить знаком «+»)

- **стежок**
- **шов**
- **строчка**

Какие стежки относятся к временным?

(правильный ответ отметить знаком «+»)

- обметочный
- сметочный
- подшивочный
- копировальный
- петлеобразный

Что определяет мерка «полуобхват бедер»?

(правильный ответ отметить знаком «+»)

- Длину изделия
- Ширину изделия
- Длину пояса

Какие швы относятся к соединительным?

(правильные ответы отметить знаком «+»)

- Шов вподгибку с открытым срезом
- Стачной шов
- Накладной шов
- запошивочный
- окантовочный

Выбери формулу расчета расхода количества ткани при ширине 90 см

(правильный ответ отметить знаком «+»)

- $2 * \text{Ди} + 30 \text{ см}$
- $1 * \text{Ди} + 30 \text{ см}$

В каких случаях не учитывают направления рисунка на ткани при раскрое?

(правильный ответ отметить знаком «+»)

- Если рисунок мелкий
- Если рисунок не имеет направления
- Если рисунок имеет направление
- Если ткань с ворсом
- Если ткань с крупным рисунком

Какие самое простое переплетение?

(правильные ответы отметить знаком «+»)

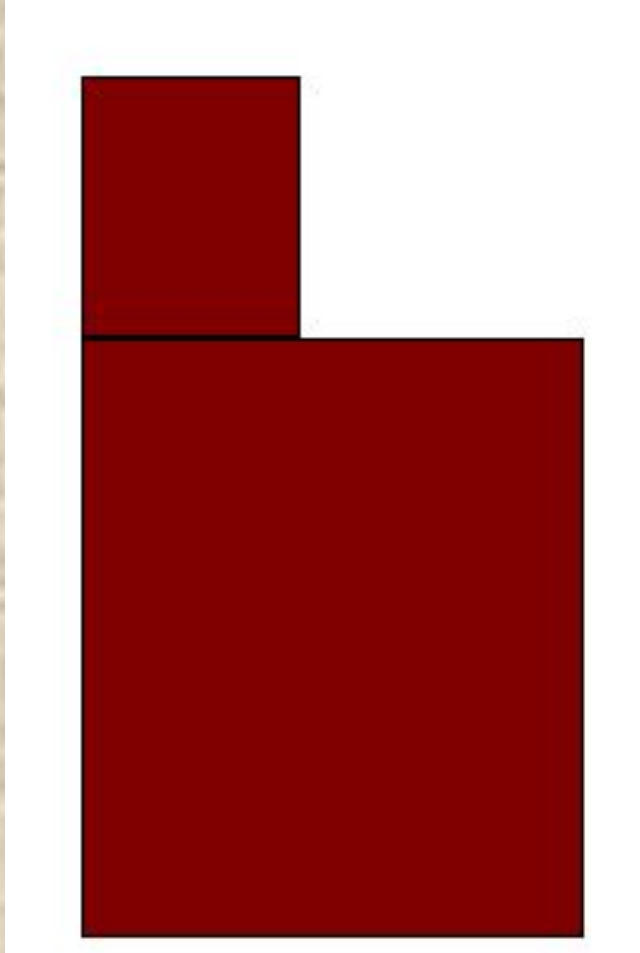
- саржевое
- полотняное
- атласное
- сатиновое

К группе плечевых швейных изделий относятся?

(правильные ответы отметить знаком «+»)

- блузка
- сарафан
- юбка
- Халат
- Брюки
- платье

Линии чертежа



Линия бока

Линия низа

Линия талии

Средняя линия