

# Страны Восточной Европы



**Поляки**

**Словаки**



**Молдаване**



**Чешка**



**Белорусы**



**Украинцы**

ГОУ ЦО 2030  
Евстюнина Л.В.


# Флаги государств Восточной Европы



1



2



3



4



5



6

# Самые главные города

- Найди пару: государство - столица

<i>Название государства</i>	<i>столица</i>
1. Белоруссия	А. Прага
2. Украина	Б. Варшава
3. Молдавия	В. Минск
4. Польша	Г. Братислава
5. Чехия	Д. Кишинев
6. Словакия	Е. Киев Ж. Вильнюс



?

# Столицы государств Восточной Европы

- Определите координаты
- Праги, Братиславы, Варшавы



Дворец в  
Праге

50<sup>0</sup> с. ш.  
14<sup>0</sup> в. д.



Варшава


53<sup>0</sup> с. ш.  
21<sup>0</sup> в. д.

# Столицы государств Восточной Европы

- Определите координаты
- Киева, Минска, Кишинева

**КИЕВ**

**51<sup>0</sup> с. ш.  
31<sup>0</sup> в. д.**



**Кишинев**

**48<sup>0</sup> с. ш.  
29<sup>0</sup> в. д.**




# Одно из чудес природы...

- Национальный парк  
«Беловежская Пушча»



На территории каких стран расположен этот национальный парк?



# Ландшафты парка



# Ландшафты парка





# Ландшафты парка



# Самые крупные животные Европы

**Зубры,  
бизоны**



**РЕЛЬЕФ? КЛИМАТ?  
ПРИРОДНАЯ ЗОНА?**



# Хозяйство стран Восточной Европы



# Что общего и чем отличаются эти страны?

- 1. Географическое положение
- 2. Государственное устройство
- 3. Природные условия и ресурсы
- 4. Народы
- 5. Хозяйственная деятельность населения этих стран

# Домашнее задание

- **§ 24, 25** – ответить на вопросы
- **Контурная карта – названия стран, границы, столицы ЭТИХ стран.**
- **Привести в порядок Рабочую тетрадь!!!**
- **Подготовиться к контрольной работе!!!**
- **Проверьте свои работы на LTARNING!!!**

# Столицы государств Восточной Европы

- Определите координаты
- Праги, Братиславы, Варшавы



Варшава



Кишинев