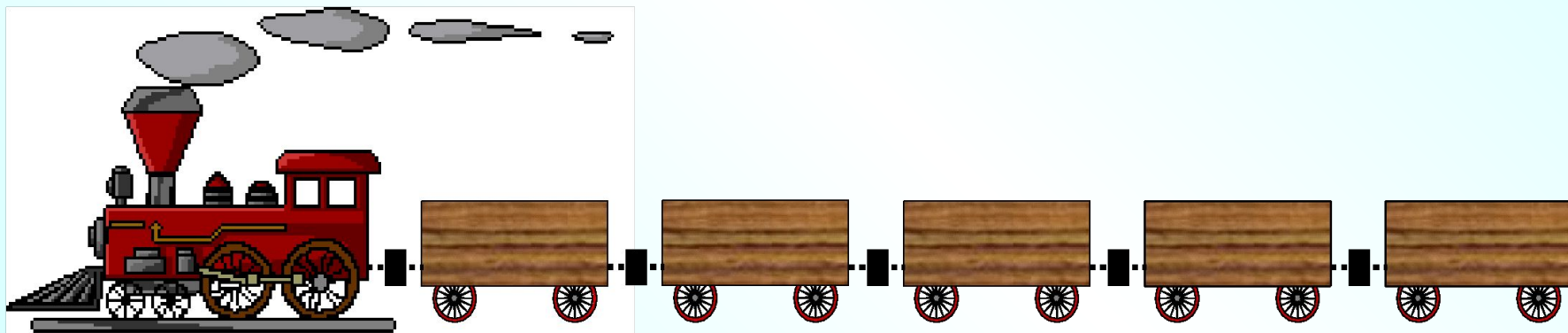


$$\frac{13}{12}; \frac{3}{5}; \frac{8}{3}; \frac{18}{18}; \frac{9}{9}; \frac{1}{2}; \frac{3}{8}; \frac{5}{2}; \frac{4}{11}; \frac{3}{2}; \frac{14}{21}; \frac{30}{2}$$

$$\frac{31}{52}; \frac{7}{4}; \frac{33}{55}; \frac{195}{99}$$



Загрузим в поезд неправильные дроби, для этого щелкни по ним мышкой.



$$\frac{13}{12}; \frac{3}{5}; \frac{8}{3}; \frac{18}{18}; \frac{9}{9}; \frac{1}{2}; \frac{3}{8}; \frac{5}{2}; \frac{4}{11}; \frac{3}{2}; \frac{14}{21}; \frac{30}{2}$$



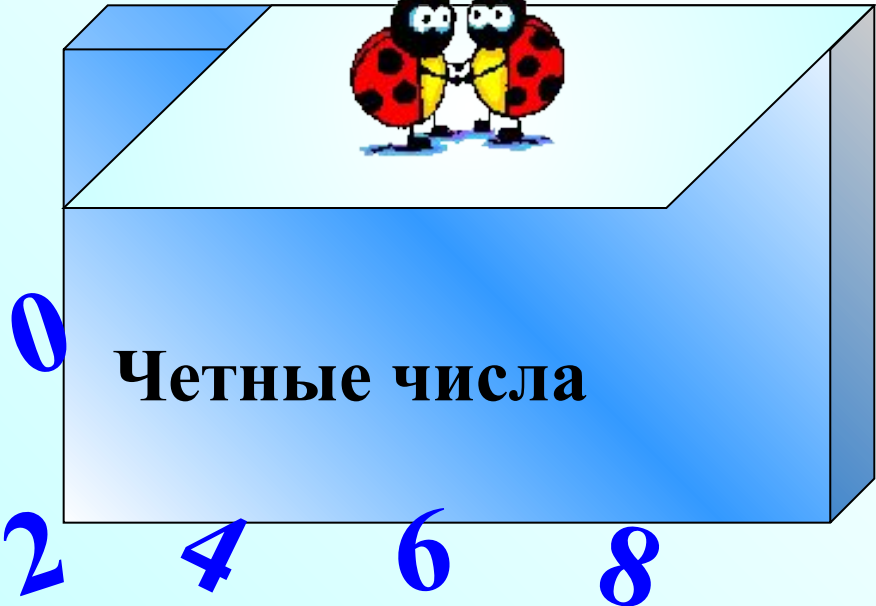
**Сложим в блюдо дроби, меньшие 1.
Для этого щелкни по ним мышкой.**



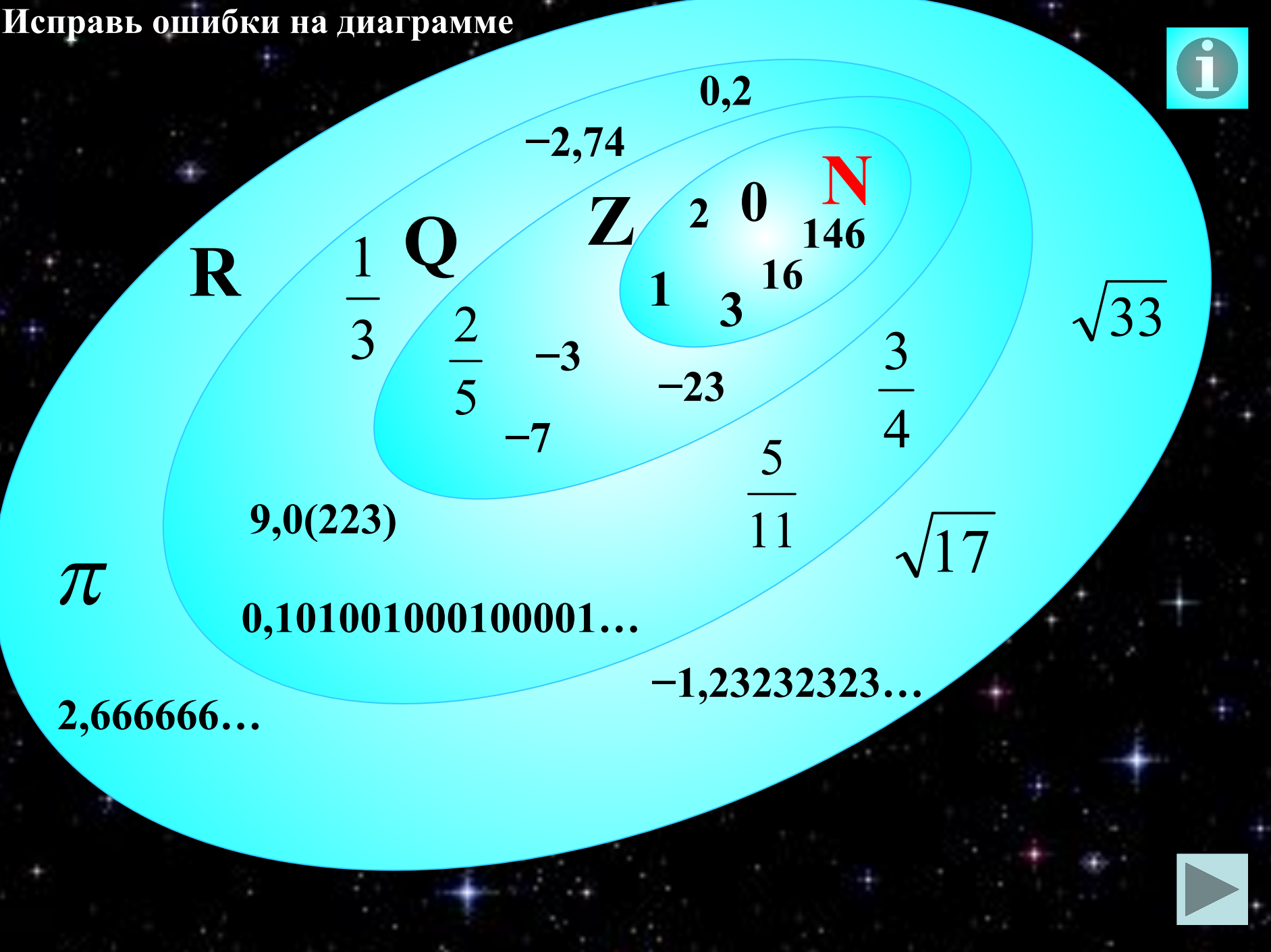
Найди числа, которые **делятся на 2** и щелкни по ним мышкой.

ПОДСКАЗКА

350 243 429 392 1506 237 385 48 24 30



Исправь ошибки на диаграмме



π

9,0(223)

0,101001000100001...

2,666666...

-1,23232323...

$\frac{5}{11}$

$\frac{3}{4}$

$\sqrt{17}$

$\sqrt{33}$

1

3

16

146

2

0

N

Z

Q

$\frac{1}{3}$

$\frac{2}{5}$

-3

-7

-23

-2,74

0,2

R

