




*ОТ ИГРЫ  
К ЗНАНИЯМ*

Математические состязания



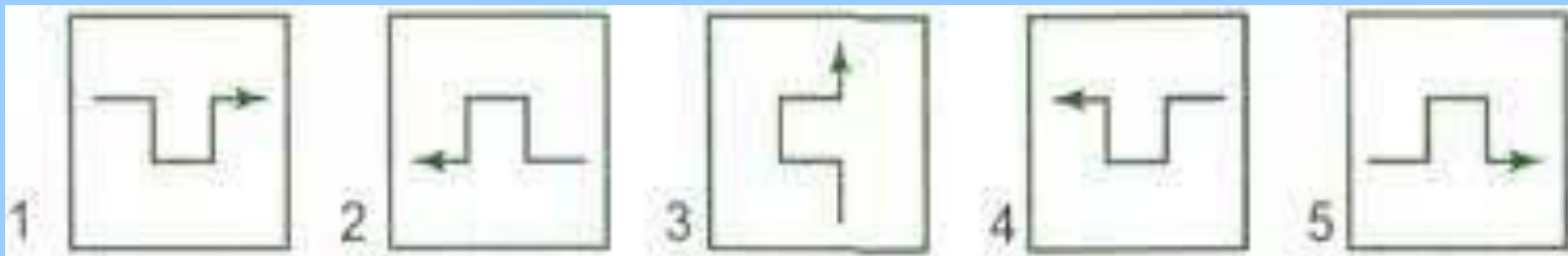
**Внимательно читать  
задания, быстро и  
правильно отвечать  
на вопросы, помогать  
друг другу.**



# **Игра «Найди свое место».**

# Конкурс «Самый внимательный».

1. Найди три одинаковые?



Ответ:

3,4,5

# Конкурс «Самый внимательный».

2. Какую фигуру нужно поставить вместо  
вопроса?



▲		?	○
□	▲		
	★		
	○		

Ответ:



# Конкурс «Самый внимательный».

3. Заполни пустые клетки.

1 команда.

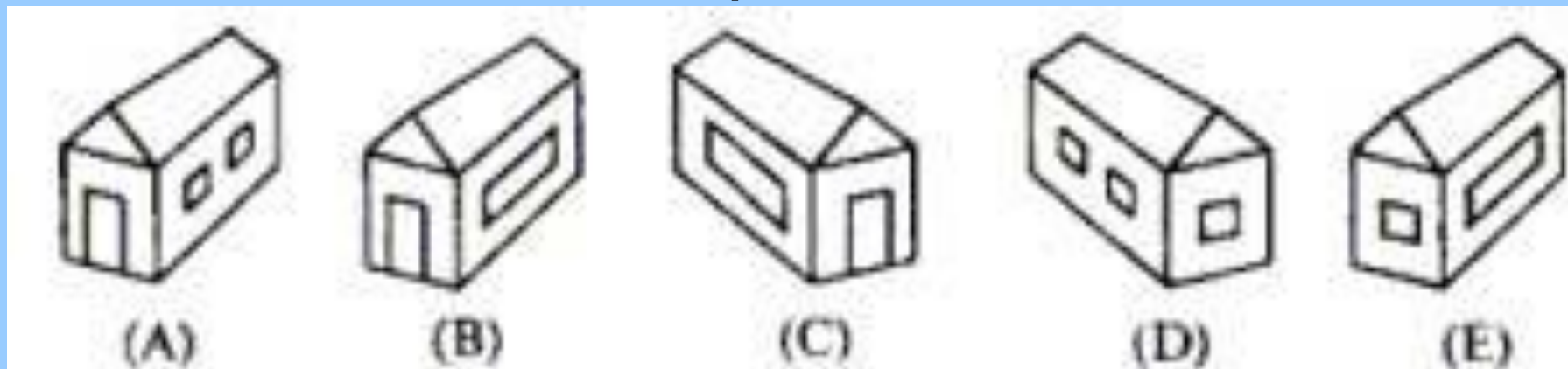
		┆	┆
		┆	
┆			
┆			

2 команда.

	⊖	⊖	⊕
⊖		⊕	○
⊖			⊖
⊕	○		⊖

# Конкурс «Самый внимательный».

4. Где домик Пятачка, если домик Кролика нарисован 4 раза, а домик Пятачка только 1 раз?



Ответ:

В



# Конкурс

## «Самый внимательный».

5. Сколько раз  
встречается  
каждая цифра?

0	2	5	1	6	3	8	9	4	7
5	4	7	6	2	8	4	1	9	2
8	9	0	3	7	5	6	9	0	4
9	1	8	4	5	2	9	7	3	6
6	4	8	6	0	9	5	1	9	7
8	2	9	1	6	3	7	9	8	6
6	5	0	4	7	8	1	2	9	3
2	7	3	6	1	5	4	8	5	2
5	1	4	0	7	3	5	4	0	6
3	5	9	3	6	2	8	5	7	3



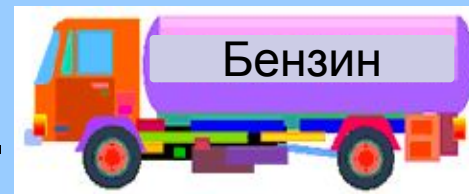


# Конкурс

## «Самый сообразительный».

1 команда.

- Пара лошадей пробежала 20 км. Сколько километров пробежала каждая лошадь?
- Чтобы сварить 1 кг мяса требуется один час. Сколько времени потребуется, чтобы сварить 5 кг мяса?
- На складе было 5 машин с бензином по 6 тонн в каждой. Из двух машин бензин выдали. Сколько машин осталось?
- У семи братьев по одной сестрице. Сколько всего детей?



# Конкурс

## «Самый сообразительный».

2 команда.

- Двое играли в шашки 4 часа. Сколько часов играл каждый из них?
- Курица на двух ногах весит 2 кг. Сколько весит курица на одной ноге?
- На яблоне росло 50 яблок, а на березе – на 12 меньше. Сколько яблок росло на березе?
- Что весит больше 3 кг семечек или 3 кг яблок?




# Игра «Давайте посчитаем».



# Конкурс «Самый умный».

1. В болоте сидит 165 лягушек. На каждой кочке по 3 лягушки. Сколько кочек в болоте?



2. От Ишима до Тюмени ехать на поезде часа. А от Тюмени до Ишима 240 минут. Почему?

3. Вычислить  $11111 \cdot 11111 =$  **123454321**

4. Вставь недостающие числа.

1, 5, 9, 13, ..., ...

200, 160, ..., 80, ...

12, 23, ..., 45, ..., 67

16, 12, 15, 11, 14, 10, ..., ...



# Игра

## «Не ошибись».

$12 =$

$56 =$

$24 =$

$21 =$

$48 =$

$18 =$

$45 =$

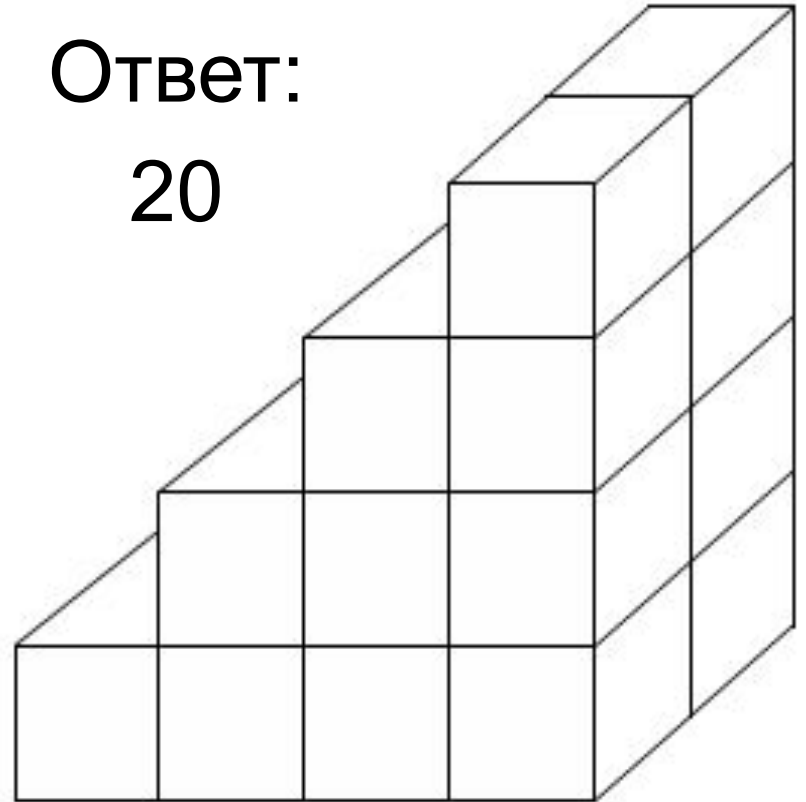
$32 =$

# Конкурс «Головоломки».

1. Кролик сделал эту лестницу из кубиков. Сколько всего кубиков ему понадобилось?



Ответ:  
20



# Конкурс «Головоломки».


2. Расставить числа  
1, 2, 3, 6, 7, 8 так  
чтобы сумма по  
строчкам, столбцам,  
диагоналям  
равнялась 12.



7	0	5
2	4	6
3	8	1

# Конкурс «Головоломки».

3. Сосчитай прямоугольники?



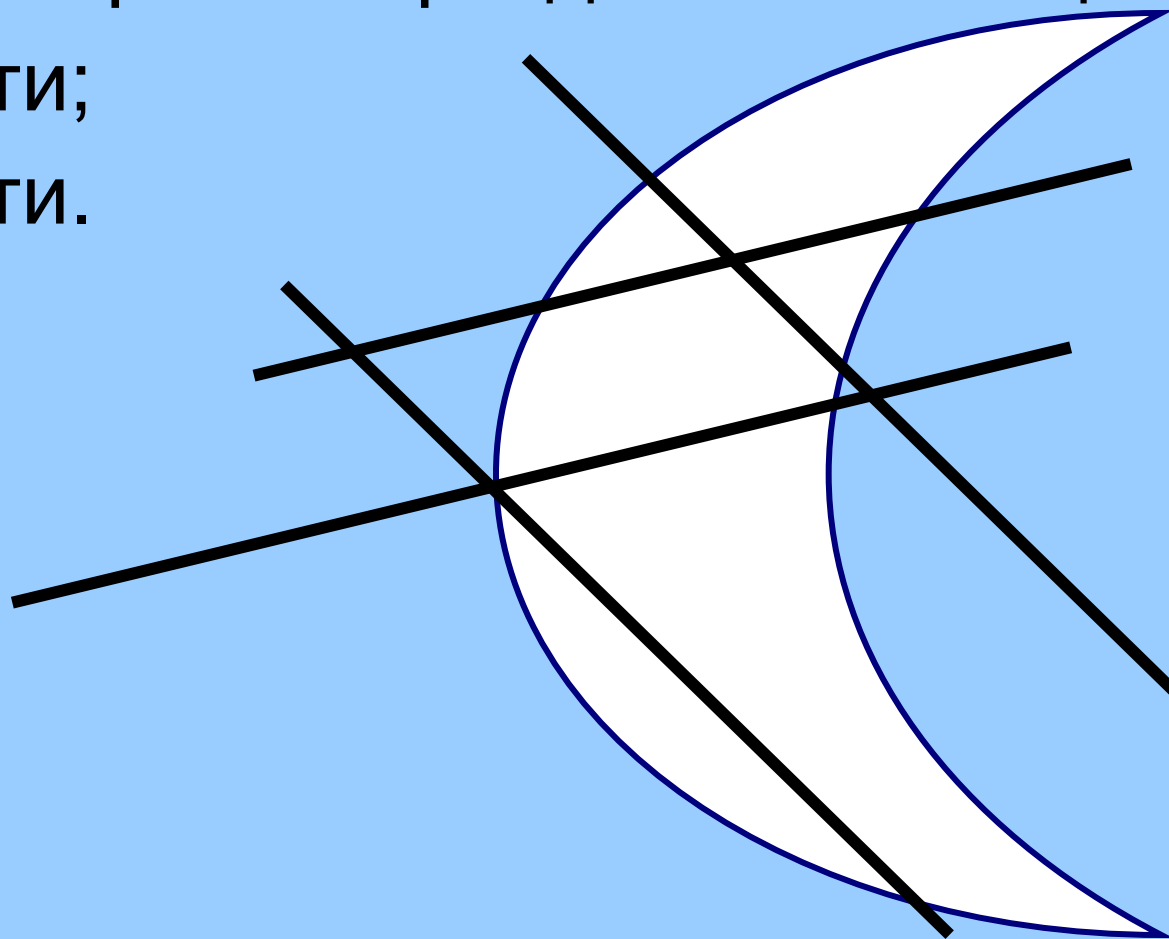
Ответ:

6



# Конкурс «Головоломки».

4. Двумя разрезами разделить месяц
- на 4 части;
  - на 3 части.



**МОЛОДЦЫ!!**