

















СВОЯ ИГРА



Своя игра



Тема	Стоимость вопроса			
	1	2	3	4
Дети	1 	2 	3 	4 
Родители	1 	2 	3 	4 
Стройка, ремонт	1 	2 	3 	4 
Семейная экономика	1 	2 	3 	4 



Дети-1




В доме **14** чашек и **10** блюдец. Дети
разбили половину чашек и **7** блюдец.

Сколько чашек осталось без блюдец?

Правильный ответ

4 чашки



Дети-2




У старшего брата **12** конфет, а у младшего **2** конфеты.

Сколько конфет должен отдать старший младшему, чтобы справедливость восторжествовала?

Правильный ответ

Как минимум, **5** конфет.

А если делиться по-братски?



Дети-3




Братьям Пете и Толе купили по **3** пирожных. Петя съел свои за **6** минут и стал с завистью смотреть, как Толя ест каждое пирожное по **4** минуты.

Долго ли Петя будет смотреть на Толю с завистью?

Правильный ответ

6 минут



Дети-4





Когда малыша Ваню поцарапала кошка, он плакал **3** минуты. Когда его укусила оса, он плакал на **2** минуты больше, но когда мама начала мыть его с мылом, Ваня плакал в два раза дольше, чем после укуса осы. Мама мыла Ваню **12** минут.

Сколько минут плакал уже вымытый Ваня?

Правильный ответ

?



Родители-1




На столе лежат конфеты в кучке. Две матери, две дочери, да бабушка с внучкой взяли конфет по одной штучке. И не стало этой кучки!

Сколько было конфет в кучке?

Правильный ответ

Было **3** конфеты в кучке



Родители-2



Папа купил на праздник своим детям груши и сказал, чтобы они разделили их поровну.

Первым пришел Андрей, взял треть груш и ушел.


Вторым пришел Борис, взял треть оставшихся груш и ушел.

Затем вернулась из школы Валя, она взяла **4** груши – треть от числа груш, которые она увидела.

Сколько груш купил папа?

Правильный ответ

Папа купил **27** груш



Родители-3




Мама нарвала полную корзину яблок. Число яблок в корзине – двузначное число. Яблоки можно разделить поровну между двумя, тремя, пятью и девятью детьми, но нельзя разделить между четырьмя детьми.

Сколько яблок в корзине?

Правильный ответ


В корзине **90** яблок





Родители-4




Кусок материи состоит из трех равных квадратиков.
Маме нужно вырезать из этого куска такую часть,
чтобы, приложив её к оставшейся части, получить
квадрат, внутри которого имеется квадратное
отверстие.



Правильный ответ



Стройка, ремонт-1




Для оклеивания стен комнаты нужно приобрести обои. Высота комнаты – **2,5м**, ширина – **2м**, длина – **4м**.

Сколько рулонов обоев понадобится для ремонта?

Правильный ответ

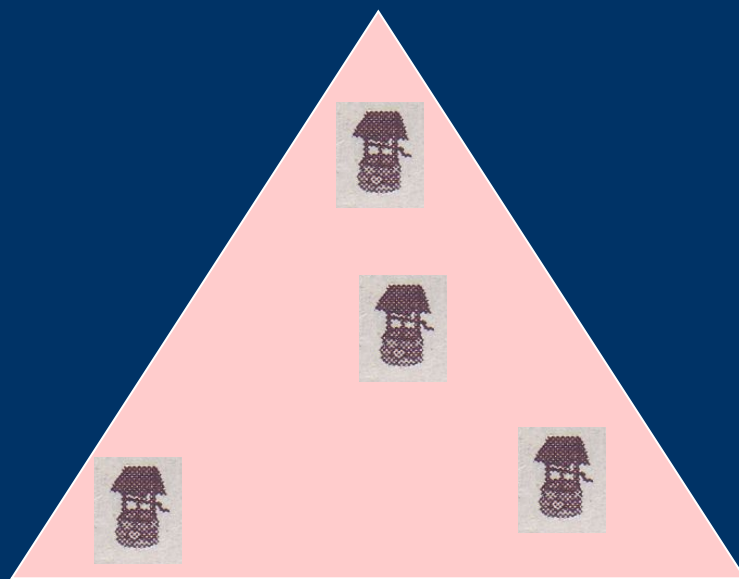
Ну... примерно **6** рулонов.



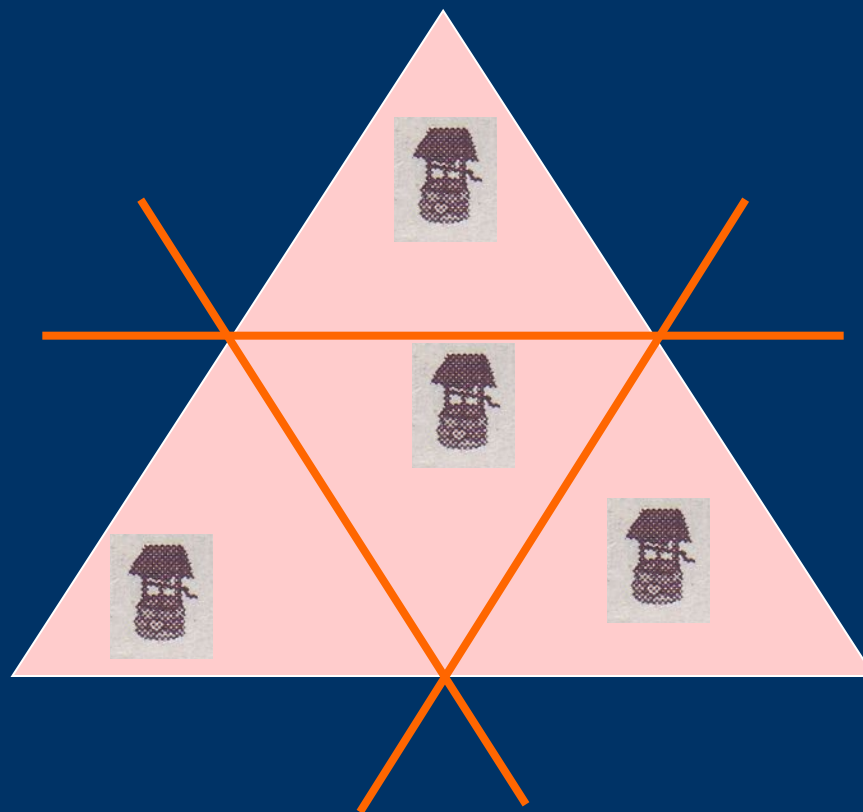

Стройка, ремонт-2



Треугольный участок земли с **4** колодцами нужно разделить тремя прямыми линиями на **4** одинаковых участка так, чтобы на каждом из них был колодец.




Правильный ответ







Стройка, ремонт-3

Как разрезать треугольную плитку для садовой дорожки на три части так, чтобы из неё можно было сложить прямоугольник?



Правильный ответ




Стройка, ремонт-4





Прямоугольный участок земли со сторонами **30м** и **20м** нужно разделить на **4** равных участка так, чтобы материала на огораживание этих участков затратить как можно меньше.

20м




30м

Правильный ответ



20_M

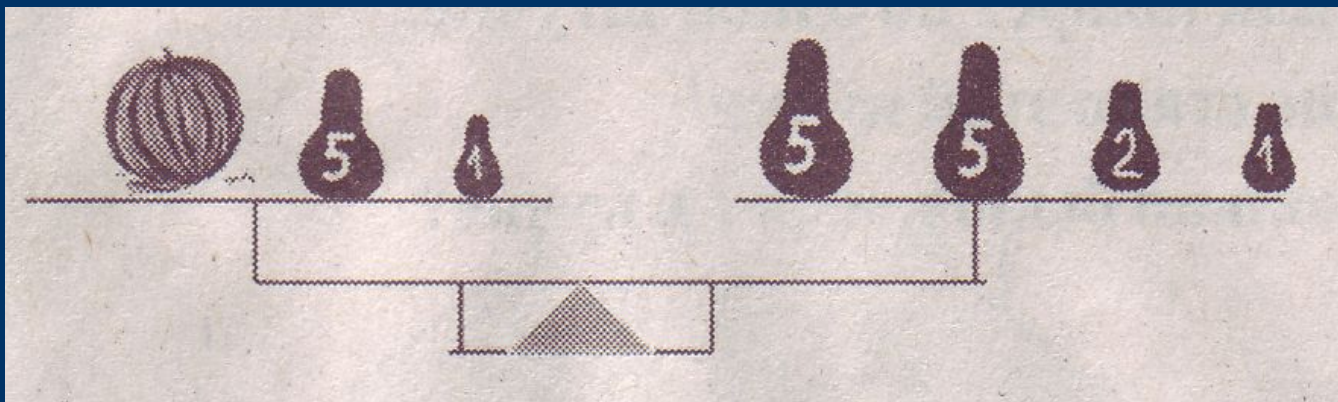


30_M




Семейная экономика - 1

Сколько стоит арбуз, если **1** кг стоит **10** рублей?



Правильный ответ

7 кг






Семейная экономика-2



В двух кошельках лежат **2** монеты,
причем в одном кошельке монет вдвое
больше, чем в другом.

Как такое может быть?

Правильный ответ



Семейная экономика - 3



Мама печет пирожки и продает их на рынке. В первый день она продала **100** пирожков по цене **1** рубль за пирожок.


На следующий день она снизила цену на **10%** и продала **110** пирожков.

В какой день мама заработала больше?

Правильный ответ

В первый день больше.

На **1** рубль!!!



Семейная экономика - 4




Родители сделали в банке вклад в **1000** рублей.

Сколько денег будет на вкладе через **2** года, если процентная ставка банка **10%** годовых?

Правильный ответ

1210 рублей





МОЛОДЦЫ!!!