


# Единицы времени







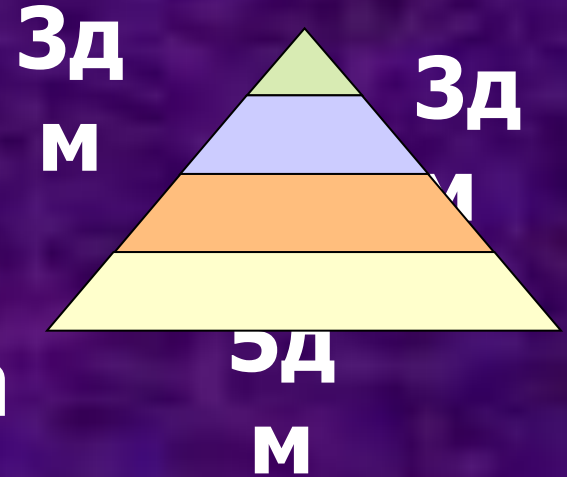
2д  
м



$$P_{\blacksquare} = a + a + a + a$$

$$P_{\square} = a + b + a + b$$

$$P_{\triangle} = a + b + c$$



ММ Л ДМ Т Г СМ КГ М КМ

В отрезке укладывается 5 ...

В банке помещается 3 ... воды.

Весы показывают 4 ...

Мальчик выше девочки на 13 ...


Яблоко весит 95 ...

На пошив костюма пошло 3 ...  
ткани.

В магазин привезли 2 ...

картофеля

Оттуда привезли 30 ...





**Бенджамин  
Франклин**

**Время**

**- деньги**



**1ч > 50мин**  
**45мин + 15мин =**  
**1ч**



**60мин < 2ч**  
**1 сут. > 5ч**

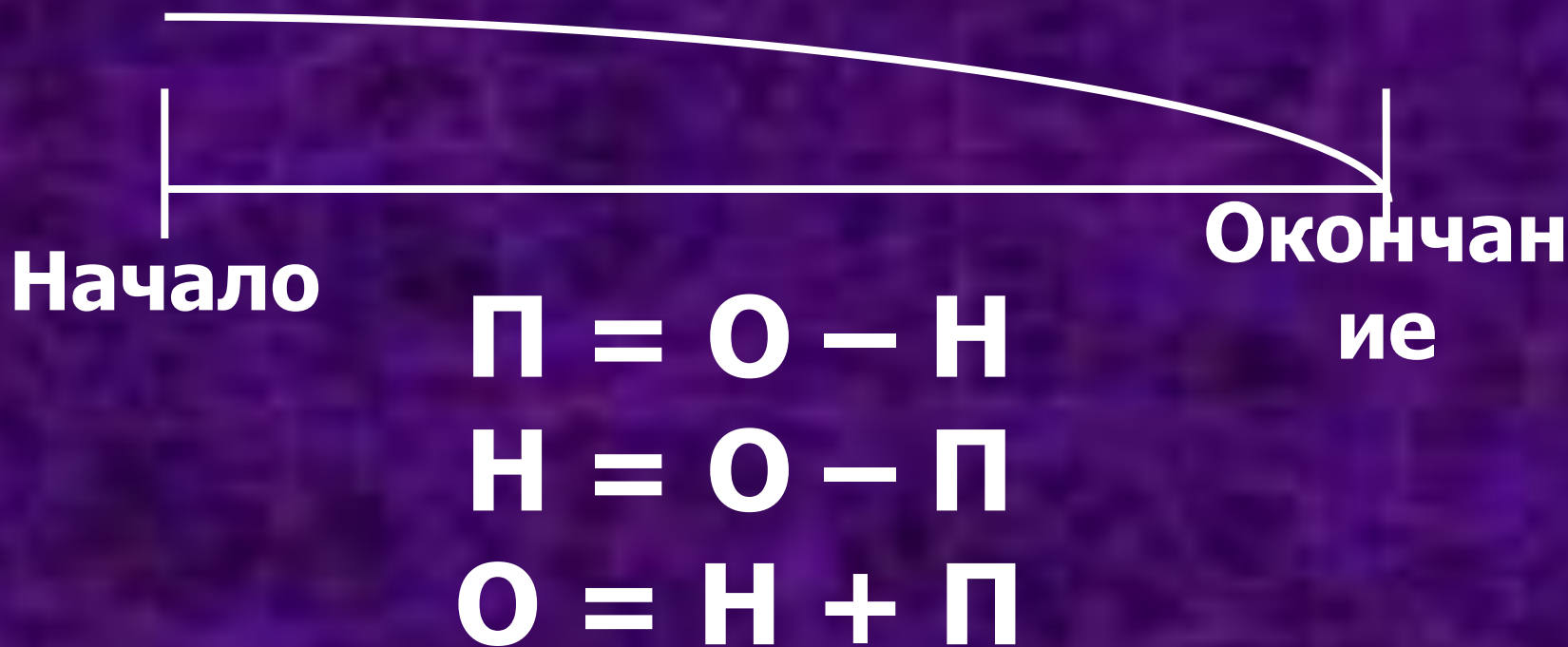
**2 дн. < 2 нед.**  
**1мин > 59сек**






1. Саша плавал в озере  $a$  минут, а Галя на  $b$  минут меньше. Сколько минут плавала Галя?
2. Женя читал книгу  $c$  дней, а Сережа на  $d$  дней медленнее. Сколько дней читал книгу Сережа?
3. Тане  $a$  лет, это на  $n$  лет меньше, чем брату. Сколько лет Таниному брату?
4. Занятия бальными танцами длятся  $k$  минут, а тренировка по теннису  $m$  минут. На сколько минут тренировка по теннису длится меньше, чем занятия танцами?
5. Маша с семьей отдыхала летом на Черном море  $x$  недель, а в деревне у бабушки на  $y$  недель меньше. Сколько недель Маша провела в деревне и на море?

# Задача

В 13 часов  приходит в лицей.  
В 18 часов уходит домой.  
Сколько времени  проводит в лицее?



-  Бабушка выключила телевизор в 18ч 50мин, чтобы посмотреть любимый сериал, а в 18ч 50мин выключила телевизор. Сколько минут длилась серия?
-  Документальный фильм о жизни животных начался в 15ч 10мин. Его продолжительность 45мин. Когда этот фильм закончится?
-  На одном российском телеканале мультфильмы начались в 14ч 05мин, а закончились в 14ч 40мин. Сколько минут показывали мультфильмы на этом канале?





**Космическое  
время**



**Личное  
время**



**Историческое  
время**

# Задача

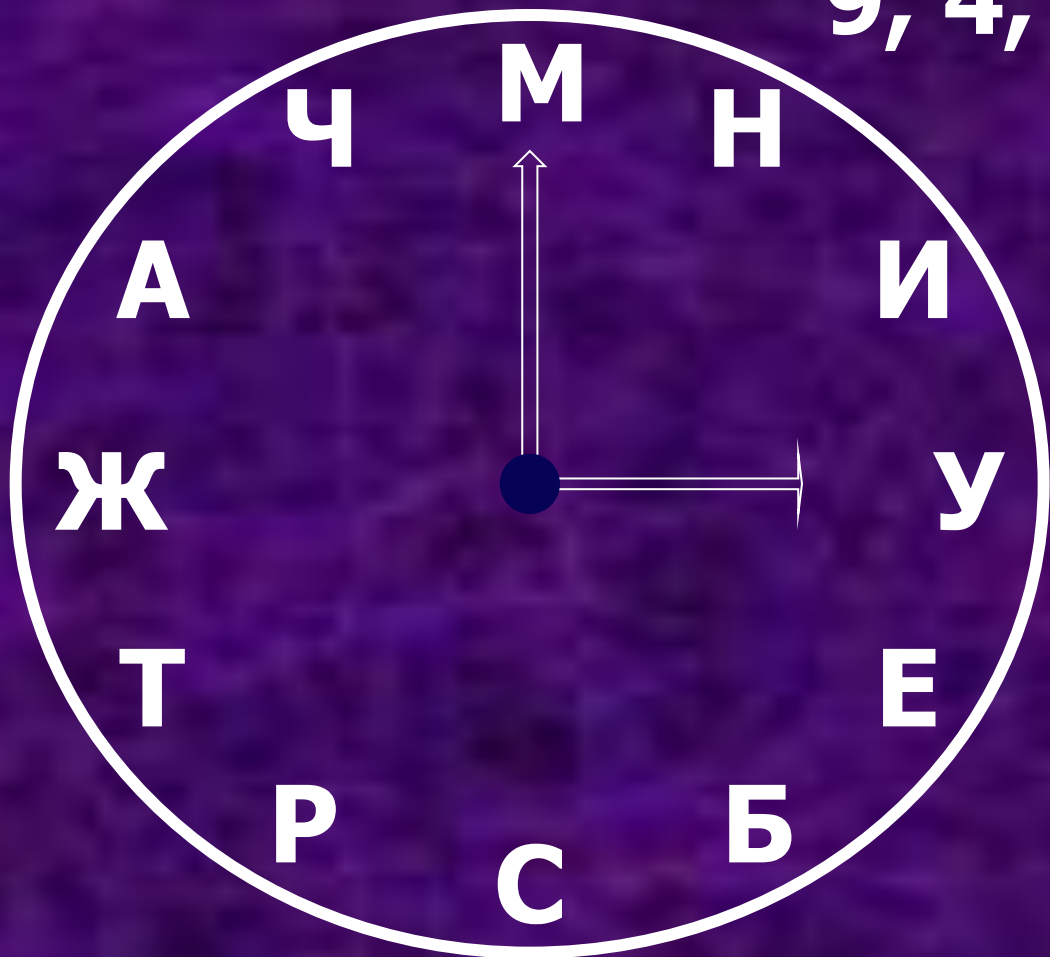


**Коля учил правила 18 минут,  
русским языком занимался  
на 23 минуты дольше, задание  
по математике выполнил на 15 минут  
быстрее, чем занимался русским языком.  
Сколько всего времени Коля затратил  
на уроки?**

- **$18 + 23$**
- **$18 + 23 - 15$**
- **$18 + (18 + 23) + (18 + 23 - 15)$**



12, 2, 1, 3, 8, 10, 11, 10, 6, 5, 4, 7, 4,  
9, 4, 8



*Минута час бережёт*



# Единицы времени

