

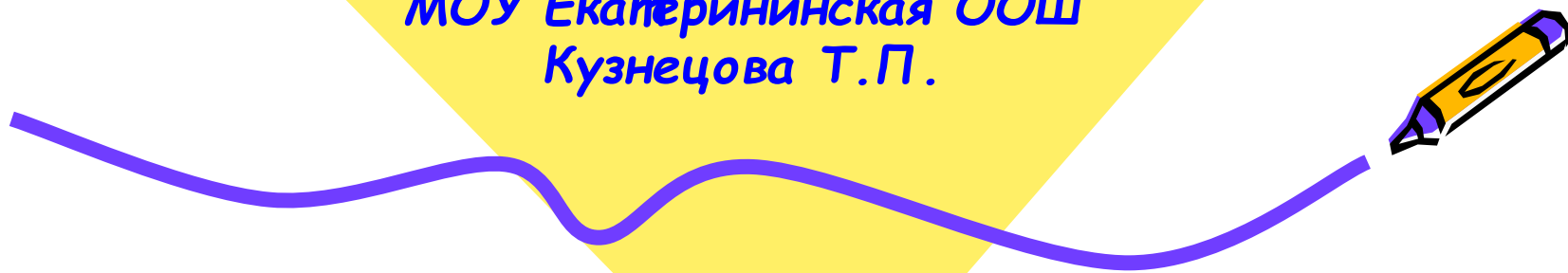


Тест

Математика 4 кл

«Величины»

МОУ Екатерининская ООШ
Кузнецова Т.П.






1 Вычисли:

$$34\ 000\text{см} = \dots\text{м}$$

- A. 34 м
- B. 3 400м
- C. 3м 40см
- D. 340 м





2 Вычисли:

5 лет 5 мес = ...мес

- A. 65 мес
- B. 55 мес
- C. 35 мес
- D. 60 мес





3 Вычисли:

1 век 50 лет = ...лет

- A. 100 лет
- B. 150 лет
- C. 1 500 лет
- D. 15 лет





4 Вычисли:

$$72\ 500\text{кг} = \dots\text{ц}$$

- A. 72 ц
- B. 7 250 ц
- C. 725 000 ц
- D. 725 ц





5 Вычисли:

$$63 \text{ кг} = \dots \text{ г}$$

- A. 630 г
- B. 63 000 г
- C. 6 300 000 г
- D. 36 000 г





6 Вычисли:

$$58 \text{ дм}^2 = \dots \text{см}^2$$

A. 5 800 см²

B. 580 см²

C. 8500 см²

D. 58 000 см²





7 Вычисли:

$$4\ 000\ 000\ \text{м}^2 = \dots \text{км}^2$$

- A. 40 км²
- B. 4 000 км²
- C. 4 км²
- D. 40 000 км²





8 Вычисли:

$$20\text{ км } 500\text{ м} - 2\text{ км } 200\text{ м}$$

- A. 20 км 300м
- B. 18 км
- C. 18 км 300м
- D. 18 км 200м





9 Вычисли:

$$45 \text{ мин} + 1 \text{ ч } 15 \text{ мин}$$

- A. 1 ч 50 мин
- B. 2 ч
- C. 2 ч 10 мин
- D. 2 ч 50 мин






10 Вычисли:

$$10 \text{ т} - 50 \text{ кг}$$


- A. 9т 500кг
- B. 9 т 50 кг
- C. 9 т
- D. 9 т 950 кг





Проверка

1. D
2. A
3. B
4. D
5. B
6. A
7. C
8. C
9. B
10. D





Отметка

«5» - 10 баллов

«4» - 8-9 баллов

«3» - 5-7 баллов

«2» - 1-4 балла





Спасибо за работу!

