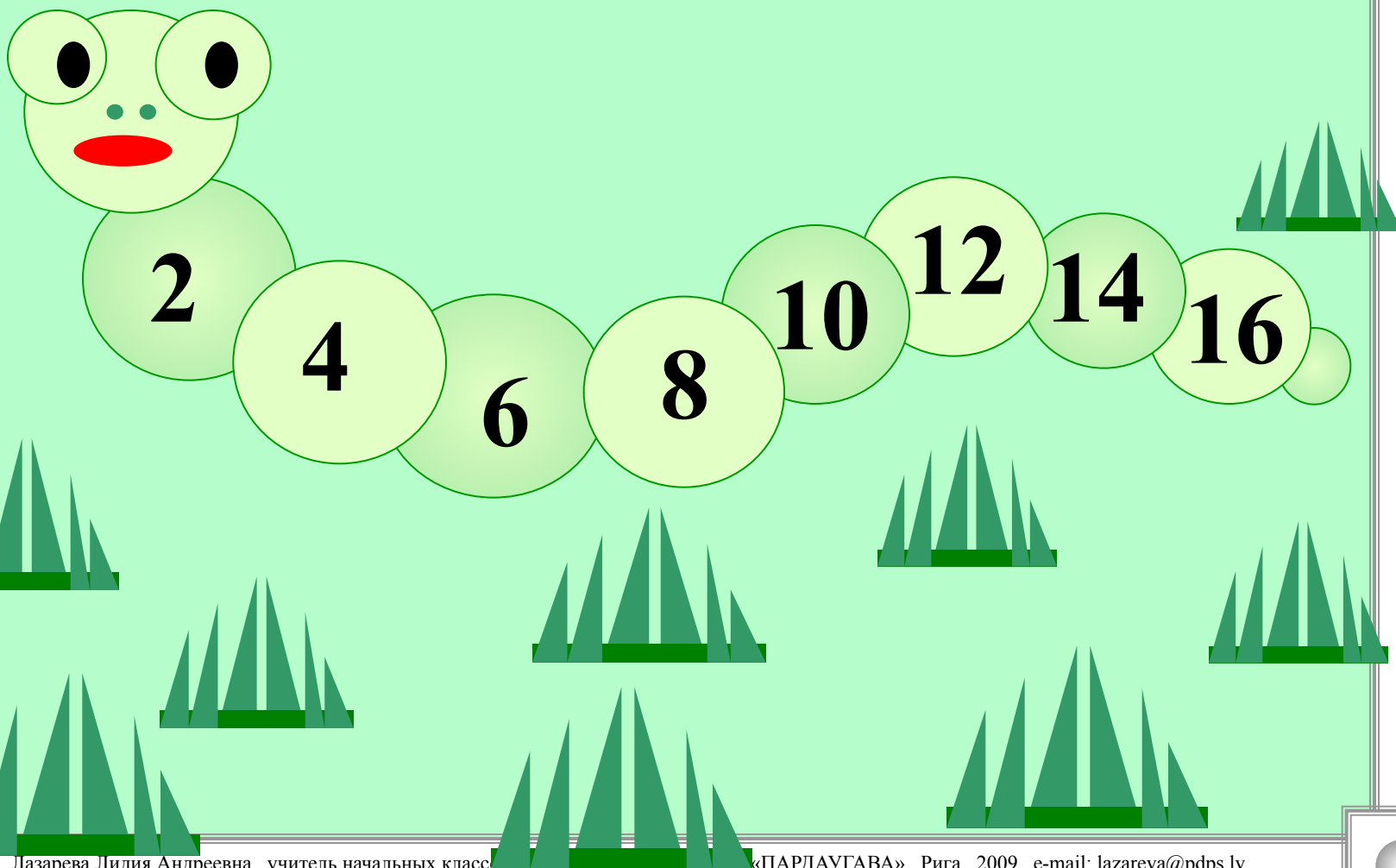





Игра «Гусеница-растеряша»





Игра «Математический баскетбол»



Молодцы!

$30 + 7$ $25 + 5$ $32 - 12$ $66 + 4$ $80 - 7$

$28 - 10$ $45 - 45$ $53 + 7$ $59 - 9$ $90 + 9$

Illustration of a basketball hoop and net with mathematical problems and basketballs.



Сколько пятачков у *15* поросят?

Когда гусь стоит на двух ногах, то весит *4* кг. Сколько будет весить гусь, когда встанет на одну ногу?



**Сколько десятков и сколько единиц в
каждом из этих чисел?**

25 = 2 дес. 5 ед.

72 = 7 дес. 2 ед.

80 = 8 дес.

36 = 3 дес. 6 ед.

61 = 6 дес. 1 ед.

84 = 8 дес. 4 ед.

63 = 6 дес. 3 ед.

Прочитай, называя недостающее число.

$$40 + 7 = \overset{4}{\underset{7}{}}$$

$$30 + \overset{6}{=} 36$$

$$11 - \overset{1}{\underset{0}{}} = 1$$

$$72 - 2 = \overset{7}{\underset{0}{}}$$

$$70 + \overset{6}{=} 76$$

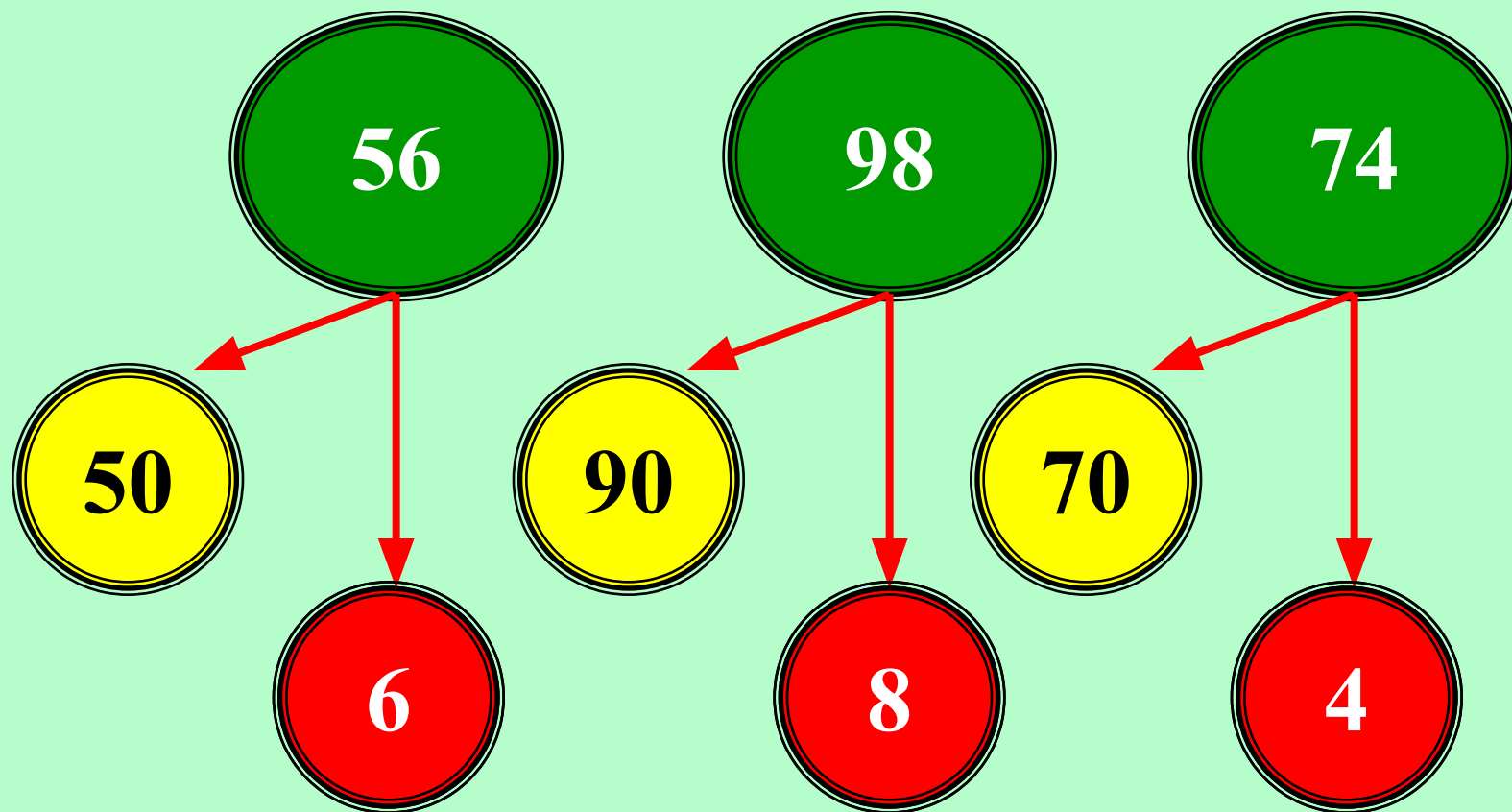
$$8 + \overset{5}{\underset{0}{}} = 58$$



На сколько второе число больше или меньше первого?

1 – е число	8	38	49	10 0	20	50	58
2 – е число	10	32	51	97	10 0	42	78
	2	6	2	3	80	8	20

Определи состав числа.



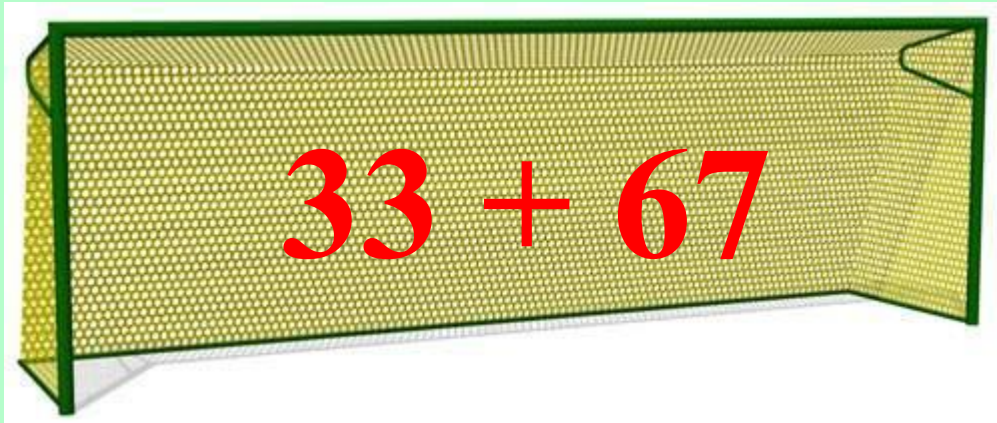


Помогите!!!



$$46 + 22$$





$33 + 67$



СПАСИБО!

