



Здравствуй, школа!


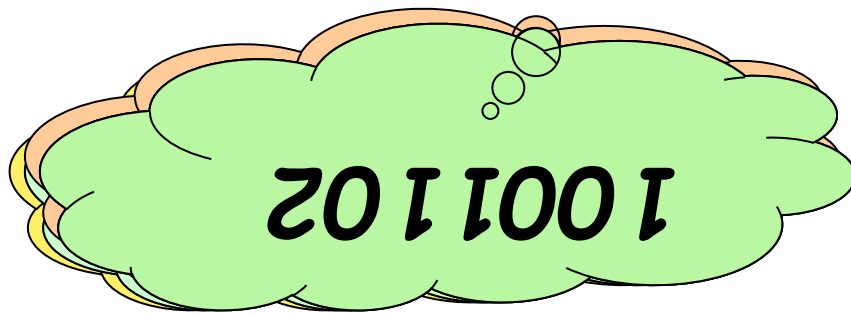
Первые уроки математики в 5 классе

Урок №1

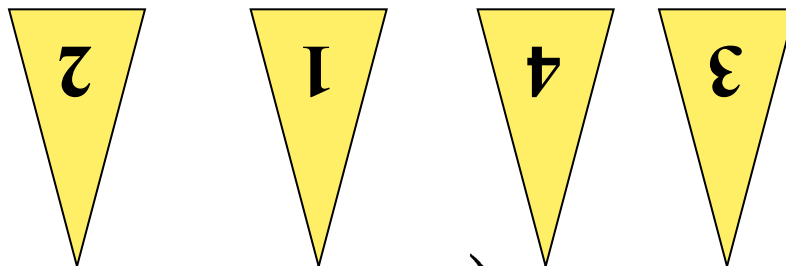


Ольшанская НВ


Прочитайте числа:



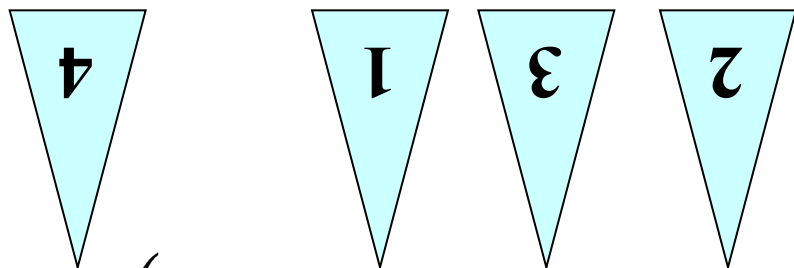
Укажите порядок действий в примерах:




a) $(41201 - 305 : 35) + 21 \cdot 3$



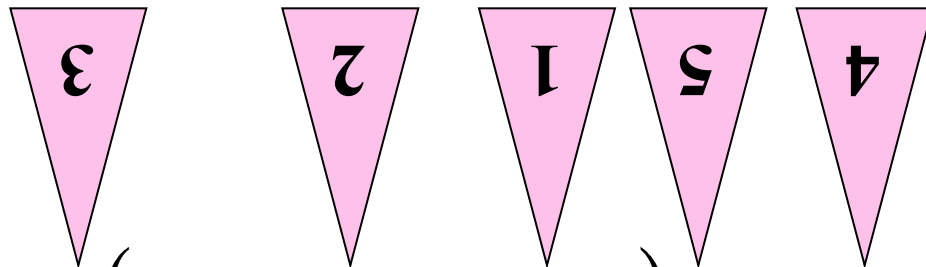
Укажите порядок действий в примерах:




$$б) 4235 + (4121 : 21 - 42 \cdot 590)$$



Укажите порядок действий в
примерах:



в) $5123 : (3425 - 445 \cdot 2) + 48 \cdot 45$



$$140:2 = \begin{matrix} 7 \\ 0 \end{matrix}$$

$$\begin{matrix} + \\ 5 \\ 0 \end{matrix}$$

$$120$$

$$\begin{matrix} : \\ 4 \end{matrix}$$

$$30$$

$$\begin{matrix} - \\ 2 \\ 9 \end{matrix}$$

$$1$$

$$\begin{matrix} \times \\ 8 \end{matrix}$$

$$560 +$$

$$\begin{matrix} 4 \\ 4 \end{matrix}$$


$$1000^0$$

$$\begin{matrix} : \\ 1 \\ 0 \end{matrix}$$

$$100$$

$$+$$

$$101$$



Выполните действия:



a) $57369 + 2947 = 60316$

б) $97343 - 2089 = 95254$

в) $123 \cdot 305 = 37515$

г) $5220 : 145 = 36$

д) $49 \cdot 23 + 3920 : 28 =$

1267



Найдите ошибки в решении
примера:

$$270 + 300 \cdot 60 - 840 : 6 = 18130$$

1) ~~$300 + 600 = 18000$~~ ;

2) ~~$840 : 60 = 140200$~~ ;

3) ~~$24200 - 188400 = 18260$~~ ;

4) ~~$18260 : 6149560 = 8130$~~



МОЛОДЦЫ!



Баба Яга утверждает что
Змей Горыныч не пролетит 1000 км
без дозаправки. Кощей Бессмертный
поспорил с ней на бочку кваса, что
пролетит Змей Горыныч
пролетел 4 часа со скоростью
247 км/ч и, совершив
вынужденную посадку, съел
Ивана царевича. Проиграла
Баба Яга. Не пролетела

пролетела

988км

Проиграла!




Семеро козлят спешили на праздник и поэтому двигались с одинаковой скоростью. Один козленок нигде не задерживался и пришел вовремя, а остальные останавливались, чтобы быстренько подкрепиться травкой.

В первый раз шестеро козлят подкреплялись 18 секунд, во второй - в два раза дольше, а в третий - на полминуты меньше чем во второй. На сколько минут опоздали шестеро козлят?



На 1
мин.

Домашнее задание:




№ 19:
№ 22(е, ж, э)



Познакомьтесь:

Мряка

Бряка



Отправляясь гулять, Мряка каждый раз надевает 3 фуфыры, а Бряка только 2. Домой они обе всегда возвращаются совершенно голые. Сколько фуфыр расперяли Мряка и Бряка за лето, если известно, что Мряка гуляла летом 150 раз, а Бряка 180 раз?


Познакомьтесь:

Мряка

Бряка



Бряка наклюсюкала 356 парфусиков, а Мряка наплюфукала в 3 раза больше парфусиков, да еще и отняла у Бряки половину её парфусиков. Сколько парфусиков у Мряки?



В презентации использованы
картинки из книги:
Георгий Остер «Задачник»

