

Математическая викторина «В гостях у мудрой совы»

2 класс

Чернова Н.А.



Меню викторины

- конкурс «Разминка»
- конкурс «Острый глаз»
- конкурс «Логический»
- конкурс «Отгадай ребус»
- конкурс «Математические бусы»
- конкурс «Сказочный»

Разминка




- Около столовой, где обедали лыжники, пришедшие из похода, стояли 20 лыж, а в снег было воткнуто 20 палок. Сколько лыжников ходило в поход?
- Дед, баба, внучка, Жучка, кошка и мышка тянули-тянули репку и, наконец, вытянули. Сколько глаз смотрело на репку?
- Бабушка вязала внукам шарфы и варежки. Всего она связала 3 шарфа и 6 варежек. Сколько внуков у бабушки?
- За столом сидели две дочери, две матери и одна бабушка. Сколько человек сидели за столом?



Разминка



10 лыжников



12 глаз



3 внука




3 человека



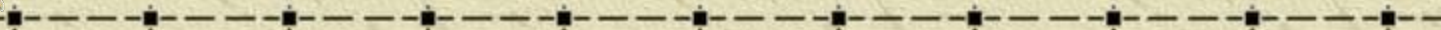
Острый глаз

Сколько
треугольников
нарисовано?






Острый глаз



9 треугольников






Логический

**Кто старше?
Три брата - Ваня, Саша,
Коля - учились в разных
классах. Ваня был не
старше Коли, а Саша – не
старше Вани. Назовите
имена старшего, среднего и
младшего братьев.**




Логический



Саша



Ваня

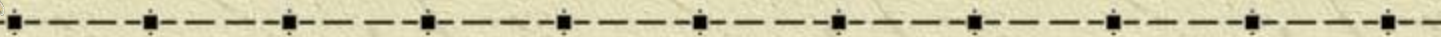


Коля






Отгадай ребус



ЧИ



,

Д „





Отгадай ребус





Математические бусы

Из разных цифр я сделал бусы,
А в тех кружках, где чисел нет,
Расставьте минусы и плюсы,
Чтоб данный получить ответ.

$$44 \circ 15 \circ 13 \circ 7 = 23$$

$$86 \circ 45 \circ 34 \circ 3 = 78$$



Сказочный

- Сколько козлят было у многодетной козы?
 - Сколько бойцов было у Али-Бабы?
- Сколько лет жил старик со старухой у моря в сказке А.С. Пушкина «Сказка о рыбаке и рыбке»?
 - Сколько гномов приютили Белоснежку?



Сказочный



Семеро



Сорок



Тридцать
три



Семь