



Посчитать геометрические фигуры. Считать так: 1-й круг, 1-й треугольник, 2-й круг, 1-й квадрат и т.д.



Как называется раздел геометрии, который изучает фигуры на плоскости?

Ответ

Сосчитать, сколько углов, меньших 180° , изображено на рисунке



Ответ

Сколько стало углов ?



Ответ


- Как называется утверждение, которое принимается без доказательств?

- Ответ

Как называется фигура,
которая получается от
вращения прямоугольного
треугольника вокруг катета

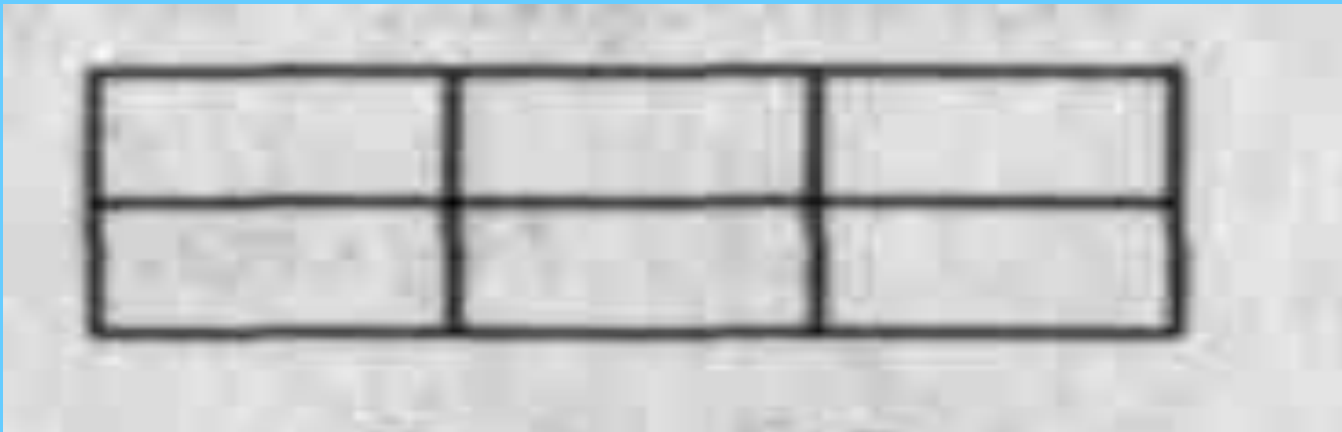
Ответ

Сколько здесь треугольников




Ответ

Сколько прямоугольников



Ответ

Сколько на рисунке углов,
меньших 180° ?

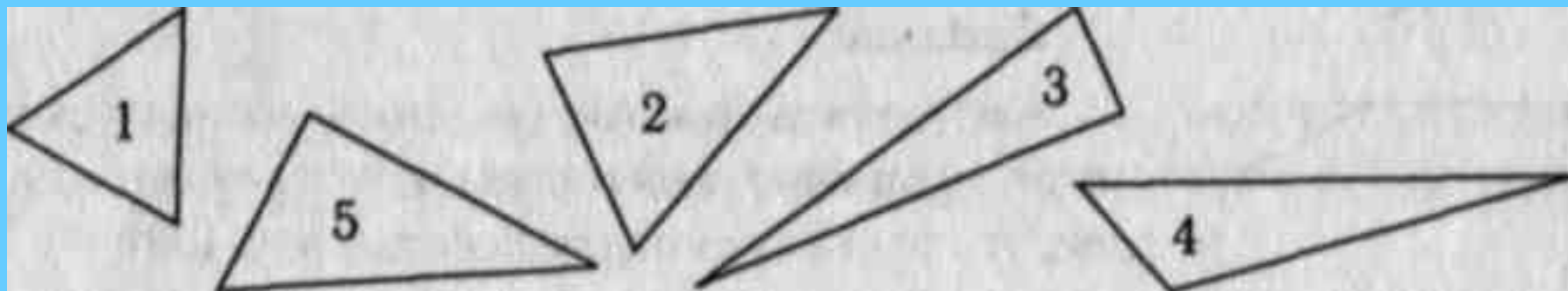


Ответ

Как называются рассуждения о правильности той или иной теоремы?

Ответ

Какой треугольник на рис. 12
«лишний»?



Ответ

**С помощью какого
инструмента можно строить
правильные многоугольники**

Ответ

Назовите ученого, который написал самый первый учебник по геометрии. Он однофамилец известного греческого медика.

Ответ



Планиметрия



10 углов



ПЯТЬ



Аксиома



Конус



Восемнадцать



Восемнадцатъ



12 углов



Доказательство



Четвертый



Циркуля и линейки



Г	и	п	п	о	к	р	а	т
---	---	---	---	---	---	---	---	---



Спасибо за участие в игре