

Тема урока: «Географическое положение Австралии»

Ичрокунандагон
хонандагони 10Б

Практическая работа № 3 «Географическое положение Австралии»

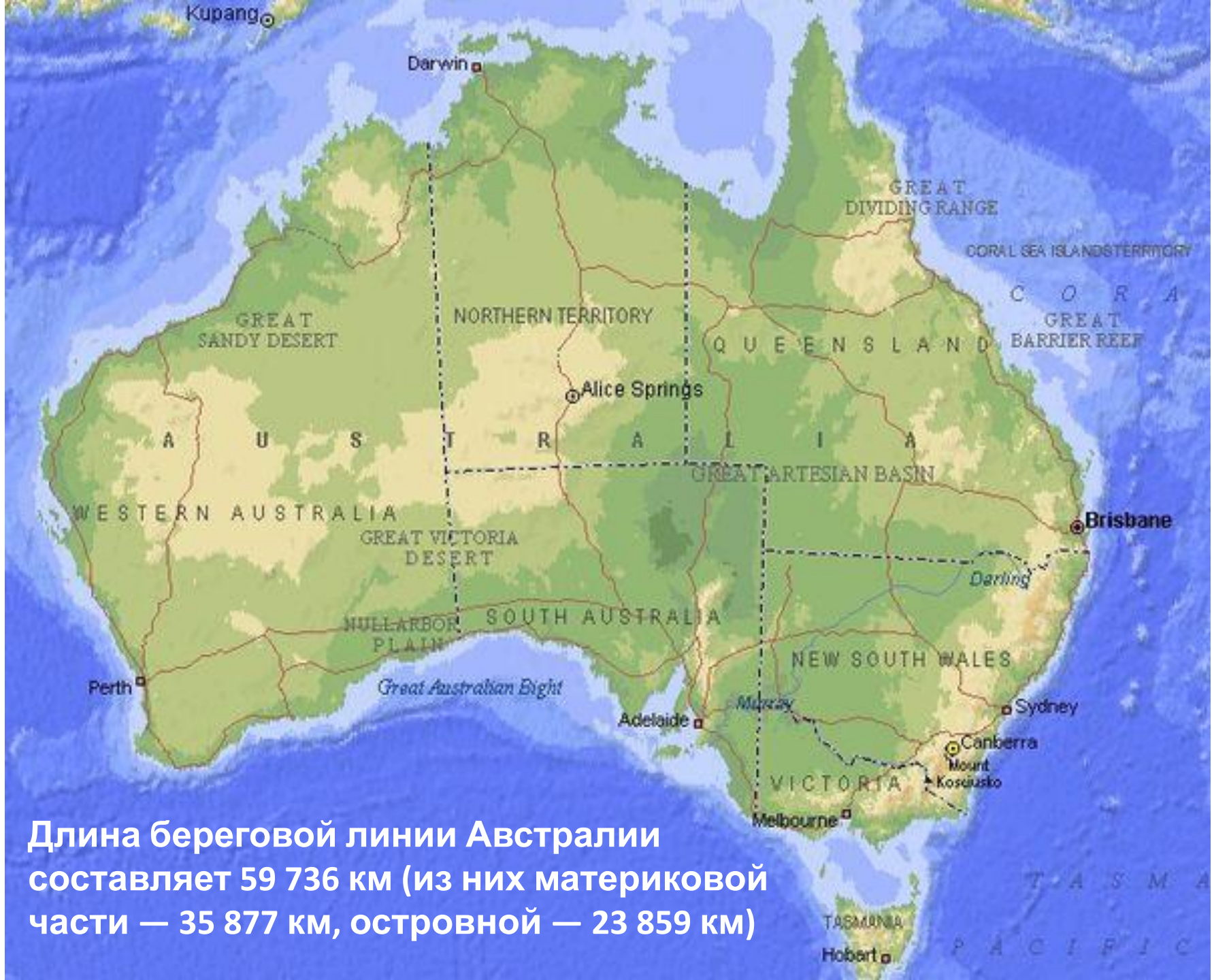
- **Задание:** 1. пользуясь атласом и учебником с. 148 опишите географическое положение Австралии в тетради по плану:
- название, площадь материка, место по площади
- положение по отношению к экватору и нулевому меридиану
- чем омывается и с какой стороны
- положение по отношению к другим материкам
- крайние точки и их координаты
- протяженность с/ю и з/в
- географические пояса
- 2. На контуре Австралии отметьте береговые объекты, крайние точки и протяженность материка



Примеры ответов:

- 1. Материк Австралия (в переводе «Южная Земля») имеет площадь 7 692 024 км².
- Это самый маленький (6-й) по площади материк Земли, и шестое по площади государство в мире после России, Канады, Китая, США и Бразилии, занимает около 5 % поверхности суши.
- 2. Австралия полностью лежит южнее экватора и восточнее нулевого меридиана.





Длина береговой линии Австралии составляет 59 736 км (из них материковой части — 35 877 км, островной — 23 859 км)

- 3. Северное и восточное побережья Австралии омывают моря Тихого океана: Арафурское, Коралловое, Тасманово, Тиморское моря; западное и южное — Индийский океан.





INDONESIA

PAPUA
NEW
GUINEA

SOLOMON
ISLANDS

AUSTRALIA

EDITION 1

Simple Conic Projection

0 200 400 kilometres



3000 1500 1000 500 200 0 200
Heights and depths are shown in metres

Populated places

- Greater than 1 000 000
- 100 001 - 1 000 000
- 20 000 - 100 000
- Less than 20 000

Population figures based on 1991 Census data

- Road, principal
- Selected railways
- 7382 Spot elevation
- State boundary

- River, perennial
- River, non-perennial
- Lake, perennial
- Lake, non-perennial
- Reef

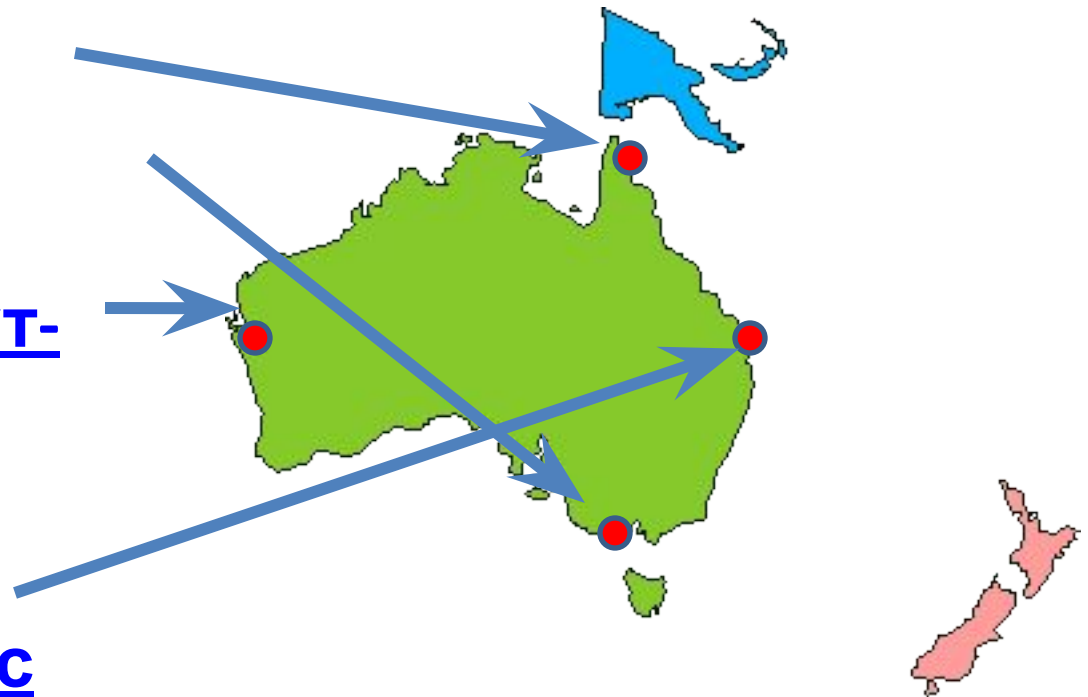
Australian Report Map
© copyright Commonwealth of Australia
(Geoscience Australia) 1996

- 4. Австралия сильно удалена от других материков, ближе всего к ней Азия через острова Индонезии и Антарктида.

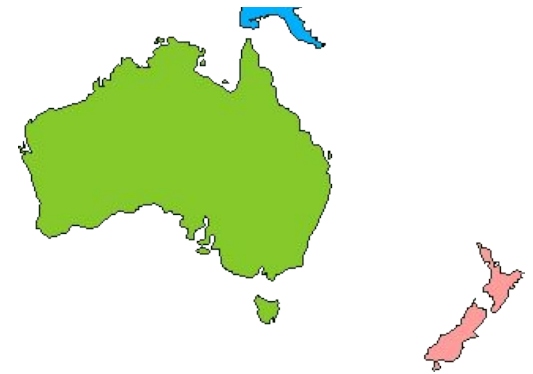


- 5. Крайние точки материка:

- на севере — [МЫС Йорк](#)
- на юге — [МЫС Саут-Ист-Кейп](#)
- на западе — [МЫС Стип-Пойнт](#)
- на востоке — [МЫС Байрон](#)



Крайние точки



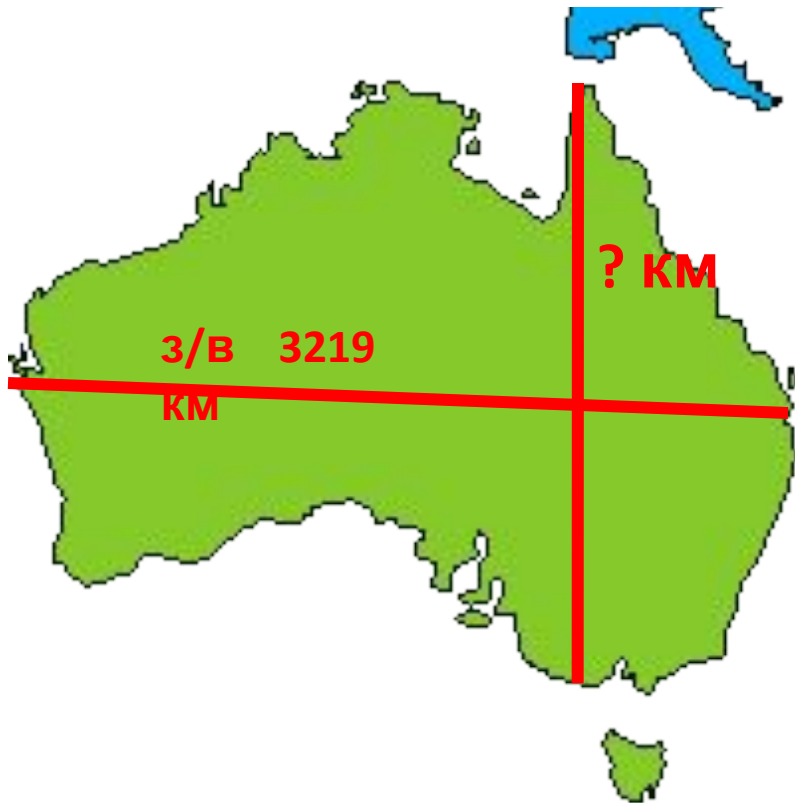
- **На севере**
- мыс ЙОРК $10^{\circ}41'$ ю.ш. $142^{\circ} 32'$ в.д.
- **На юге**
- мыс Сайт-Ист-Поинт (ранее Юго-Восточный)
- $39^{\circ}11'$ ю.ш. 147° в.д.
- **На западе**
- мыс Стип-Поинт $26^{\circ}09'$ ю.ш. $113^{\circ} 05'$ в.д.
- **На востоке**
- мыс Байрона $28^{\circ}38'$ ю.ш. $153^{\circ} 39'$ в.д.

6. Протяженность материка

с севера на юг между крайними точками:

$$111 \text{ км} (39^\circ \text{ ю.ш.} - 10^\circ \text{ ю.ш.}) = 3219 \text{ км},$$

с запада на восток **км** **x** **см** =
км



7. Австралия расположена в 3 природных поясах: субэкваториальном, тропическом и субтропическом.



2. На контуре Австралии отметьте береговые объекты, крайние точки и протяженность материка

