

Тема: «Сложение с помощью линейки: прибавление числа 6.



МОУ СОШ № 16
Учитель начальных классов
Завадская Л.В.
1 класс.
2009 Г.





Собери цветы.



Состав числа 6.

4



Ошибка!



Правильно!




3



Ошибка!



Правильно!




2



Ошибка!



Правильно!




1



Ошибка!



Правильно!




5



Ошибка!



Правильно!



Спасибо!



4+

4+



+3

6+



10




+2

5+




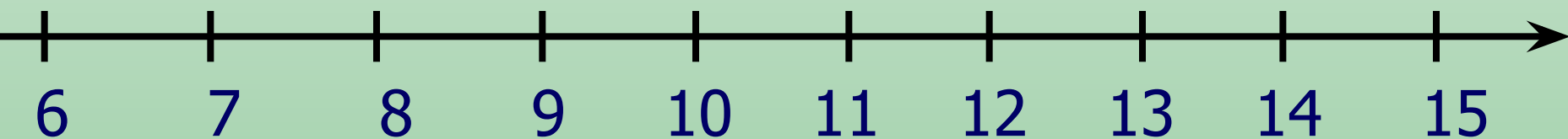
+7





$$6+6$$





$$6+6 = 12$$

10

$$\textcircled{6+4} + 2 = 12$$

$$8+6 = 14$$

10

$$\textcircled{8+2} + 4 = 14$$

$$7+6 = 13$$

10

$$\textcircled{7+3} + 3 = 13$$

$$9+6 = 15$$

10

$$\textcircled{9+1} + 5 = 15$$



$$6 + 7 = 13$$

$$6 + 9 = 15$$

$$6 + 8 = 14$$

$$6 + 6 = 12$$



Молодцы!