

# Физический диктант №1

Темы: Материальная точка.  
Система отсчета.  
Перемещение.

## Вариант 1

1. Механическое движение
2. Что входит в систему отсчета
3. Перемещение

---

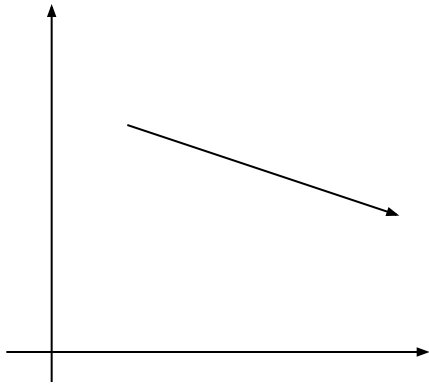
## Вариант 2

1. Материальная точка
2. Поступательное движение
3. Путь

## Вариант 1

4. Тело движется из пункта А в пункт В.  
Изобразите вектор перемещения

5.

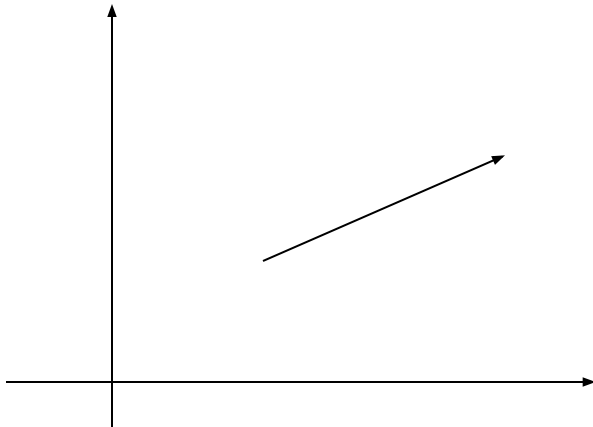


Изобразить проекцию на ОХ

## Вариант 2

4. Чем отличается перемещение от пути

5.



Изобразить проекцию на ОУ

## Вариант 1

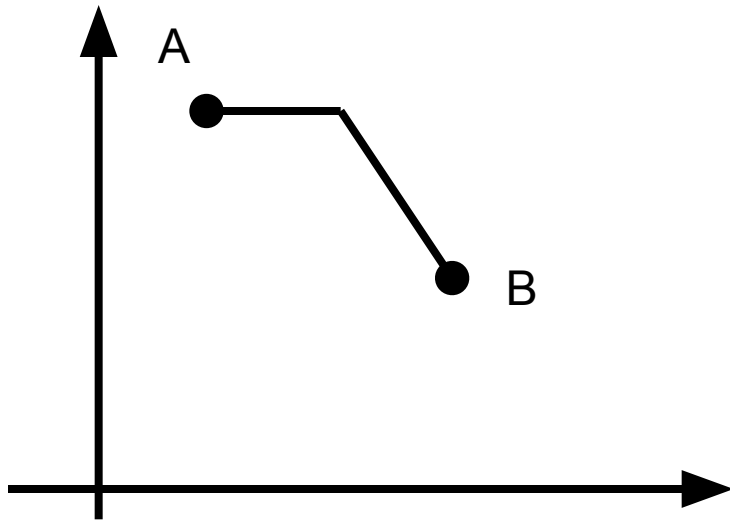
6. Как можно вычислить проекцию вектора на  $Ox$

## Вариант 2

6. Как можно вычислить проекцию вектора на  $Oy$

7. Изобразите вектор перемещения и его проекции на оси координат. Если тело передвигается из пункта А в пункт В.

Вариант 1



Вариант 2

