
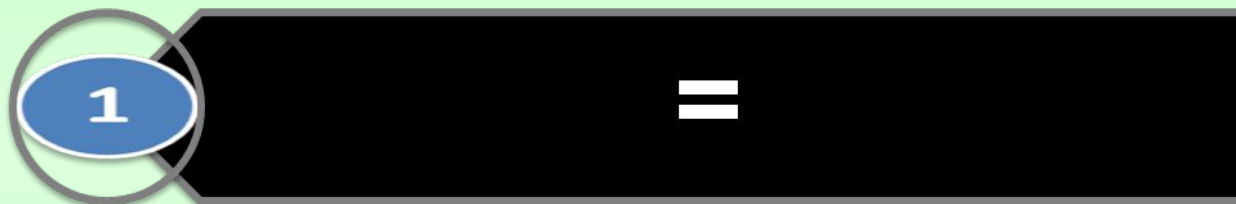


ТЕСТ ПО МАТЕМАТИКЕ



1. Выбери знак, пропущенный
в записи: 40 мин ... 1 ч.



2. Сколько воды в трёх бочках, если в каждой по 10 вёдер?

1 13 вёдер

2 30 вёдер

3 20 вёдер

3. Какой знак пропущен в
записи: $8 \cdot 7 + 8 \dots 8 \cdot 9 - 8$?

1 $>$

2 $<$

3 $=$

4. Выбери выражение,
которое имеет наибольшее
значение.

1 $18 \cdot 2$

2 $5 \cdot 18$

3 $18 \cdot 3$

5. После того как из бочки взяли воду для полива двух яблонь, по 6 вёдер на каждую яблоню, в ней осталось 8 вёдер воды. Сколько вёдер воды было в бочке?

- 1 **12 вёдер**
- 2 **14 вёдер**
- 3 **20 вёдер**

6. Уменьши 4 м на 3 дм.
Какая величина получится?

1 43 м

2 1 м

3 37 дм

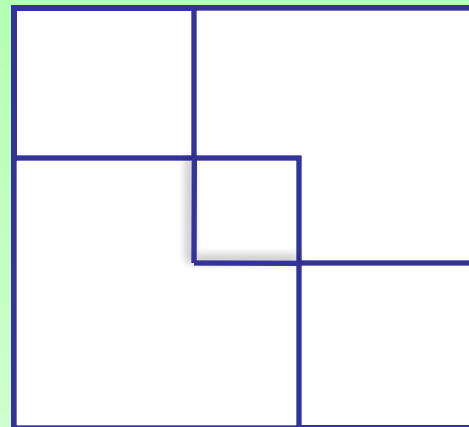
8. . Увеличь 35 на 4 сотни.
Какое число получится?

1 39

2 75

3 435

15. Сколько
квадратов на
чертеже?



- 1 **3 квадрата**
- 2 **6 квадратов**
- 3 **5 квадратов**

Проверь себя!

1. <

4.5*18

7.435

2.30 ведер

5.20 ведер

8.6 квадратов

3. <

6. 37 дм

Молодцы!

