

«ЮНЫЙ МАТЕМАТИК»



$45 : ? * 3 = 15$

$27 : ? = 3$



$21 > 12$

32%

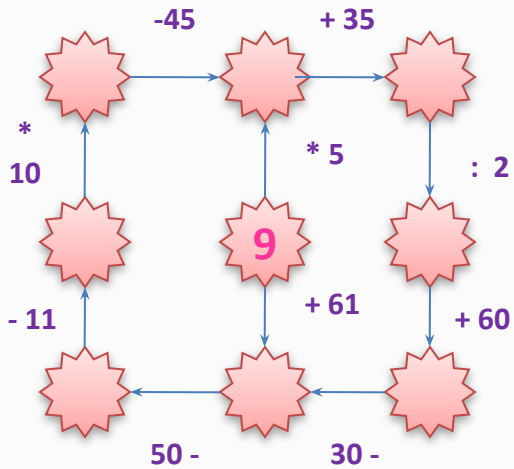
$47 - ? = 28$

$7 * ? = 56$

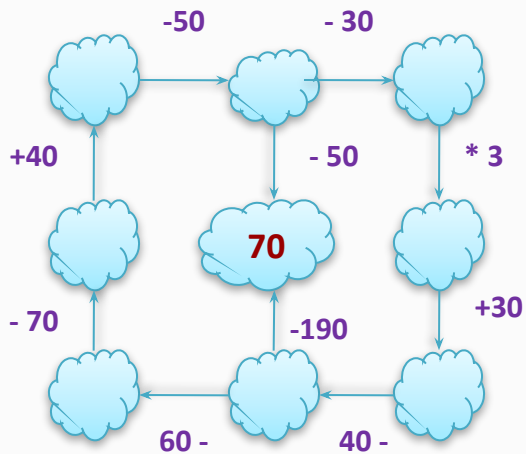
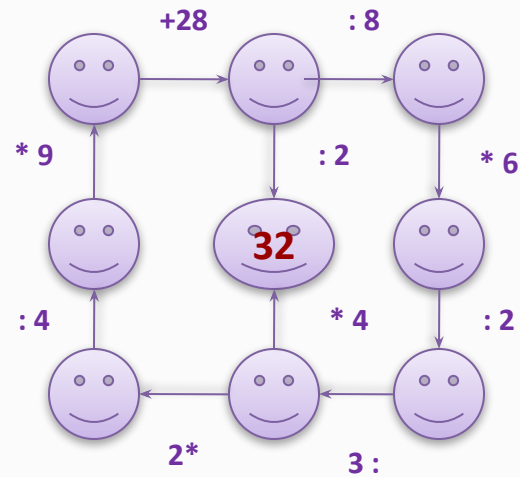
ДЕТСКИЙ ЖУРНАЛ УЧАЩИХСЯ 3 «А» КЛАССА
МОУ «ДАШКОВСКАЯ СРЕДНЯЯ
ОБЩЕОБРАЗОВАТЕЛЬНАЯ ШКОЛА»

ГОЛОВОЛОМКИ С ЧИСЛАМИ

$75 + ? - 25 = 65$



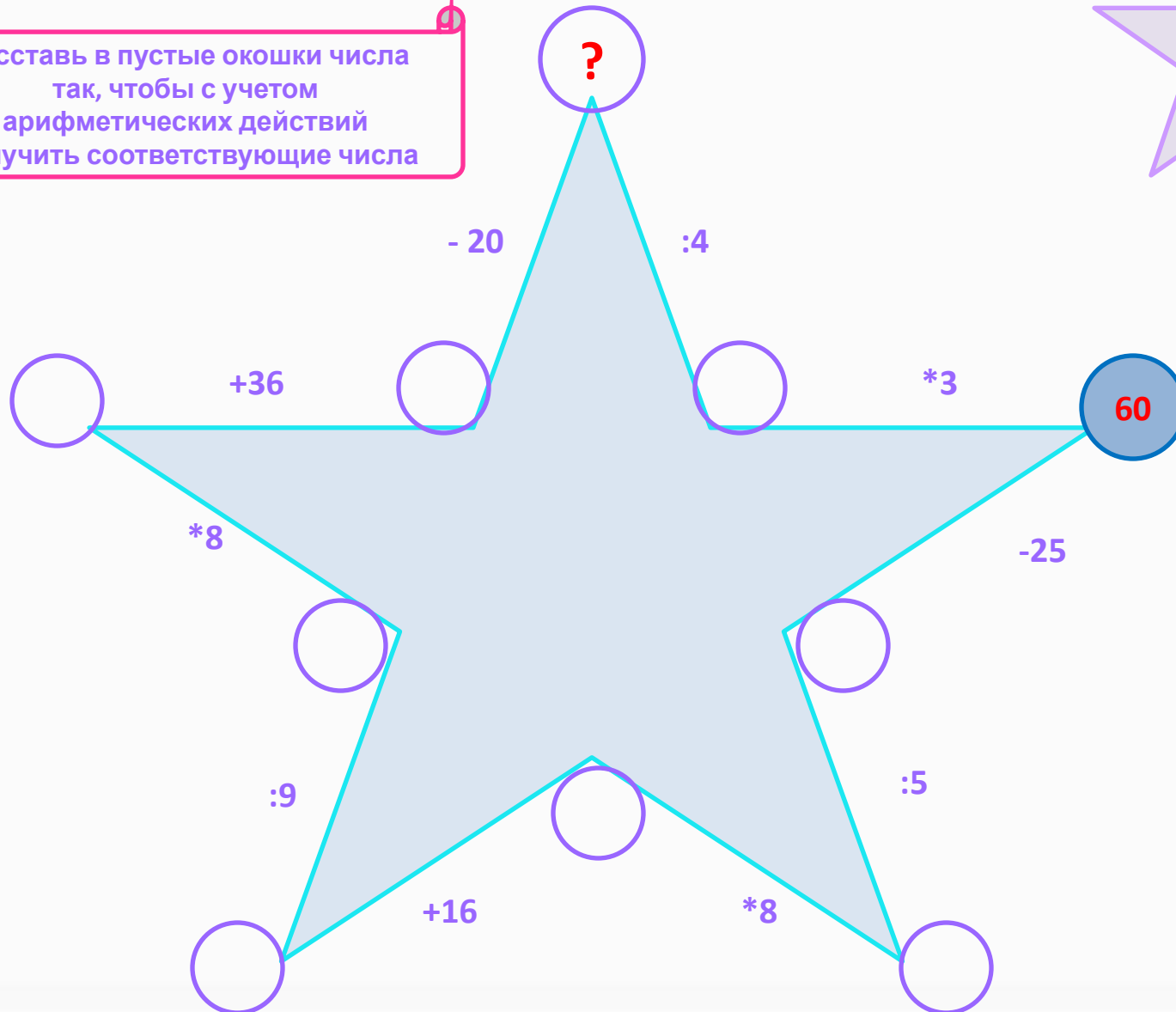
Расставь в пустые окошки числа так, чтобы с учетом арифметических действий получить соответствующие числа



Головоломка «Звезда»



Расставь в пустые окошки числа так, чтобы с учетом арифметических действий получить соответствующие числа



№1. Угадай числа.

$$? : 9 : 7 * 9 * 2 : 3 * 6 : 9 \cdot 4 : 8 \cdot 3 \cdot 9 = 54$$

$$? - 90 + 60 - 30 + 70 - 90 - 30 + 80 - 70 + 90 - 80 = 70$$

№ 2. Задача.

Саша за альбом заплатил 12 рублей и ещё половину стоимости альбома. Пенал стоит в 4 раза дороже, чем блокнот. Саша купил альбом и блокнот. Сколько денег заплатил Саша в кассу?

№ 3. Задача.

Артем начертил прямоугольник. Ширина прямоугольника - 45 мм, а длина составляет пять девятых ширины. Найдите периметр прямоугольника.

№ 4. Задача.

Семён, Коля, Женя, Алексей и Витя рисовали вертолёты, самолеты и корабли. Всего они нарисовали 33 вида транспорта. Если пересчитать вертолёты и корабли, то получится 25, а если вертолёты и самолёты, то получится 19. Сколько самолётов, вертолётов и кораблей в отдельности нарисовали мальчики?

№ 6. Задача.

Лиза задумала число. Если его умножить на 3 и увеличить на это же задуманное число, получится 60. Какое число задумала Лиза? Запишите чему равна сумма цифр данного числа?

№7. Допиши предложения.

Вчера была пятница, значит завтра будет _____

Завтра будет среда, значит вчера был _____, а позавчера

_____.

НАЙДИТЕ ЗНАЧЕНИЯ ВЫРАЖЕНИЙ

Вычислите

$$205 - (54 : 6 * 8 + 18) + 18 : 3 * 6 : 4 + (705 - 109) = ?$$

$$156 + (115 - 96) - 36 : 9 * 4 : 2 * 6 + 339 - 426 + 42 : 7 * 4 = ?$$

$$536 + 309 - (21 : 7 * 9 + 29) - 308 + (178 - 89) + 417 = ?$$

Вместо звёздочек
поставьте нужные
цифры!

$$\begin{array}{r} * \quad 7 \quad 2 \\ - \quad 3 \quad * \quad * \\ \hline 2 \quad 2 \quad 5 \end{array}$$

$$\begin{array}{r} 3 \quad * \quad 8 \\ + \quad * \quad 5 \quad 7 \\ \hline 8 \quad 2 \quad * \end{array}$$

$$\begin{array}{r} 2 \quad * \quad 3 \\ - \quad \quad 9 \quad * \\ \hline 1 \quad 0 \quad 7 \end{array}$$

Задания составили Марина
Царькова и Миронов Артём.

ЛОГИЧЕСКАЯ ЗАДАЧА



Фотография подруг поможет в решении задачи!

- Анастасии на Новый год подруги подарили Снеговичков. Первый подарок – не Катин, второй – Снеговик в зелёном шарфе, но это не подарок Ани. Когда Настя принесла своего Снеговичка, Анастасия радостно сказала: «У него шарфик такого же цвета, как моя юбка и ленточка». Каких Снеговиков подарили подруги Анастасии? Чей подарок был первым, вторым? Ещё известно, что подарок Ани не был последним.



Фотографии Снеговиков сделаны Мариной Царьковой.

РЕШИТЕ ЗАДАЧУ МАРГАРИТЫ

- Баба-Яга отправилась в Тридевятое государство Тридесятое Королевство. Она пролетела на своей знаменитой быстроходной ступе 396 километров, как неожиданно ступа сломалась. Дальше Баба - Яга пошла пешком, причем прошла, конечно, на 378 километров меньше, чем пролетела на ступе. Как всегда ей повезло, Баба-Яга увидела под деревом мирно спящего Иванушку, а рядом с ним – ковёр - самолёт. Баба-Яга воспользовалась сном Ивана, украла ковёр-самолёт. Она пролетела на нём такое расстояние, какое она прошла пешком и пролетела на ступе. «Ух, вот оно - Тридевятое государство Тридесятое Королевство», - радостно воскликнула Ягуся. Вычислите, сколько километров составляет путь Бабы-Яги?



**АППЛИКАЦИЯ
АНАСТАСИИ
ГОЛОУЛИНОЙ**

РЕШИТЕ ЗАДАЧУ ГЛАФИРЫ

- Баба - Яга, Леший, Водяной и Кощей перед Новым годом наряжали в лесу ёлку. Баба-Яга повесила 48 ёлочных игрушек. Это в 3 раза меньше, чем повесил Леший. Водяной повесил на ёлку игрушек на 125 штук больше, чем Леший. Кощей повесил игрушек в 2 раза больше, чем повесила Баба – Яга.
- Сколько всего ёлочных игрушек повесили на ёлку?
- На сколько больше ёлочных игрушек повесил Водяной, чем каждый другой сказочный герой?
-



РИСУНОК КРИСТИНЫ
АНИКИНОЙ

У Бабы – Яги в 2012 году юбилей. Её друзья с лета готовили подарки, чтобы угодить Ягусе. Иванушка не забыл про старушку, прислал посылку. Сороки рано утром оповестили лес о юбилее Бабы- Яги. Михайло Иваныч, лесной почтальон, принёс посылку. Яга открыла коробку и обрадовалась: «Будет теперь у меня полезное занятие – вечерок коротать. Ох, угодил Иванушка, не забыл старушку». Не успела она до конца дочитать инструкцию, как прилетел Кощей и от души поздравил Ягу. Свой подарок он представил так: «Теперь скорость твоего передвижения увеличится втрое».

- Спасибо, друг, уважил меня. Давай разберемся с подарком Ивана. Больно штука мудреная, заковыристая.

Одних кнопок сотня.

Не успели они изучить программу, как пришли и другие гости. Третий подарок был от Кикиморы. Что подарили Леший, Кощей, Кикимора, Иванушка? Известно, самовар принесли последним.

Кто подарил ступу быстроходную, современный компьютер, кресло-качалку и самовар?

РЕШИТЕ ЗАДАЧУ



Рисунок Екатерины Крюковой

КРОССВОРД «МАТЕМАТИЧЕСКИЕ ТЕРМИНЫ»

$$32 : ? = 8$$

$$? * 7 = 63$$

с	т	ч	а	с	т	в	а	р	+	=	д
у	р	а	е	о	н	е	ь	8	п	7	е
м	н	з	5	с	л	н	л	4	р	е	л
м	о	с	ь	8	а	с	е	и	о	о	и
а	ю	т	л	*	г	т	т	з	в	м	м
с	т	ь	е	е	а	в	и	о	е	е	о
я	о	э	т	о	е	о	ж	л	д	а	е
ч	ь	н	и	м	м	о	о	с	е	ш	9
и	т	т	л	е	м	е	н	и	н	ь	%
л	а	с	е	а	н	о	м	ч	и	н	5
е	ч	в	д	т	е	ж	№	*	е	е	м
д	х	ы	ч	и	с	т	в	о	1	6	у

$$56 + ? = 63$$

$$? - 41 = 9$$

Автор: Наталья Безрученкова


БУМЕРАНГ С ЧИСЛАМИ

400	😊	100	440	😊	260	570	😊	😊	200	😊	550	
222	↙	500	😊	230	200	400	😊	130	😊	300	250	300
😊	378	😊	😊	270	125	470	😊	710	😊	400	😊	
400	😊	660	500	345	😊	530	100	370	190	😊	250	
😊	230	😊	😊	😊	255	😊	320	😊	460	320	708	
😊	😊	110	😊	245	😊	550	😊	220	😊	202	😊	
180	😊	222	😊	333	205	😊	395	340	😊	😊	90	
😊	820	😊	445	😊	😊	405	560	200	670	😊	620	
100	444	80	😊	570	678	😊	122	😊	😊	240	😊	
222	😊	334	120	😊	310	300	120	430	700	230	140	
😊	320	😊	😊	120	200	450	440	180	😊	222	😊	
380	😊	300	😊	340	😊	360	😊	😊	111	😊	677	

Сумма трёх чисел – 1000!

Способ расположения чисел при сложении — бумеранг. Будьте внимательны при поиске чисел, есть «ловушки». Три числа уже показаны в таблице. Найдите остальные!!!

КРОССВОРД «ГЕОМЕТРИЧЕСКИЕ ФИГУРЫ»



к	ф	ц	и	л	и	н	д	р	к
о	ь	н	и	к	п	к	р	у	и
н	л	б	ю	б	п	а	в	г	н
у	о	т	к	у	р	л	а	щ	ь
с	г	р	а	п	я	у	г	о	л
б	у	п	о	е	м	о	у	к	ь
б	е	я	в	ц	м	г	р	д	а
м	р	т	а	и	я	а	к	р	в
о	т	и	л	ш	а	р	и	а	к
р	ь	у	г	о	л	ь	н	т	о

Авторы: Новиков Олег и Трегубова
Дарья

Главный редактор: Валентина Павловна Усманова,
учитель начальных классов МОУ «Дашковская СОШ»

Редколлегия: Анастасия Голоулина, Марина Царькова,
Мария Вернигора, Екатерина Крюкова, Кристина
Аникина

Авторы кроссвордов, задач, головоломок с числами:

В.П. Усманова,

М. Царькова, М. Нестерова, Н. Безрученкова, Г. Усачёва,

Д. Трегубова, О. Новиков, А.Миронов

Ресурс Интернета - фон для презентации

<http://aida.ucoz.ru>