


1



Л.Н.ТОЛСТОЙ

2



М.В.ЛОМОНОСОВ

3




А.С.ПУШКИН

Четырёхугольники

2 задание

1



2



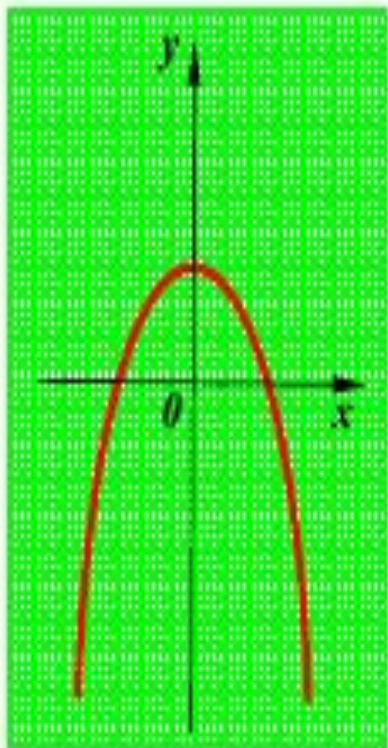
3




4



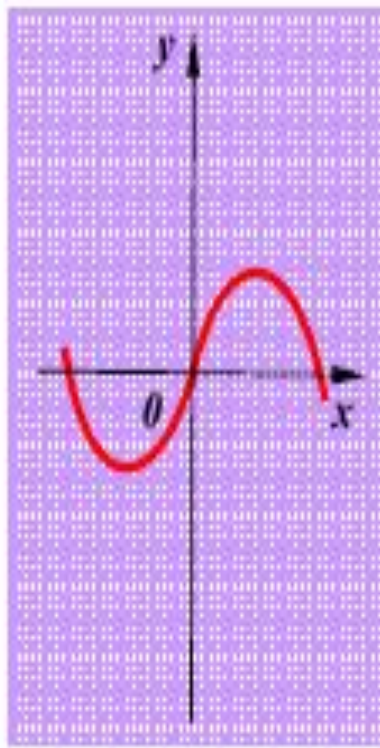
1



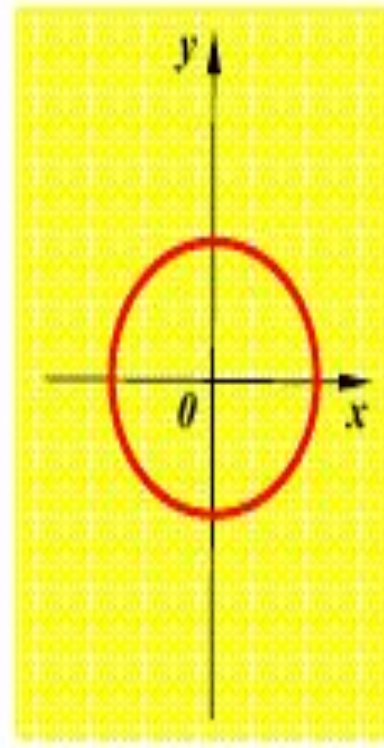
2



3



4



Перед вами четыре кривые.

1



ПИФАГОР

2



АРХИМЕД

3



ФАЛЕС

Перед вами портреты древнегреческих учёных, живших в VI – III вв. до н.э.

Квадратичные функции

1

$$y = -x^2 - 7x + 3$$

2

$$y = -1 + 3x + 7x^2$$

3

$$y = -(x+7)^2 - 3$$

4

$$y = 3 - 7x^2$$