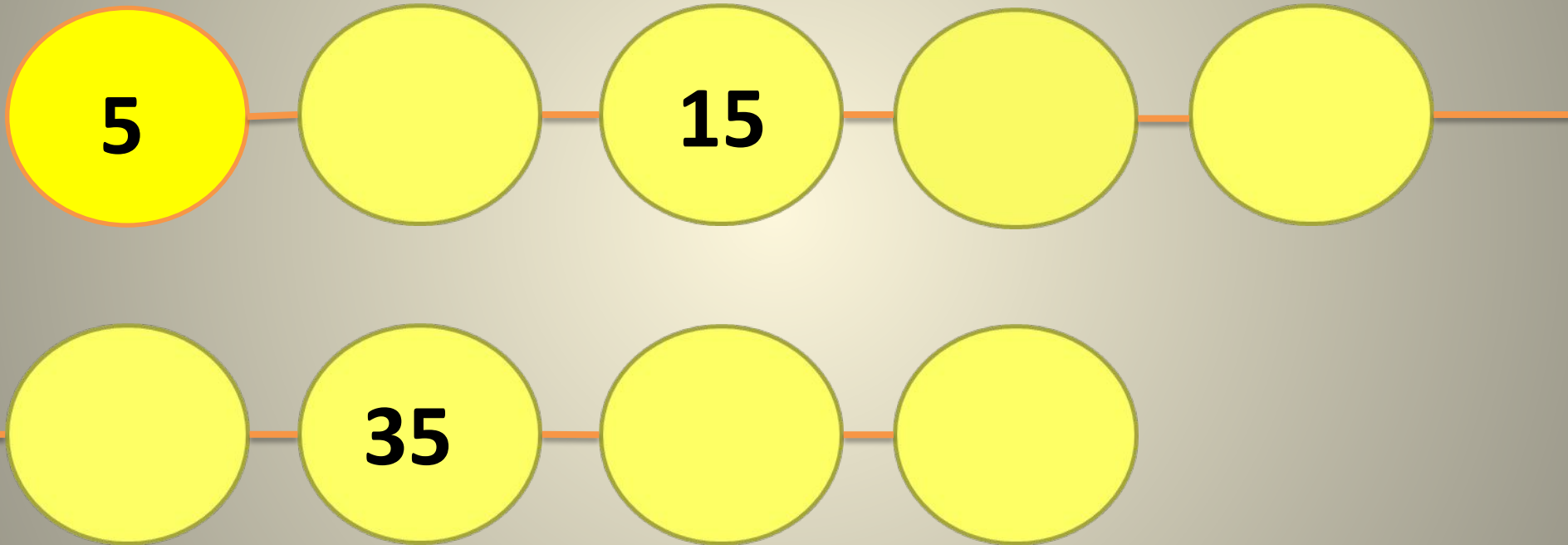


1) Восстанови пропуски



2) Расставь скобки, что бы значение было равно : 75

$$7 \times 9 + 12 : 3 - 2$$

**3) Записан ряд чисел от 1 до
99;**

1, 2, 3, ... 98, 99.

**Сколько раз в записи
чисел встречается
цифра 5?**

4) Что общего в числах

12; 26; 28; 24; 82; 62

**5) Назови общие признаки
чисел, получаемых в
результате**

42 : 6 и 48 : 6

6) Если в 12 часов ночи идет дождь, то можно ли ожидать, что через 72 часа будет солнечная погода?

$$7) \quad *** - 1 = **$$

**8) Крышка стола
имеет 4 угла. Один
из них отпилили.
Сколько углов стало
у крышки?**

**9) Запиши все
трехзначные числа
используя только цифры
0, 1, 5. При этом все
цифры в каждом числе
должны быть разными.**

1) Поставь знаки и скобки

$$9 \quad 9 \quad 9 = 2$$



$$9 \quad 9 \quad 9 = 0$$

$$9 \quad 9 \quad 9 = 10$$

$$9 \quad 9 \quad 9 = 72$$

$$9 \quad 9 \quad 9 = 90$$

$$9 \quad 9 \quad 9 = 9$$



Восстанови числа

$$\begin{array}{r} 2*4 \\ + *** \\ \hline 592 \end{array}$$

$$\begin{array}{r} 2*4 \\ + 30* \\ \hline *92 \end{array}$$

$$\begin{array}{r} 28* \\ + 308 \\ \hline **2 \end{array}$$

В двух коробках 84 конфеты. Когда из 1 коробки взяли 44 конфеты, а из второй коробки – 30 конфет, то в каждой из коробок осталось поровну. Сколько конфет было в каждой коробке

Реши выражения первого и второго столбиков. Закончи пословицы (соедини выражения с одинаковыми значениями):

$$4 \cdot 3$$

$$18 : 3$$

**(Много снега - ...) (Мало леса –
посади)**

$$12 : 2$$

$$42 - 22$$

**(Много леса – береги,...) (брат и
сестра)**

$$5 \quad 4$$

$$2 \quad 6$$

**Реши выражения и узнаешь
самую большую почку,
имеющуюся в природе.**

$$17 + 6$$

$$22(\text{н})$$

$$24 + 11$$

$$4 (\text{ч})$$

$$13 - 9$$

$$23 (\text{к})$$

$$18 + 7$$

$$35 (\text{о})$$

$$17 + 5$$

$$25 (\text{а})$$

**Реши цепочку и узнаешь, какое
насекомое сильнее слона.**

$$15 - 4 = \dots$$

28(в)

$$\dots + 6 = \dots$$

21(а)

$$\dots + 13 = \dots$$

30(р)

$$\dots - 9 = \dots$$

16(е)

$$\dots + 7 = \dots$$

24(й)

$$\dots - 12 = \dots$$

17(у)

$$\dots + 8 = \dots$$

11(м)

**Катя, Вера и Рита
нарисовали 3 цветка:
василёк, ромашку,
гвоздику. Какой цветок
нарисовала каждая
девочка, если Рита не
рисовала василёк, Вера не
рисовала ромашку и
василёк?**