

Районный семинар
«Использование И. Т на
уроках в начальной
школе»

Математика
3 класс
Чугина И.В

Путешествие к математическому полюсу

Карточка - Помогайка



На удобные слагаемые

На разрядные слагаемые

Получился пример

Решу его

Задумчивая поляна

5



Задумчивая
поляна

10 дес. 8 ед.

4дес. 8ед

1ед. 8дес

10дес

0ед

10дес. 8ед

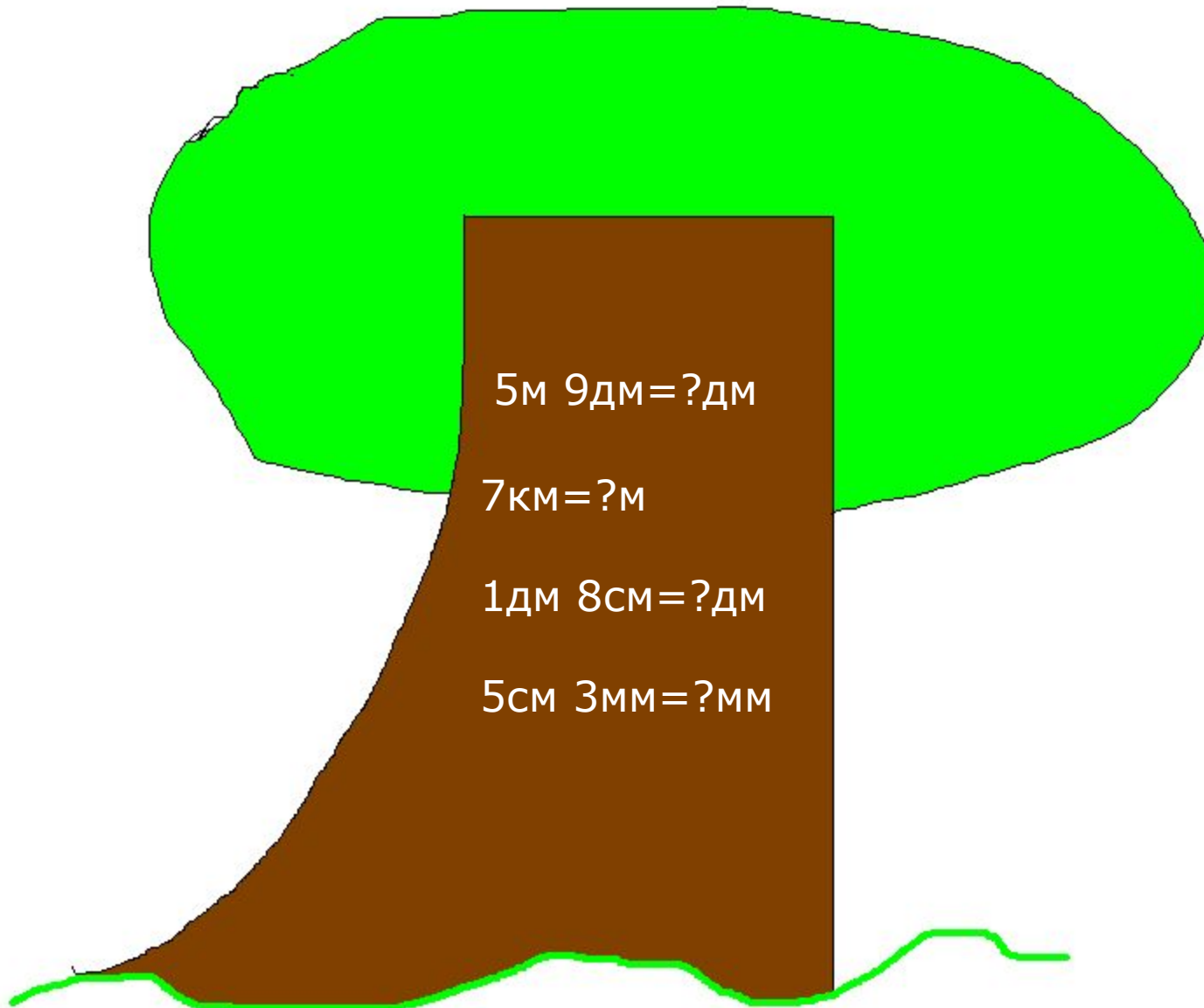
3дес. 9ед

Сравни первое и третье число

Сколько разрядов в первом числе?

Какое число имеет только один разряд?

Дерево непонятных единиц



$$5\text{м } 9\text{дм} = ?\text{дм}$$

$$7\text{км} = ?\text{м}$$

$$1\text{дм } 8\text{см} = ?\text{дм}$$

$$5\text{см } 3\text{мм} = ?\text{мм}$$

Озеро X

Икс-педичця

Х-?



Бука

7



1 группа

$$x:5=8$$

2 группа

$$450:x=9$$

3 группа

$$x*60=270$$

Гнездо улицы-Совы



$$(9 \cdot 6 + 2) : 8 + (21 - 21) : 7$$

1 группа

$$(4*5:10):1+5=$$


2 группа

$$(9*6+2):8+0-5=$$

3 группа

$$(9*6+2):8+(21-21):7$$

Кто быстрее?



Пятачок съел 18 ложек мёда, а Кролик в 3 раза меньше, чем Пятачок, а Винни съел столько, сколько Пятачок и Кролик вместе, да ещё 5 ложек. Сколько ложек мёда съел Винни?

П-18л

К-? В 3 раза меньше, чем

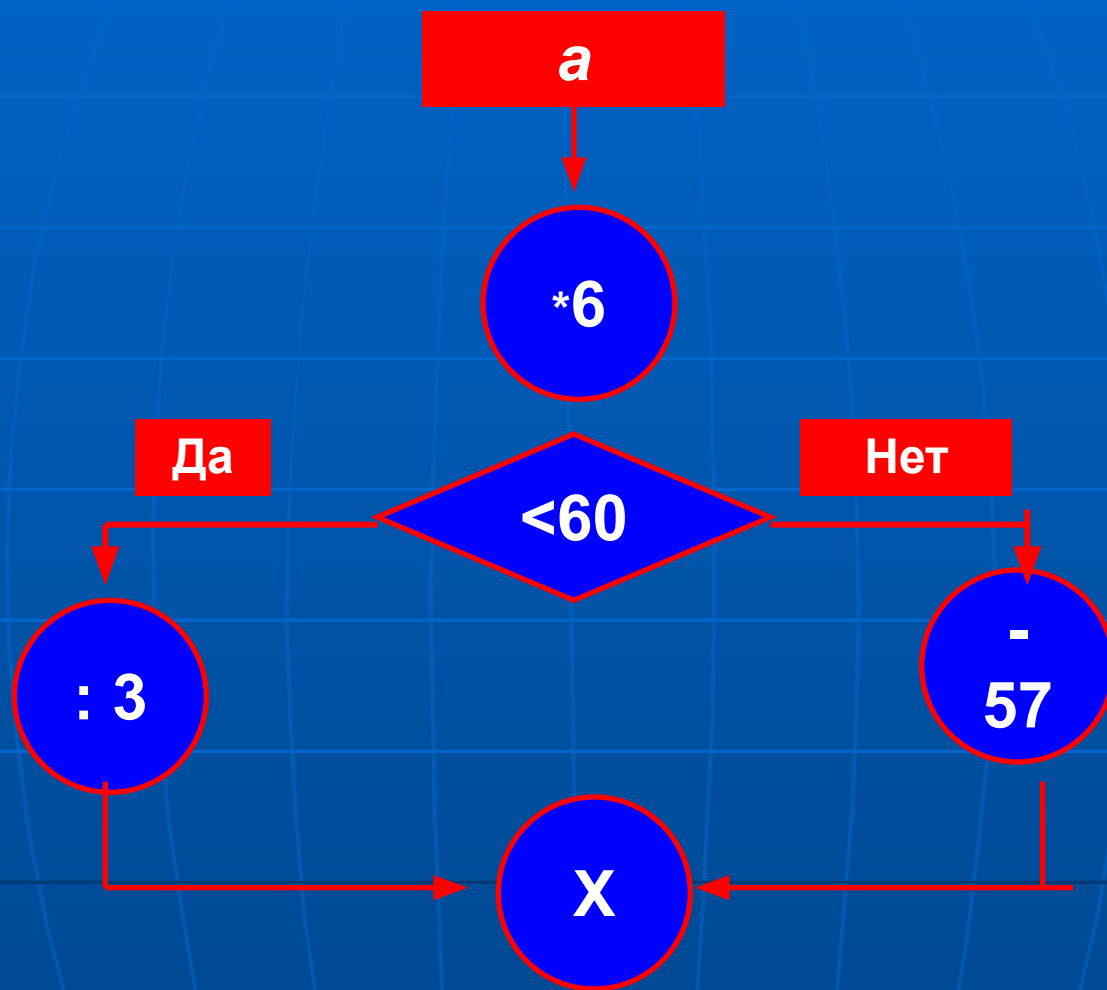
В-столько, сколько всего

+5л

1) $18:3=6(\text{л})$ -Кролик

2) $18+6=24(\text{л})$ -Кролик и Пятачок

3) $24+5=29(\text{л})$ -Съел Винни



А 0 5 1 4 3 8 10 7 2 6

Х

м и р а к д л н с е

8 3 8 14

8 3 12 6 4 8 14 16 12

0 10 3 14

<i>8</i>	<i>3</i>	<i>8</i>	<i>14</i>

<i>8</i>	<i>3</i>	<i>9</i>	<i>6</i>	<i>12</i>	<i>8</i>	<i>14</i>	<i>16</i>	<i>2</i>

<i>0</i>	<i>10</i>	<i>3</i>	<i>14</i>

МОЛОДЦЫ!

Алан Александр Милн

