

ельеф Южной Америки




Географический диктант

1. Самая северная точка Южной Америки.
2. Группа островов на юге Южной Америки.
3. Гора в Андах, приблизительно 16° ю.ш.
4. Самая южная материковая точка Южной Америки.
5. Групп островов на западе Южной Америки (0° ю.ш., 90° з.д.).
6. Группа островов на юго-востоке Южной Америки.
7. Крупный материковый остров на севере материка.
8. Какой из океанов оказывает наибольшее влияние на природу материка?



- С помощью карты «Строение земной коры» и физической карты мира установите связь между строением земной коры и формами



запад

ВОСТОК

СТРОЕНИЕ ЗЕМНОЙ КОРЫ

Области новой
складчатости

Древняя
платформа



запад

ВОСТОК



запад

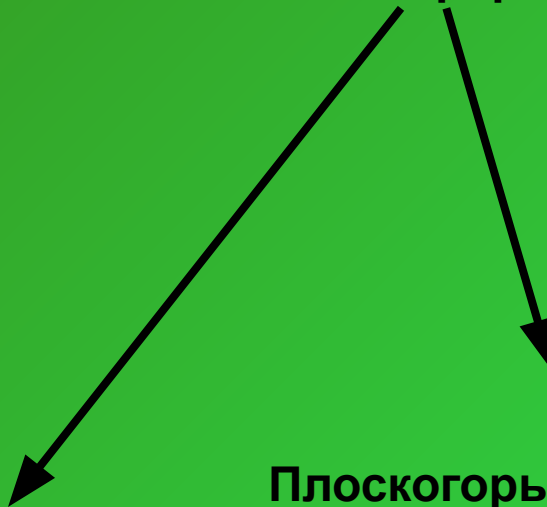
ВОСТОК

**Области новой
складчатости**



Горы Анды

**Древняя
платформа**



**Плоскогорья: Гвианское,
Бразильское**

**Низменности: Оринокская,
Амазонская,
Ла-Платская**



запад


ВОСТОК

- Найдите самую высокую точку на материке Южная Америка и самую низкую.



запад

ВОСТОК



Ледник Перито-Морено в Южных Андах.

запад



ВОСТОК



«Анта» - медь



Олово



Полиметаллические руды



Золото



Урановые руды



Каменный уголь



Железные руды



Нефть и газ



Алмазы



Марганцевые руды



запад

ВОСТОК

- Какие формы рельефа материка особенно богаты месторождениями полезных ископаемых магматического происхождения? Почему? (используйте учебник с. 167)
- Почему в Андах часты землетрясения и извержения вулканов?
- Как переводится название вулкана Котопахи? (используйте справочник диска)
- Рельеф какой части материка удобен для строительства, земледелия, размещения дорог?
- В каких странах материка есть месторождения:
 - а) нефти,
 - б) платины,
 - в) медных руд,
 - г) олова,
 - д) алмазов? (используйте политическую карту мира)

