

МАТЕМАТИЧЕСКАЯ ИГРА

«Думай, считай, отгадывай»



И
Г
Р
О
В
О
Е

1	2	3	4	5
6	7	9	8	10
11	12	13	14	15
16	17	18	19	20

П
О
Л
Е

Правила игры

5 – 5 баллов за
правильный
ответ


10 – без
борьбы 10
баллов

20 – команда
получит 20
баллов, если
правильно
ответит на 3
вопроса

0 – переход
хода к другой
команде

10 – задания
для всех
команд





Какое число
находится
во всех четырёх
кругах ?



ОТВЕТ




5



?

СКОЛЬКО КВАДРАТОВ НА
ЧЕРТЕЖЕ?



ОТВЕТ



Какая цифра на циферблате находится напротив цифры 3?

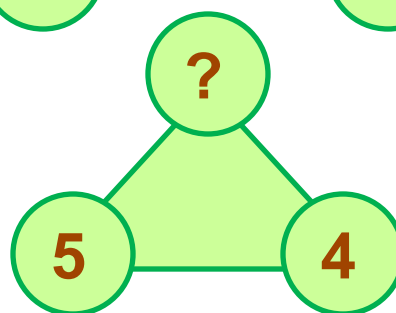
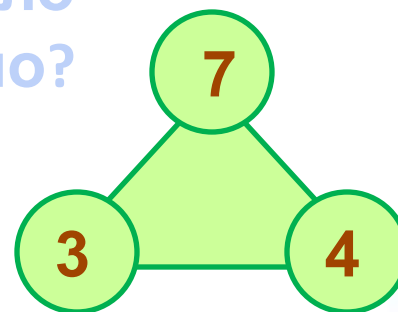
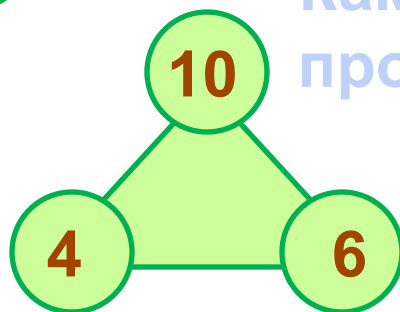
?





?

Найди
закономерность.
Какое число
пропущено?



ОТВЕТ



?

Нина

Ира

Света





Нина



Ира



Света



?



ОТВЕТ



?

СТРИЖ


ПОДВАЛ

РОДИНА





КОГДА ГУСЬ СТОИТ НА ДВУХ НОГАХ,
ТО ВЕСИТ 4 КГ. СКОЛЬКО БУДЕТ
ВЕСИТЬ
ГУСЬ, ЕСЛИ ВСТАНЕТ НА ОДНУ?



ответ


КАК НАЗЫВАЕТСЯ
РЕЗУЛЬТАТ
ПРИ СЛОЖЕНИИ ЧИСЕЛ?

ответ

СКОЛЬКО СТОРОН У
КВАДРАТА?

ответ





**КАК НАЗЫВАЮТ
МНОГОУГОЛЬНИК
С НАИМЕНЬШИМ ЧИСЛОМ
СТОРОН?**

ответ



**В НАЗВАНИИ КАКИХ ЛИТЕРАТУРНЫХ
ПРОИЗВЕДЕНИЙ ВСТРЕЧАЕТСЯ ЧИСЛО 3?**

ответ



**НА ОДНОМ ДЕРЕВЕ СИДЕЛО 40 СОРОК.
ПРОХОДИЛ ОХОТНИК, ВЫСТРЕЛИЛ И УБИЛ 6
СОРОК. СКОЛЬКО СОРОК ОСТАЛОСЬ НА
ДЕРЕВЕ?**

ответ



Игра «Считай, не зевай»



Ссылки:

http://picfun.ru/uploads/posts/2008-09/thumbs/1221031407_001.jpg -рамка математика

<http://v.foto.radikal.ru/0704/9e/c9f514b4b402.png> -рамка на 1 слайде

<http://com.lenagold.ru/fon/clipart/r/ram/uzor/ramk31.jpg><http://com.lenagold.ru/fon/clipart/r/ram/uzor/ramk31.jpg> -рамка на 2-3 слайдах

<http://im5-tub.yandex.net/i?id=98463916-02> –сова

<http://www.gift-company.ru/uploads/catalog/full/124298906868240.jpg> -мяч

<http://900igr.net/data/skazki-i-igry/CHej-zvuk-1.files/0003-010-CHasy.jpg> -часы

<http://com.lenagold.ru/fon/clipart/d/dosk/dosk26.jpg> -доска школьная

Подготовила: Бондаренко Т.В.