



# ГРЕКИ И КРИТЯНЕ

(Древнейшая Греция)

# ПЛАН УРОКА

1. Местонахождение и природа Древней Греции
2. о. Крит во II тыс. до н.э.
3. Миф о Тесее и Минотавре.
4. Гибель Критского Царства.



# ГРЕЦИЯ



- Города, населенные пункты
- Автомагистрали
- Главные автодороги
- Второстепенные автодороги
- Железные дороги
- Аэропорты
- Морские порты
- Памятники, святыни
- Византийские церкви




**ODYSSEY ADVERTISING**

© 2007 Odyssey Advertising All rights reserved  
 Отдел продаж культуры Библиотеки провинции  
 Athens - GREECE  
 Tel. (+3) 210 94 20 833. E-mail: odysseyto@otenet.gr  
 Design: O. Kovaleva

0 50 100км

# 1. ПРИРОДНЫЕ УСЛОВИЯ



Рассмотрите карту!

? Опишите природные условия Древней Греции?

*Окружена Эгейским и Ионическим морями;*

*Горная страна – г. Олимп;*

*Плодородных земель мало;*


*Полноводных рек нет.*

# Как вы думаете, чем занимались греки?



*Греция – бедная страна, в древности с трудом обеспечивала себя хлебом. В то же время ее природные условия благоприятствовали развитию ремесел (кузнечного, оружейного, гончарного, ювелирного, ткацкого)*

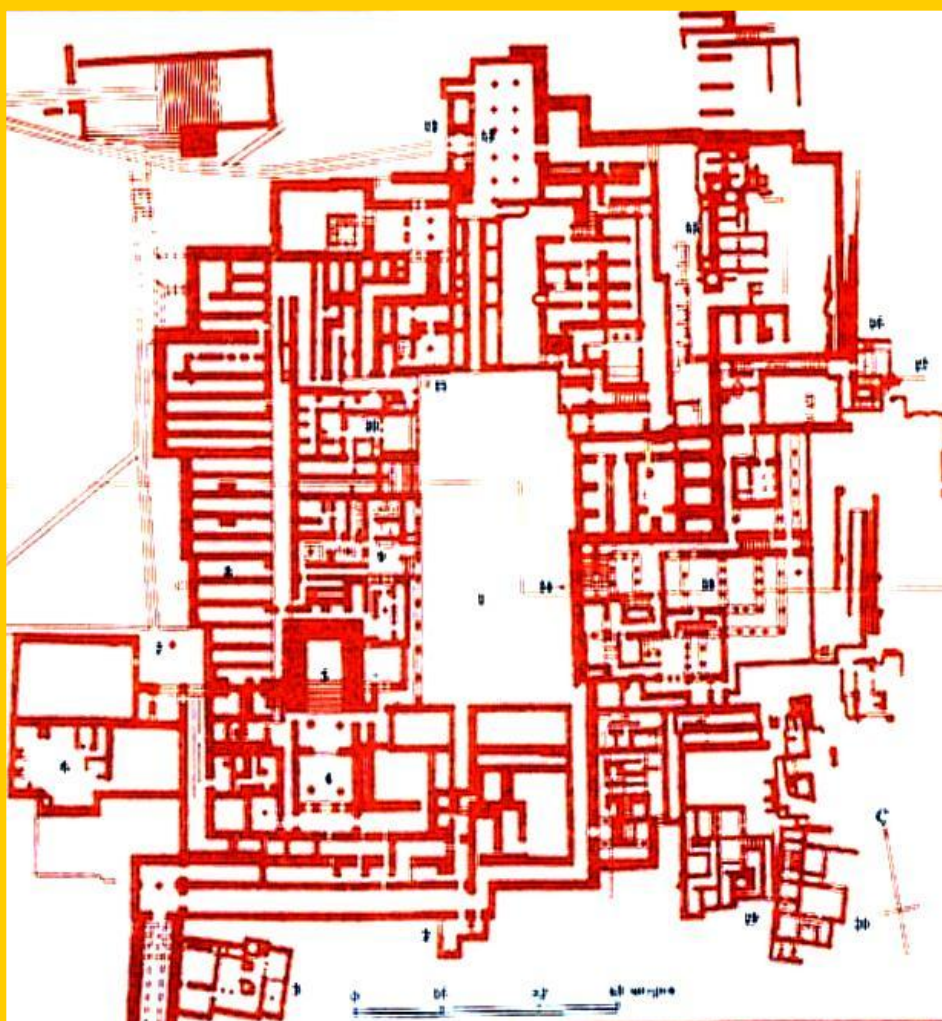
## 4. Древний Крит



**Центром древнегреческой цивилизации был остров Крит.**

**В центре острова в городе Кносс располагался легендарный дворец царя Миноса .**

## 4. Древний Крит.



**План Кносского дворца,  
послужившего пра-  
образом знаменитого  
Лабиринта.**

**Такой вид Дворец  
приобрел после  
множества перестроек  
после разрушавших его  
землетрясений.**

# Миф о Тесее и Минотавре



Тесей и Минотавр.  
Рисунок на критской вазе.

Одним из самых известных мифов посвященных Криту был миф о Тесее и Минотавре

В нем афиняне отразили свой страх перед разрушительными природными катастрофами.



# Предыстория мифа «О Тесее и Минотавре»

- "Минос, царь Кносса, Крита и всех эллинских морей, послал своего сына по имени Андрогей в Афины принять участие в играх. Более сильный, чем его соперники - греки, Андрогей одержал над ними победу, но был из зависти убит Эгеем, царём Афин. Разгневанный Минос послал в Афины свой флот, завладел городом и наложил на него ужасную контрибуцию: через каждые девять лет афиняне должны были посылать ему семь юношей и семь девушек в качестве жертв Минотавру

## 4. Гибель критского царства.

**Взрыв вулкана  
на о.Фера.**



**В 15 в. до н.э. Критская цивилизация погибла  
в результате взрыва вулкана о.Фера.**

**Постройки на нем были разрушены, население спасалось  
бегством. С этого времени начинается упадок минойской  
цивилизации.**

# Закрепление

1. *Выберите правильный ответ.*

Большую часть Греции покрывают:

- а) крутые обрывистые горы
- б) плодородные равнины
- в) огромные пустыни

2. *Выберите правильный ответ.*

Какой подвиг совершил герой Тесей:

- а) достал три золотых яблока из страны на краю света
- б) очистил за один день конюшни царя Авгия
- в) убил Минотавра

3. *Найдите лишнее.*

Во втором тысячелетии до н.э. греческие племена жили:

- а) на островах Эгейского моря
- б) на восточном побережье Средиземного моря
- в) в южной части Балканского полуострова
- г) в западной части полуострова Малая (Передняя) Азия

4. Назовите имена героев мифа

- а) М\_\_\_\_\_с – царь Крита
- б) А\_\_\_\_\_а – дочь критского царя
- в) Э\_\_\_\_й – царь Афин
- г) Т\_\_\_\_\_й – сын царя Афин
- д) М\_\_\_\_\_р – чудовище, жившее в лабиринте .
- е) Д\_\_\_\_\_л – знаменитый афинский мастер, живший на Крите

5. Выберите правильный ответ.

Где находится Греция:

- а) в южной части Балканского полуострова
- б) в западной части Азии
- в) в Восточной части Африки

6. Найдите лишнее.

Какими морями омывается территория Греции:

- а) Ионическим
- б) Красным
- в) Эгейским

7. Назовите принцип, объединяющий эти слова.

Памятники письменности Двуречья и Микен:

- а) не расшифрованы
- б) представлены в виде глиняных табличек
- в) покрыты клинописью

8. Выберите правильный ответ.

Могущественный древнейший греческий город Микены располагался:

- а) в Северной Греции
- б) на острове Крит
- в) в Средней Греции
- г) в Южной Греции