

Тестовая викторина

*«Улица как
источник
опасности»*



1

Пешеход — это:

1. Человек, производящий работу на дороге.
2. Лицо, идущее по тротуару.
3. Лицо, находящееся вне транспортного средства на дороге и не производящее на ней работу.



1

2.



?

3.



Какой из дорожных знаков называется «пешеходная дорожка»?

1. № 1.

2. № 2.


3. № 3.

2



Какие из перечисленных ситуаций могут стать причинами дорожно-транспортных происшествий?

1. Переход дороги в неустановленном месте.
2. Игры вблизи проезжей части.
- 3** 3. Хожждение по проезжей части.



4

Кто из пешеходов имеет право переходить дорогу при данном жесте регулировщика?

1. Пешеход № 1.
2. Пешеход № 2.
3. Оба пешехода.



5

Что означает сочетание красного и желтого сигналов светофора?

1. Можно начинать переход.
2. Скоро будет включен зеленый сигнал.



6

Каким правилам подчиняется велосипедист, если он ведет велосипед рядом с собой?

1. Правилам для водителей.
2. Правилам для пешеходов.



7

Где должен двигаться пешеход вне населенного пункта, если нет тротуара?

1. По правому краю проезжей части.
2. По левому краю проезжей части.
3. Навстречу движению транспортных средств.
4. Не имеет значения.



8

Как безопаснее обходить стоящий трамвай?

1. Спереди.
2. Сзади.
3. Перейти на тротуар, дойти до перехода или перекрестка и только там перейти улицу.



1.



2.


Какой из этих знаков обозначает место, где можно переходить дорогу?

1. № 1.

2. № 2.

3. Оба знака.


9



Правильно ли двигаются пешеходы, ведущие велосипеды?

1. Правильно.
2. Неправильно.

10



11

При данном жесте регулировщика и сигнале светофора пешеход должен:

1. Продолжить движение, так как жест регулировщика предназначен для автомобилей.
2. Остановиться.



1



3



2

12


Какой из данных знаков обозначает пешеходную дорожку?

1. № 1.
2. № 2 и № 3.
3. Все знаки.
4. № 2.



Какой из этих светофоров является пешеходным?

1. № 1 и № 2.
2. № 2 и № 3.
3. № 2.
4. Все.



В каких направлениях разрешает движение пешеходов данный жест регулировщика?

1. В зоне А.
2. В зоне В.
3. Во всех направлениях.

15



**Что означает мигание
желтого сигнала свето-
фора?**

1. Скоро будет включен зе-
леный.
2. Движение запрещено.
3. Перекресток является не-
регулируемым.



16

Как безопаснее обходить автобус?

1. Спереди.
2. Сзади.
3. Подождать, пока автобус отъедет от остановки, и перейти проезжую часть в соответствии с Правилами.



Кто в данной ситуации имеет преимущество при движении?

1. Автомобиль.
2. Пешеходы.
3. Автомобиль и автобус.



Разрешает ли этот жест регулировщика переходить дорогу?

1. Разрешает.
2. Запрещает.

18



Безопасно ли в данной ситуации переходить проезжую часть?

1. Да .
2. Нет.



Какому сигналу светофора соответствует этот жест регулировщика?

1. Красному.
2. Желтому.
3. Зеленому.



21

Разрешается ли переходить дорогу по проезжей части, если имеется подземный пешеходный переход?

1. Разрешается.
2. Не разрешается.
3. На усмотрение пешехода.

Опасно ли ходить по краю тротуара?

1. Неопасно, так как тротуар предназначен для пешеходов.
2. Неопасно, так как транспорт не должен ехать близко к тротуару.
3. Опасно, так как существует опасность быть задетым близко идущим транспортом.

23




Разрешено ли пешеходам двигаться по автомагистрали?

1. Разрешено.
2. Запрещено.

24

?



?

Сигналами какого светофора руководствуются пешеходы при переходе дороги?

1. Сигналами пешеходного светофора.
2. Сигналами транспортного светофора.



25

Можно ли переходить дорогу вне пешеходного перехода, если она просматривается только в одном направлении?

1. Можно.
2. Нельзя.



Можно ли самому установить знак «пешеходный переход» у своего дома?

1. Можно.
2. Нельзя.

Внимание! Правильный ответ:

- 1-3
- 2-3
- 3-1,2,3
- 4-1
- 5-2
- 6-2
- 7-3
- 8-3
- 9-2
- 10-2
- 11-2
- 12-4
- 13-3
- 14-1
- 15-3
- 16-3
- 17-2
- 18-2
- 19-2
- 20-2
- 21-2
- 22-3
- 23-2
- 24-1
- 25-2
- 26-2