

Мозговая

гимнастика



«Письмо

носом»

«Ленивые

восьмерки»

«Стрельба




глазами»

«Шапка для

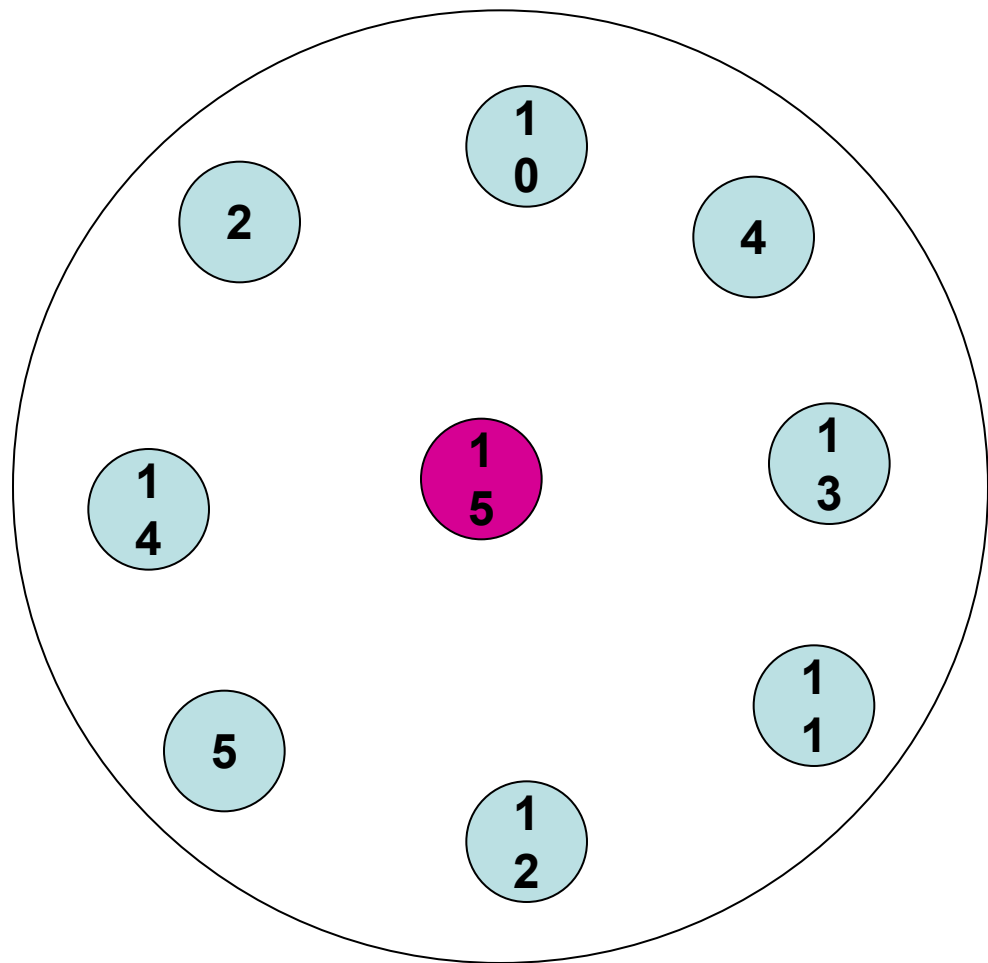
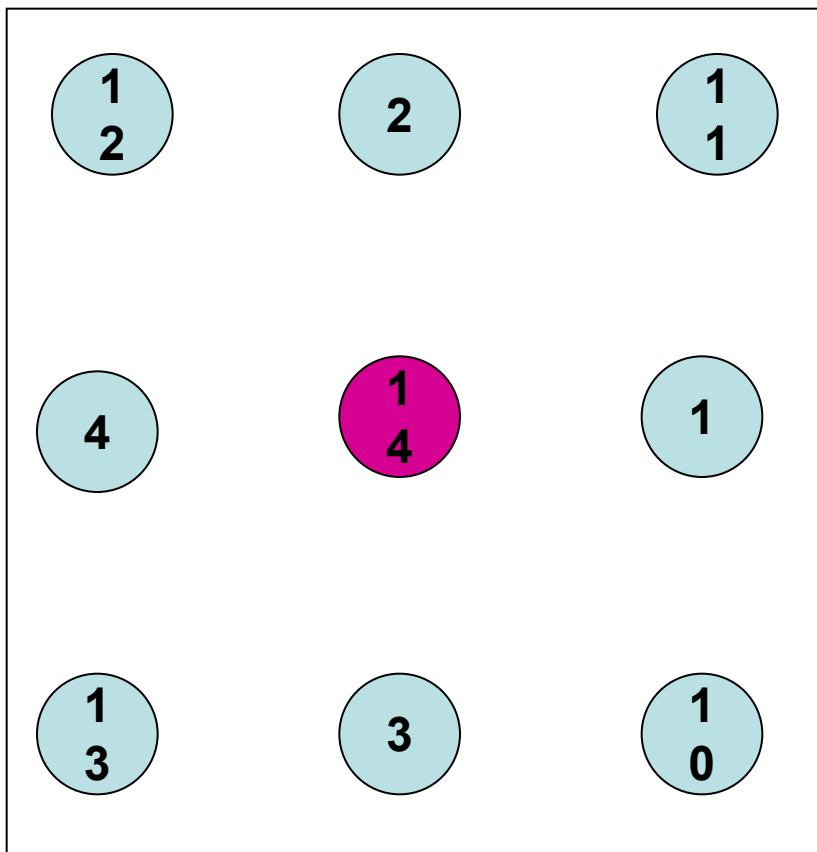
размышлений»







Разминка



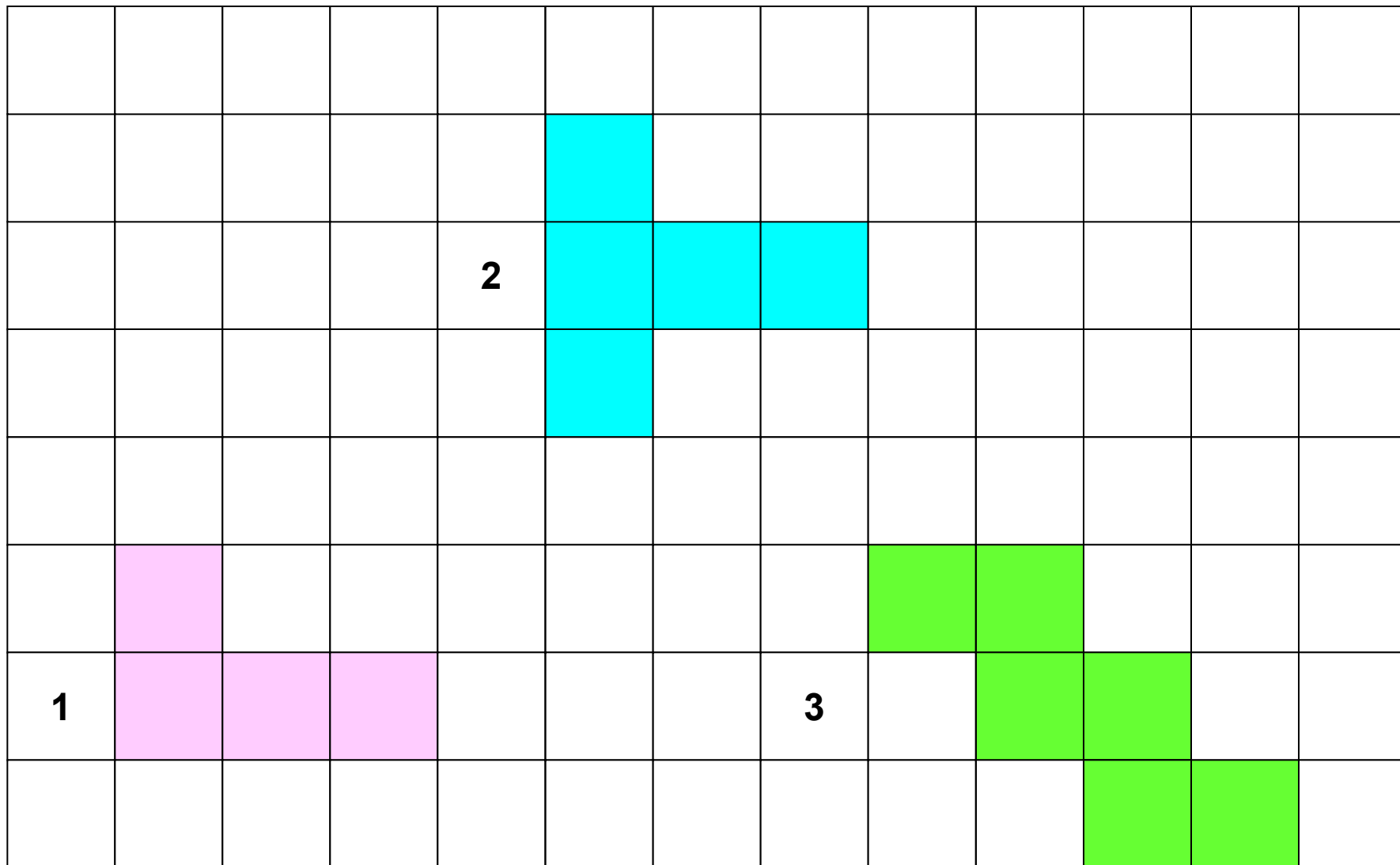
Составь сумму разными способами



Восстанови числа в цепочке



Получи квадрат



Добро пожаловать в Цветочный город!





*Здравствуйте,
ребята!*



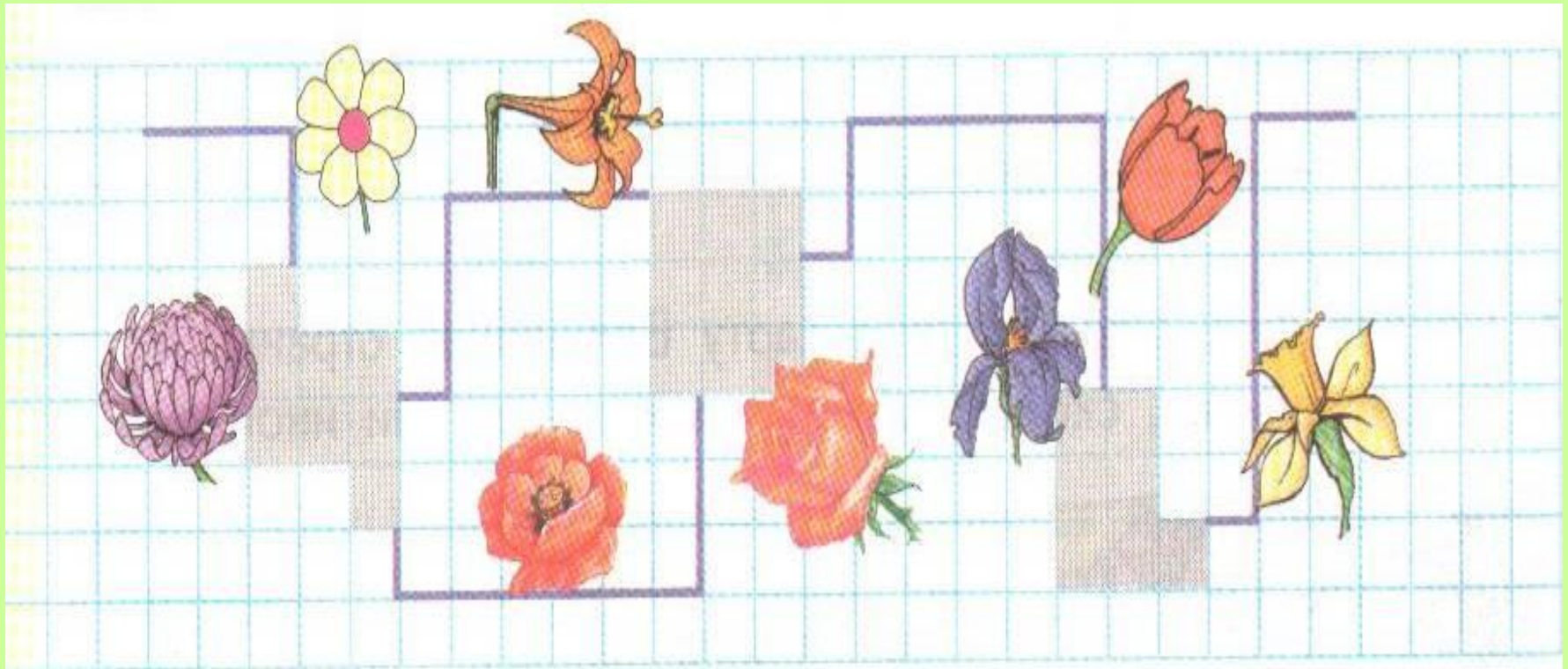


Помогите, пожалуйста,
разрешить спор моих
друзей:

Какая улица в Зеленом городе
самая длинная, а какая площадь
самая большая?



Вот такая карта нашего города
нарисована в ваших учебниках.





10

5

8

12

9



10

5

8

12

9



10

5

8

12

9



10

6

8

12

9




10

11

7

12

9





*Что такое –
ничего я не пойму?!*

**И тут «площадь»,
и там «площадь»**

Объясните что к чему!



В городе была красивейшая
площадь с фонтанами.

Поля с капустой занимают
большую площадь, чем поля со
свеклой.







На четырех участках мы посадили овощи. И не можем понять, что занимает большую площадь: репа или свекла? капуста или морковь?

Можно ли сравнить площади полей под капустой и репой?






ИЛИ




ИЛИ



ИЛИ





Веселая

перемешка

Упражнения

я



**Левой рукой дотроньтесь до
правого уха, а потом правой
рукой – до кончика носа**

**Правой рукой дотроньтесь до
левого уха, а потом левой рукой –
до кончика носа**






Планета
знаний

М.И. Башмаков, М.Г. Нефедова

Математика

1

класс



Часть 2

Издательство «Астрель»



5. Площадь каждого садового участка занимает на плане 16 клеток. Расширили или уменьшили участок его хозяева? На сколько?



$$16 \xrightarrow{?} 13$$

$$16 \xrightarrow{?} 18$$

$$16 \xrightarrow{?} 19$$



$$16 \xrightarrow{?} 11$$

$$16 \xrightarrow{?} 12$$

$$16 \xrightarrow{?} 14$$

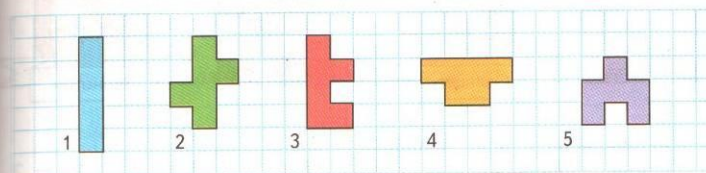
6. а) Начерти в тетради квадрат со стороной 4 клетки.
 б) Начерти прямоугольник со сторонами 3 и 5 клеток.
 в) Какая фигура занимает большую площадь?
 г) Сравни периметры этих фигур.


7. Какую единицу измерения площади удобно выбрать для каждой фигуры?




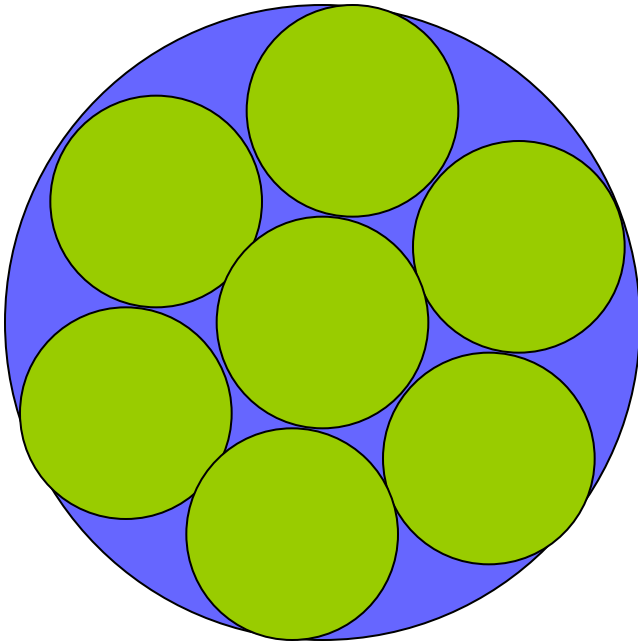
- Определи площади фигур в выбранных единицах измерения.
- Верно ли, что площади этих фигур одинаковы?

8. Сколько клеток в каждой фигуре? Найди «лишнюю» фигуру.





?





Прозвенел звонок

и закончился

урок



«Ленивые восьмерки»

Нарисуйте в воздухе в горизонтальной плоскости «восьмерки» по три раза каждой рукой, а затем обеими руками

[К списку упражнений](#)

«Письмо носом»

Закрывать глаза. Используя
нос как длинную ручку
написать или нарисовать
что-нибудь в воздухе

[К списку упражнений](#)

«Стрельба глазами»

Двигать глазами из стороны
в сторону, смотря как
можно дальше влево,
затем вправо, затем вверх
и вниз.

[К списку упражнений](#)

«Шапка размышлений»

«Надеть шапку», то есть
мягко заверните уши от
верхней точки до мочки
три раза

[К списку упражнений](#)