

Тема: Население и страны Африки






Цели:

- **узнать о расовом, национальном составе населения Африки, особенностях его размещения;**
- **рассмотреть политическую карту Африки;**
- **отрабатывать навыки работы с разными источниками знаний, с картой;**

С помощью текста учебника стр.117-118, заполнить таблицу:

Население Африки

<i>Африка</i>	<i>Северная</i>	<i>Центральная</i>	<i>Южная</i>
<i>Расы</i>			
<i>Расовые признаки</i>			
<i>Народы</i>	 <p>арабы</p>	 <p>народы Центральной Африки</p>	 <p>народы Южной Африки</p>

Население Африки

<i>Африка</i>	<i>Северная</i>	<i>Центральная</i>	<i>Южная</i>
Расы	европеоидная	негроидная	монголоидная
Расовые признаки	Смуглая кожа, темная окраска волос и глаз, удлинённый череп, узкий нос и овальное лицо.	Значительные различия в цвете кожи, росте, в чертах лица, в форме головы.	Желтовато-коричневый цвет кожи, широкое плоское лицо. Низкорослы и тонкокостны.
Народы	Арабские (алжирцы, египтяне, берберы, туареги)	Нилоты, тутси, хими, пигмеи	Бушмены и готтентоты
	 <p>арабы</p>	 <p>народы Центральной Африки</p>	 <p>народы Южной Африки</p>



**Туареги -
народ группы
берберов в
Мали, Нигере,
Буркина Фасо**

**Туареги -
народ группы
берберов в
Мали, Нигере,
Буркина Фасо,
Марокко**

**Туареги -
народ группы
берберов в
Мали, Нигере**



Пигмэи (греч. (греч. Πυγμαῖοι — «люди величиной с кулак») — группа низкорослых негроидных (греч. Πυγμαῖοι — «люди величиной с кулак») — группа низкорослых негроидных народов, обитающих в лесах тропической Африки. Народы зоны экваториальных лесов – пигмеи, малорослы (ниже 150 см) – это самый малочисленный народ Африки, численность которой неуклонно падает.





**Нилоты – Нилоты –
группа
родственных
народов в
Восточной Африке,
населяющих
территории
бассейна верхнего и
среднего НИЛА
(Уганда, Кения,
Танзания)**



тутси или «вагутси», «багутси» — народ в центральной Африке (Руанда — народ в центральной Африке (Руанда, Бурунди — народ в центральной Африке (Руанда, Бурунди, Демократическая Республика Конго), численностью около 2 млн. Самые высокие народы - тутси, масаи, нилоты — имеют средний рост 180-200 см.



Бушмены (англ. bushman, от голл. bosjeman, boschiman — «лесной человек»), народ, живущий в пустынных областях Намибии и прилегающих районах ЮАР, Ботсваны, Анголы, а также в Танзании. Численность около 75 тыс. человек .

«африканцы») — народ, дословно «африканцы») — народ в Южной Африке, являются потомками колонистов голландского, дословно «африканцы») — народ в Южной Африке, являются потомками колонистов голландского, немецкого, дословно «африканцы») — народ в Южной Африке, являются





Посмотрите внимательно на картинку и ответьте на вопросы:

- *Какие из данных жилищ могут быть жилищами кочевников, почему?*
- *Как вы думаете, почему у жителей острова Мадагаскар такие жилища?*

Используя карту (рис.49), назовите:

- **Государства Северной Африки**
- **Государства Центральной Африки**
- **Государства Восточной Африки**
- **Государства Южной Африки**
- **Страны, не имеющие выхода к океану**

Закрепление материала. Народы, населяющие материк:

- А) туареги
- Б) пигмеи
- В) эфиопы
- Г) тутси, хими
- Д) африканеры
- Е) малагасийцы

Вопросы:

- *Самый низкорослый народ на Земле, обитающий в экваториальных лесах.*
- *Народ, населяющий пустыню Сахару, ведущий кочевой образ жизни.*
- *Народ, проживающий на острове Мадагаскар.*
- *Стройные высокорослые народы саванны восточной части материка.*
- *Представители южной ветви европеоидной расы, населяющие север Африки.*
- *Потомки европейских переселенцев из Нидерландов, населяющие юг Африки.*

ОТВЕТЫ

1 – Б

2 – А

3 – Е

4 – Г

5 – В

6 – Д

**Домашнее задание: параграф
20, вопрос 1-2 стр.117-121
Составить описание населения
Мадагаскара по плану на стр. 375**

