

**Знаете ли вы страну Кемет?  
Найдите её на карте.**



[http:// www.kemet.ru](http://www.kemet.ru)

- Что вы знаете о Египте? Что хотите узнать? Заполните первые две колонки таблицы.

Знаю	Хочу узнать	Узнал(а)




- Что могли египтяне назвать «красной землёй»?
- Почему египтяне, попав в Междуречье, называли Тигр и Евфрат «перевёрнутыми реками»?
- Почему у египтян не было бога моря?
- Какой цветок напоминает вам территория Древнего Египта?


# Соотнесите имена богов Древнего Египта с их символами

Боги	Символы
1. Анубис (бог мертвых и бальзамирования)	1. Павиан
2. Мин (бог плодородия)	2. Корова
3. Себек (бог воды)	3. Бык
4. Сет (бог пустыни, бурь и непогоды)	4. Львица
5. Сехмет (богиня бедствий и болезней)	5. Шакал
6. Тот (бог мудрости)	6. Крокодил
7. Хатхор (богиня любви, красоты и радости)	7. Осел, свинья, гиппопотам





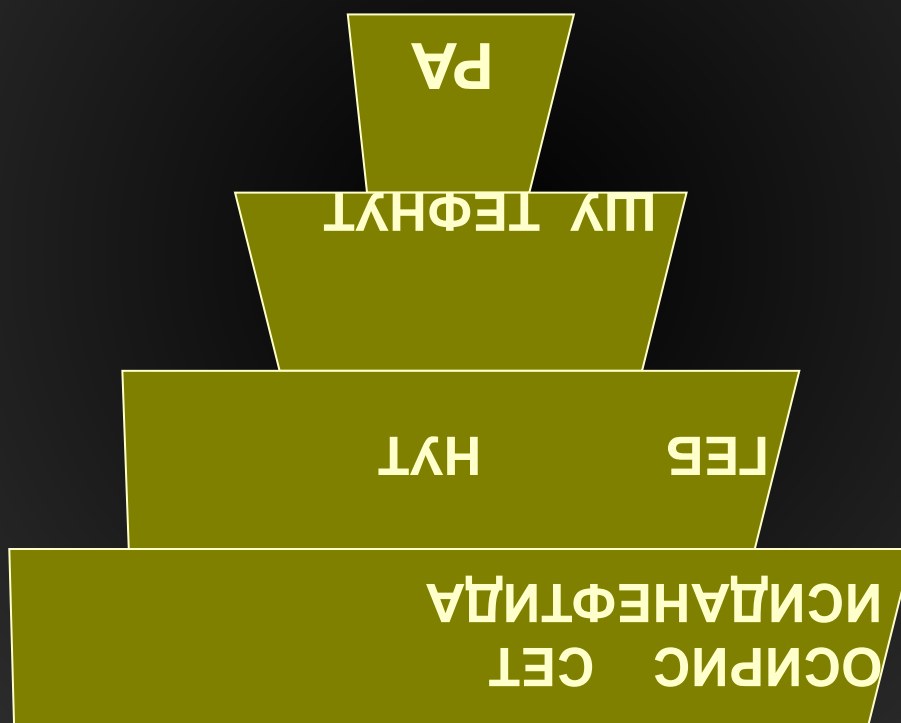
а) Кошка – священное животное богини Бастет; б) Удод. Роспись гробницы в Бени-Хасане; в) Ибис – священное животное Тота; г) Шакал – священное животное Анубиса



а) Сохмет – богиня материнства и разрушительной силы солнца; б) Анубис – Бог мертвых и бальзамирования; в) Тот – бог мудрости; г) Себек – бог воды.

# «Гелиопольская девятка» (эннеада)

---



# Мифы Древнего Египта

---

1. Мифы о сотворении мира.
  2. Мифы о солнечных божествах (солярные мифы).
  3. Мифы об Осирисе.
    - Индивидуальное домашнее задание: пересказать миф об Осирисе и Горе.
    - Творческое задание для класса: передать полученную информацию с помощью пиктограммы.
-






**Рисунок из «Книги мёртвых»  
Суд Осириса**

## Рисунок из «Книги мёртвых»

Исида и Нефтида перед символом Осириса столбом «джед»; над ним эмблема вечной жизни «анх», поддерживающее восходящее солнце.



# Рисунок из «Книги мёртвых»


Исида и  
Нефтида у  
трона Осириса,  
перед Осирисом  
лотос с  
четырьмя  
сыновьями  
Гора.





- Царский "Ка" Тутанхамона, высотой около 1,73 м: "Двойник" (душа) фараона, который в момент смерти отделяется от тела для следования в другой мир.






СГМСОК

Великие пирамиды Гизы







СГМСОК

Великие пирамиды Гизы





СТРАНА

Пирамиды Хефрена и Микерина





СГВМСОН

Пирамида Хефрена







СГМСОК

Пирамида Хеопса





Пирамида Хеопса



СГМСОК





**Задание группам.** Сравните египетскую пирамиду и месопотамский зиккурат. В чем между ними прослеживается сходство и различие? Заполните таблицу.

	Пирамида	Зиккурат
Назначение		
Декоративное оформление		
Местоположение		



## Задания

1. Прочитайте описание храма Амона-Ра в Карнаке.
2. Прочитав определение, найдите термин в тексте и запишите его в тетрадь.
  - А) Небольшая плита между растительной капителью и тяжелым перекрытием.
  - Б) Верхняя, завершающая часть колонны.
  - В) Сооружение в виде суживающегося кверху граненого столба с пирамидально заостренной верхушкой. В Древнем Египте атрибуты соляного культа.
3. Как архитектура наземного храма воспроизводит легенду о Ра?

# Тест

---

- 1. Назовите имя фараона, построившего самую высокую пирамиду в Гизе – 146,6м:
    - а) Хефрен; б) Хеопс; в) Тутанхамон; г) Эхнатон.
  - 2. Как назывались мощные трапециевидные башни с высокими узкими проходами на территорию древнеегипетского храма:
    - а) обелиски; б) колонны; в) пилоны; г) капители.
  - 3. в Древнем Египте были созданы скульптурные изображения:
    - а) Венера Милосская; б) голова Тутанхамона; в) большой сфинкс из Гизы; г) голова Нефертити.
  - 4. Определите истоки реалистического скульптурного портрета в Древнем Египте: а) желание передать потомкам реальное изображение портретируемых; б) стремление скульптора продемонстрировать свое мастерство и умение точно передать черты портретируемого; в) религиозные воззрения, связанные с верой в загробную жизнь и наличием у человека его двойника.
-

Заполните последнюю колонку таблицы

Знаю	Хочу узнать	Узнал(а)

# Творческое домашнее задание

---

*Проект «Египетские  
мотивы в отечественной  
архитектуре».*

- *[http:// www.kemet.ru](http://www.kemet.ru).*
-