


# Площадь прямоугольника

**S**



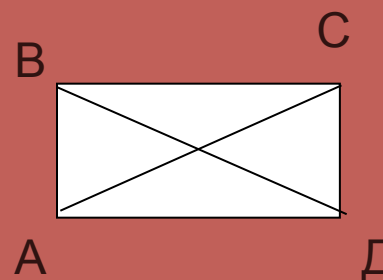
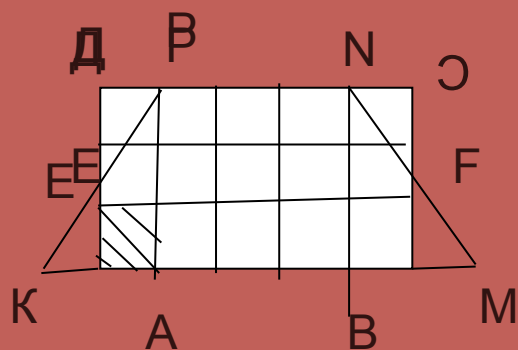
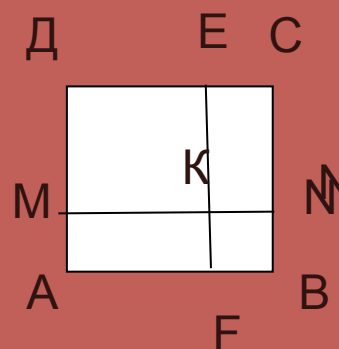
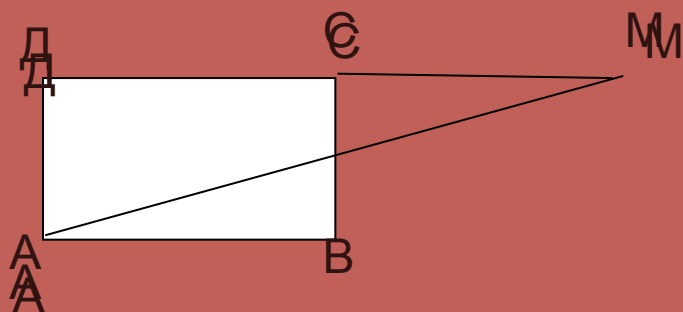
# План:

- Название работы
- План
- Рисунки к устным упражнениям
- Площадь прямоугольника
- Вывод



# Рисунки к устным упражнениям

- Рисунки 1, 2, 3, 4.



# Площадь прямоугольника

- Площадь прямоугольника равна произведению его сторон.

$$S = ab$$



# Вывод:

- Из двух прямоугольных треугольников можно составить равнобедренный треугольник; прямоугольник; параллелограмм, не являющийся прямоугольником.
- Выполните.

