

# ***Итоговый урок.***

***Презентацию  
подготовила  
учитель географии  
МОУ «СОШ №34»  
города Златоуста  
Сазонова Г.И.***

# Федеральные округа России.



*Определите федеральные округа по карте.*





# Определите экономические районы РФ.

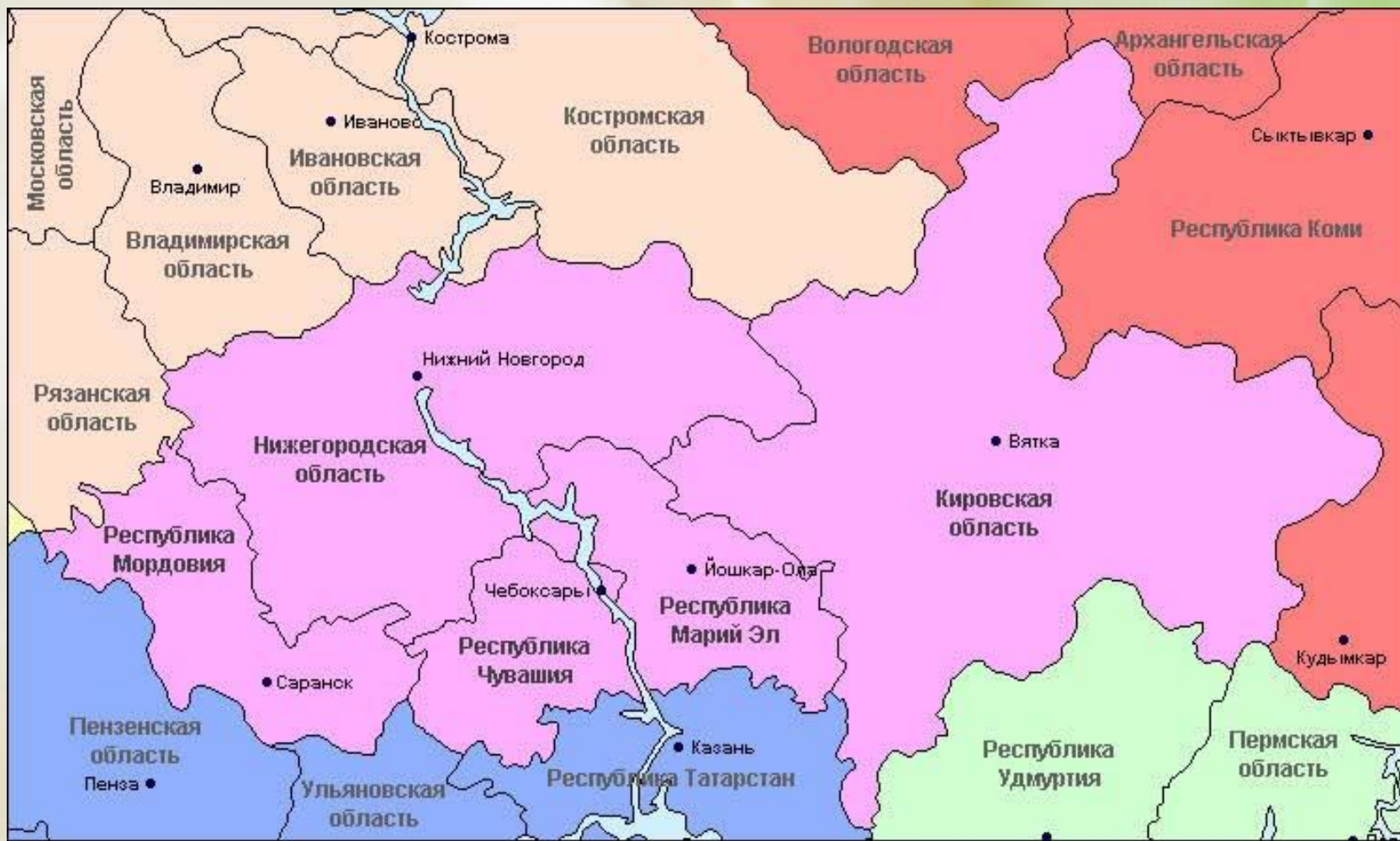


# Определите экономический район по карте.





# Определите экономический район по карте.



# Определите экономический район по карте .





# Соотнесите субъект и экономический район.

А) Центральный

Б) Волго – Вятский

В) Центрально – Чернозёмный



1



2



3



# Определите субъект по карте.

А) Удмуртская республика

Б) Республика Хакасия

В) Республика Тыва



1



2



3

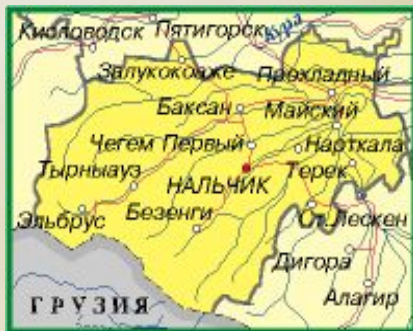
# Определите субъект РФ и совместите его с экономическим районом.



1) Северо – Кавказский район



2) Восточно – Сибирский район



3) Поволжский район

А)	Б)	В)
... район	... район	... район

А)

Б)

В)



***Расположите города от  
самого северного к южному:***

- а) Оренбург***
- б) Мурманск***
- в) Москва***
- г) Вологда***

# **Установите соотвествие между субъектами и столицами:**

- 1) Республика Мордовия**
- 2) Республика Марий – Эл**
- 3) Республика Чувашия**
- 4) Республика Алтай**
- 5) Республика Карелия**

- А) Чебоксары**
- Б) Петрозаводск**
- В) Горно - Алтайск**
- Г) Саранск**
- Г) Йошкар - Ола**



***Из перечисленных городов  
назовите города - миллионеры:***

***Элиста***

***Челябинск***

***Владимир***

***Самара***

***Ярославль***

***Казань***

***Волгоград***

***Новосибирск***

***Уфа***

# ***Что объединяет эти географические объекты:***


- а) Усть - Балыкское***
- б) Бованенковское***
- в) Уренгойское***



# ***Что объединяет эти географические объекты:***

- а) Кислогубская***
- б) Сургутская***
- в) Рефтинская***

# Определите крупные районы по выращиванию



1. Пшеницы и чяя



2. Сои



3. Фруктов



4. Овец



5. Оленей

\* Республика Саха

\* Краснодарский край


\* Республика Бурятия

\* Приморский край

\* Республика Дагестан



# Определите крупные центры по производству



1. Коломна 2. Тольятти 3. Рязань 4. Ярославль 5. Самара



# Определите по описанию экономический район.

*Машиностроение — основная отрасль промышленности района. В свое время здесь получили развитие автомобилестроение, станкостроение, приборостроение, электротехника, электроника, авиастроение. Черная металлургия представлена предприятием полного цикла в Туле. Один из крупных речных портов может принимать грузы, идущие через систему каналов из 5 морей.*

## Определите по описанию экономический район.

*Район хорошо обеспечен водными ресурсами, но беден полезными ископаемыми. Можно выделить только ресурсы фосфоритов, а также залежи торфа на севере.*

*Выделяются три ведущие отрасли: транспортное машиностроение (судостроение и автостроение), электротехника и приборостроение.*

## Определите по описанию экономический район.

*В районе находится крупнейший  
железорудный бассейн в стране.*

*В районе возделывают сахарную свеклу  
(1-е место в стране), подсолнечник (3-е  
место), зерновые, картофель, овощи,  
плодовые и ягодные культуры.*





## О каком крупном городе идёт речь:

*Это один из древнейших городов Центральной России, крупный железнодорожный узел, центр машиностроения и химической промышленности. Известен крупным танковым сражением Второй Мировой войны.*



## О каком крупном городе идёт речь:

Один из крупных центров машиностроения, в том числе оборонного. Город известен автомобильной промышленностью, заводами по производству самолётов, дизелей, телевизоров. Главная судостроительная база – завод «Красное Сормово».