



Час Океана

Океан X.

Он омывает берега материков А, Б, В, Г, Д. На материке А находится город Стамбул. Значительные пространства материка Б занимают саванны.

Материк В не имеет постоянных жителей. Высшей точкой материка Г является гора Аконкагуа. На материке Д проходила последняя зимняя олимпиада. Назовите материки А, Б, В, Г, Д и океан X.

Атлантический океан

Атлантический океан



Задачи:
Изучить особенности природы и
хозяйственного использования
океана



□ 91 600 000 км² - площадь Атлантического океана

□ 18 % - площади всей поверхности Земли

□ 3800 м – средняя глубина Атлантического океана

□ 8742 м - максимальная глубина океана (желоб Пуэрто-Рика)

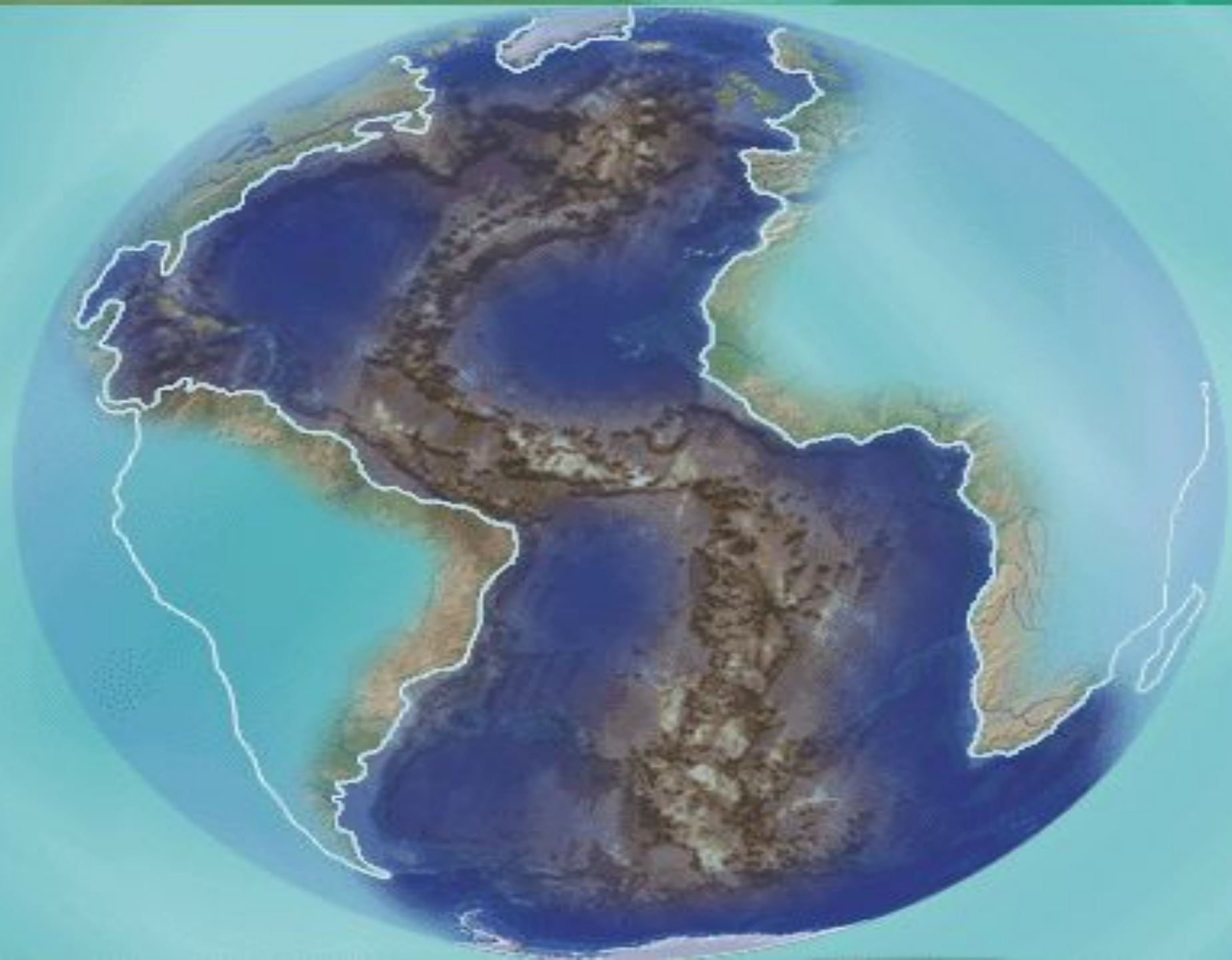
□ 35,4 ‰ - средняя солёность вод океана

□ 16,5 °С - средняя температура поверхностных вод

□ 330 000 000 км³ - общий объём воды в океане

Океаны

Название	Площадь, млн. км ²	Средняя глубина, м	Наибольшая Глубина, м	Средняя солёность, ‰	Средняя t' воды, °С	Общий объём воды, млн. км ³
Тихий	178,7	3980	10920	34,6	19	710
Атлантический	91,6	3800	8742	35,4	16,5	330
Индийский	76,2	3711	7729	34,7	17	323
Северный Ледовитый	14,75	1220	5527	31,4	- 0,7	18



1 а) Северное – Карибское – Уэдделла – Саргассово
б) Средиземное – Балтийское – Чёрное

2 Мексиканский – Гвинейский – Фанди – Бискайский

3 Дрейка – Девисов – Датский

4 а) Ньюфаундленд – Великобритания – Гаити – Зелёного мыса
б) Исландия – Азорские – Вознесения – Тристан-да-Кунья

5 Средиземное море – Мексиканский залив – Саргассово море –
Карибское море

6 а) Северное Пассатное – Гольфстрим – Северо-Атлантическое –
Канарское
б) Южное Пассатное – Бразильское – Западных ветров -
Бенгальское

7 Бразилия – США – Великобритания – ЮАР

8 Роттердам – Нью-Йорк – Марсель – Кейптаун

9 Мексиканский залив – Северное море – лагуна Маракайбо –
Гвинейский залив

10 Ластоногие – рыбы – водоросли – моллюски – ракообразные

11 Багамы – Ямайка – Канары – Гаити



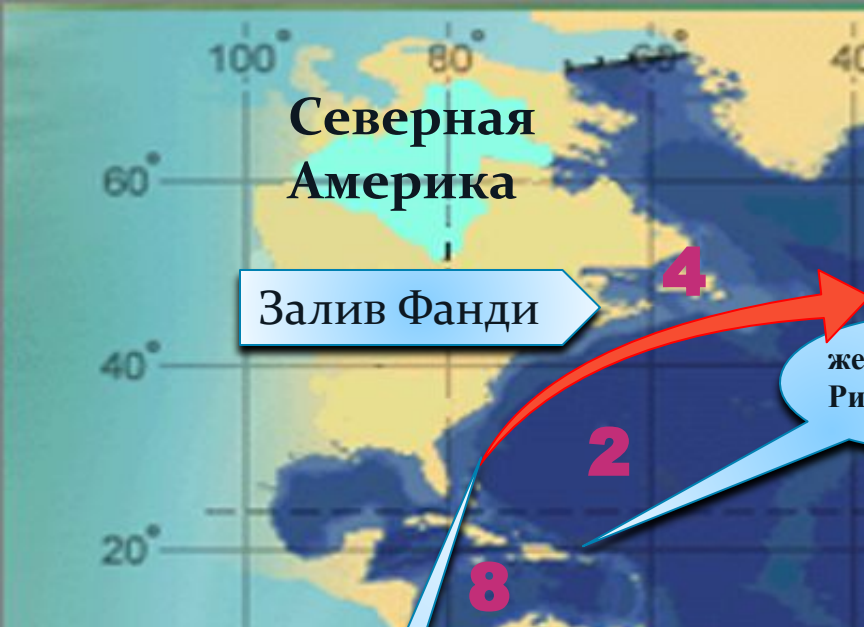
Таблица вопросов и ответов

18 000 км	нефть, фосфориты, алмазы	Приливная электростанция	треска, сельдь, сардины, тунец	остров Исландия
<i>Северное море, Мексикански й залив</i>	<i>рифт</i>	<i>С, Ю, З и В полушария</i>	<i>Северо - Атлантичес кое течение</i>	<i>пассаты, западные ветра</i>
Вытянутост ь с севера на юг	нефтяные загрязнения	36 -37 ‰	морское судоходство	пролив Дрейка

Самостоятельная работа на контурной карте

- I. Подпишите названия 5 материков, берега которых омываются водами Атлантического океана
- II. Отметьте цифрами на карте следующие части Атлантического океана:
 1. Северное море; 2. Саргассово море; 3. Пролив Дрейка; 4. о. Ньюфаундленд;
 5. о. Исландия; 6. Гвинейский залив; 7. Средиземное море; 8. Карибское море; 9. Бискайский залив
- III. Подпишите географические объекты, имеющие следующие цифровые выражения:

18 м; 18 000 км; 8742 м; +28°C
- IV. Нанесите на карту: а) район формирования циклонов; б) основные районы морской добычи нефти и газа; в) главные районы улова
- V. Пользуясь картой течений, проложите в Атлантическом океане маршрут круиза из Лиссабона так, чтобы туристы смогли последовательно увидеть следующие объекты: берега острова Ньюфаундленд, Канарские острова, Нефтяные вышки Мексиканского залива и Северного моря, добычу фосфоритов у берегов Северной Африки, устье реки Амазонки, Багамские острова.



100°

80°

60°

40°

Н

0°

20°

60°

40°

20°

0°

20°

40°

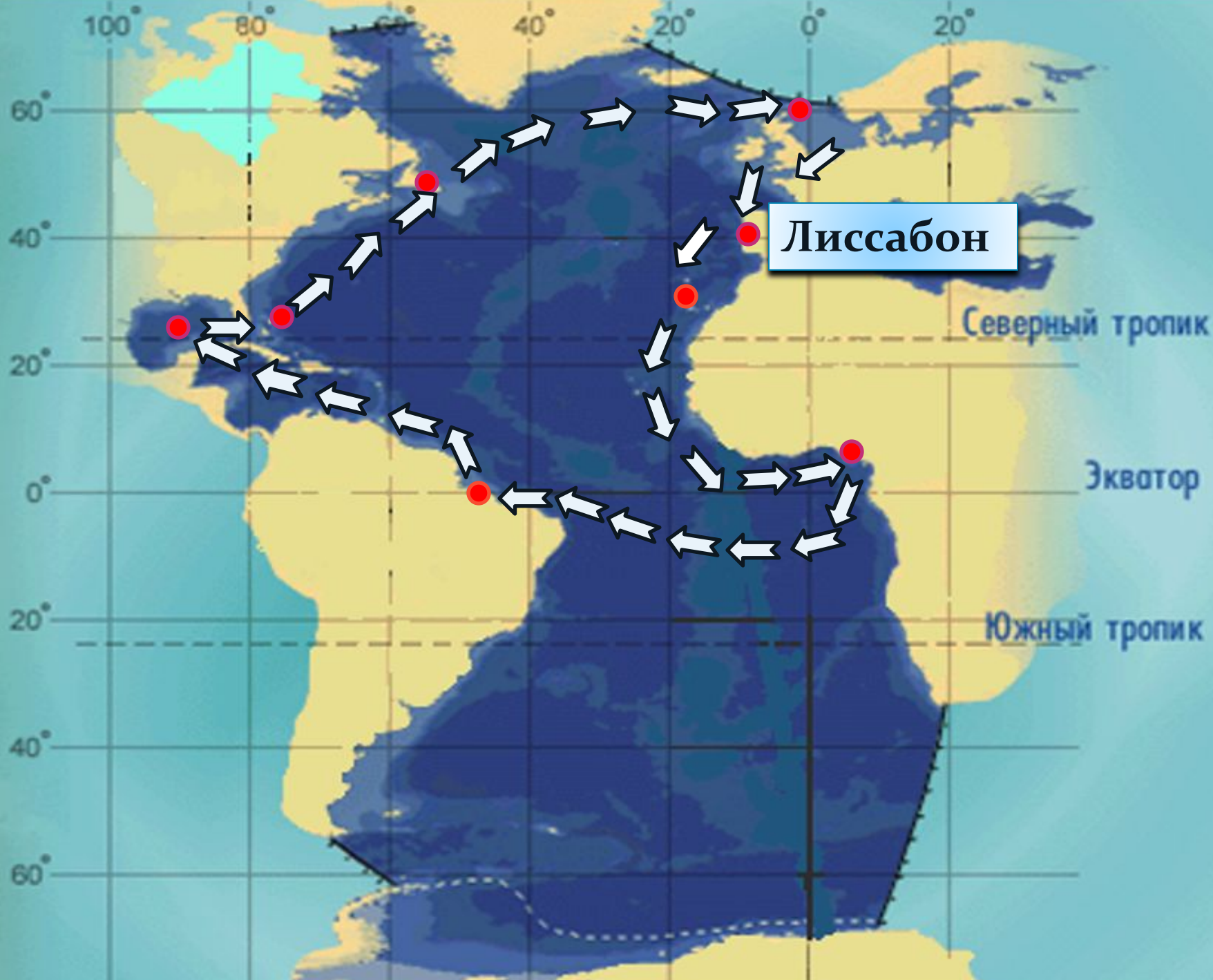
60°



ЛИК

ор

ЛИК



Домашнее задание

§ 24, задания на контурной карте стр.

12

* Подобрать материалы из периодической печати о проблемах связанных с использованием и загрязнением Атлантического океана

* Подобрать фото или видео по теме «Океаны»

Синквей

Н




Первая строка включает в себе одно слово (существительное).

Вторая строка – два прилагательных.

Третья строка – три глагола.

Четвёртая – фраза из четырёх слов, выражающая личное отношение к описываемому предмету.

Пятая – одно слово, характеризующее суть предмета или объекта.



СПАСИБО ЗА ВНИМАНИЕ.

ПОДГОТОВИЛА
УЧИТЕЛЬ ГЕОГРАФИИ: ЗИНЬКОВИЧ И.В.