

Вопрос 1: В каких странах процент лесопокрытой площади составляет более 70% территории?

Варианты ответа: а) Канада; б) Конго; в) Палау; г) Швеция; д) Белиз



Вопрос 2: По площади биосферных резерватов второе место в мире занимает:

Варианты ответа: а) Германия; б) Дания; в) Россия; г) США; д) Нигер



Вопрос 3: Какая страна занимает первое место в мире по количеству видов рептилий?

Варианты ответа: а) США; б) Конго; в) Австралия, г) Россия; д) Бразилия



NATIONAL
GEOGRAPHIC
Photograph by Dennis Stewart

2019 NATIONAL GEOGRAPHIC
COPYRIGHT DENNIS STEWART. ALL RIGHTS RESERVED.

Вопрос 4: Самая древняя шахта в Новом Свете обнаружена в 1100 км к северу от, ее возраст оценивается в 12 тыс. лет. Что на ней добывали? К северу от какого города ее обнаружили? Столицей какой страны является город?

Варианты ответа: а) Уголь; б) Медь; в) Селитру; г) Железо; д) Серу



Вопрос 5: По карте определите название рек в бассейне реки Конго.
Реки: Кванго, Монгала или Эбола, Касаи



Вопрос 6: В какой стране находится самая глубокая угольная шахта?
Варианты ответа: а) Россия; б) США; в) Германия; г) Украина; д) Польша; е) Китай.



Вопрос 7: Определите города по фотографиям и достопримечательность этих городов

Города: Вальпараисо, Мумбай, Шанхай, Сидней, Роттердам

Достопримечательности: Фонтан Флора, Сад Радости, Городской фуникулер, Музейный парк, Оперный театр



Вопрос 8: Этот остров, открытый ровно за 100 лет до открытия Австралии, иногда называют «Полюсом недоступности экваториального пояса». Как он называется?

Варианты ответа: а) Баунти; б) Шри-Ланка (Цейлон); в) Калимантан; г) Тимор; д) Сумбава; е) Науру.



Вопрос 9: Какая страна выбрасывает больше всего фреонов?

Варианты ответа: а) США; б) Россия; в) Германия; г) Китай; д) Польша; е) Франция



**Вопрос 10: По фотографиям рынков определите страны.
Страны: Перу, Япония, Нигерия, Монголия, Таиланд**



Вопрос 11: Между какими странами проложен этот путь? Напишите только страны

..... - Мадрид - Париж - Люксембург - Берлин -

Вопрос 12: Какой процесс мог привести к образованию этого озера?
Варианты ответа: а) Деятельность текучих вод; б) Деятельность ледника; в) Антропогенное вмешательство; г) Карстовые процессы



Вопрос 13: Пролив соединяет эти моря. Одно из них окраинное, а второе - внутреннее. Средняя глубина первого в 2-3 раза больше, а площадь в 15,5 раз больше. Первое севернее, но юго - западные берега не замерзают, а второе южнее, но большую часть года (7 месяцев) покрыто льдами. Назовите эти моря.



Вопрос 14: По флагам определите государства. Напишите их столицы.
Государства: Афганистан, Босния и Герцеговина, Камерун, Сан-Марино, Белиз



Вопрос 15: Какое направление имеет ветер Эвр?

Вопрос 16: Какое направление имеет ветер Памперо?



Вопрос 17: Какое дерево является официальным символом России?
Варианты ответа: а) Береза; б) Дуб; в) Ель; г) Сосна; д) Лиственница; е) Клен; ж) Граб



Вопрос 18: Самый молодой океан Земли, это

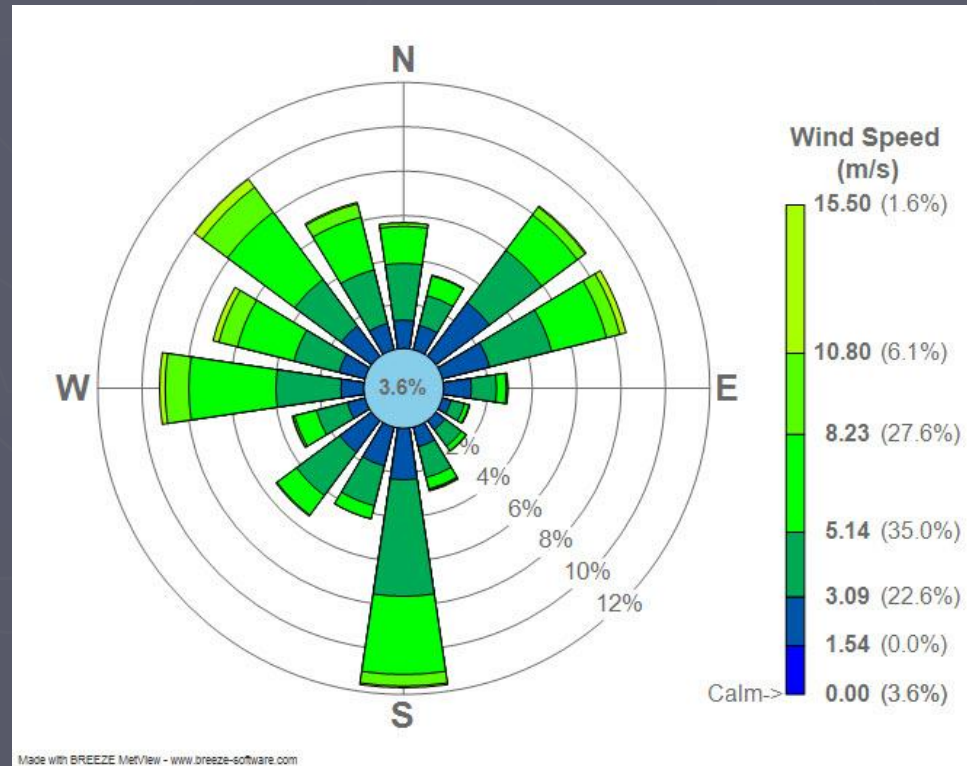


Вопрос 19: Какие реки или река относятся к транзитным?

Варианты ответа: а) Амазонка; б) Конго; в) Янзцы; г) Нил; д) Муррей



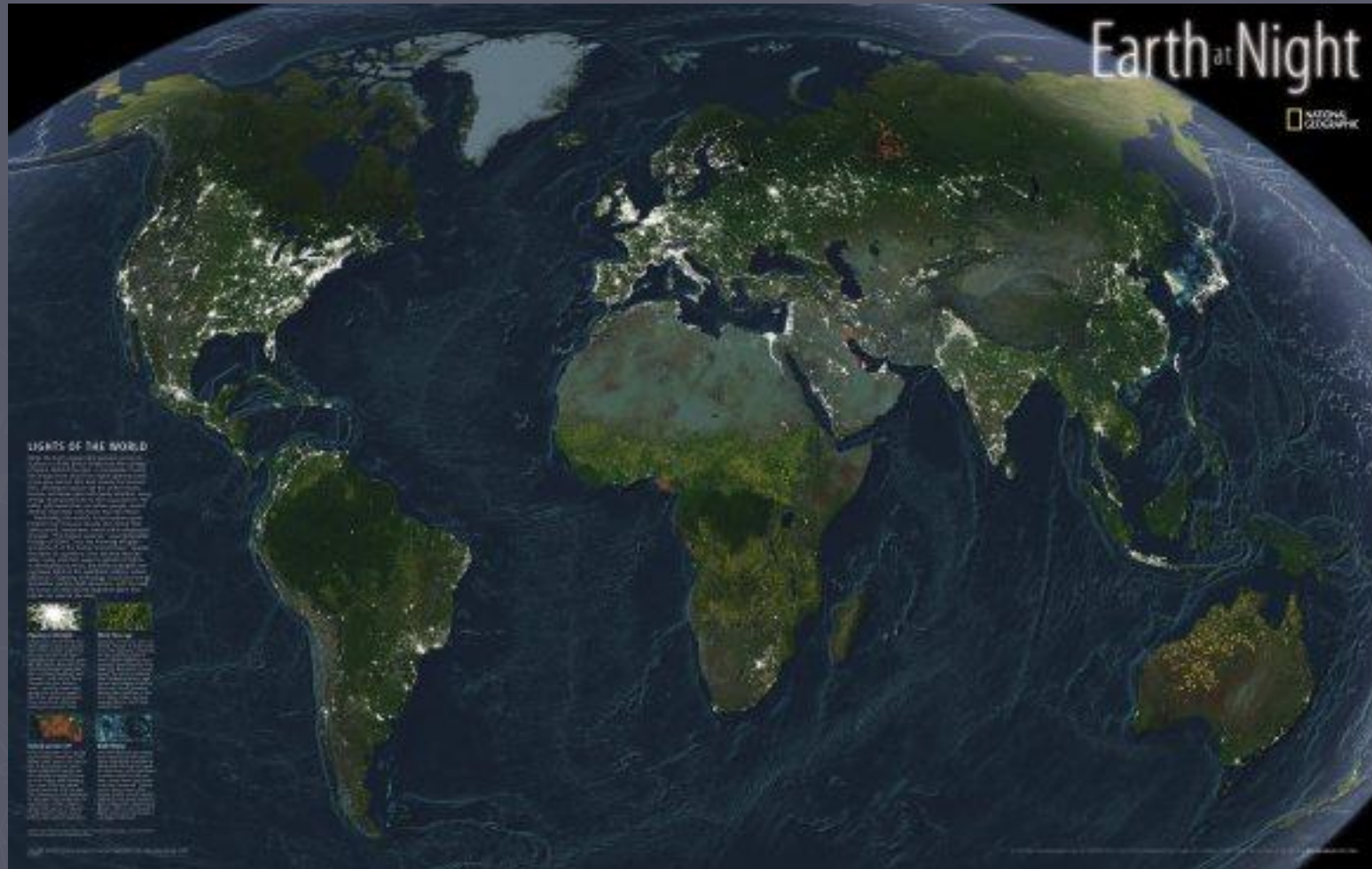
Вопрос 20: В какой стране появилась первая 16-ти румбовая «роза ветров»?
Варианты ответа: а) Германия; б) Нидерланды; в) Испания; г) Португалия



Вопрос 21: У жителей какой страны формулой жизни является выражение « Натягивайте лук – увеличивайте семью»?



Вопрос 22: В какой стране находится 60% культурных ценностей мира?
Варианты ответа: а) Франция; б) Италия; в) Греция; г) Турция; д) Испания



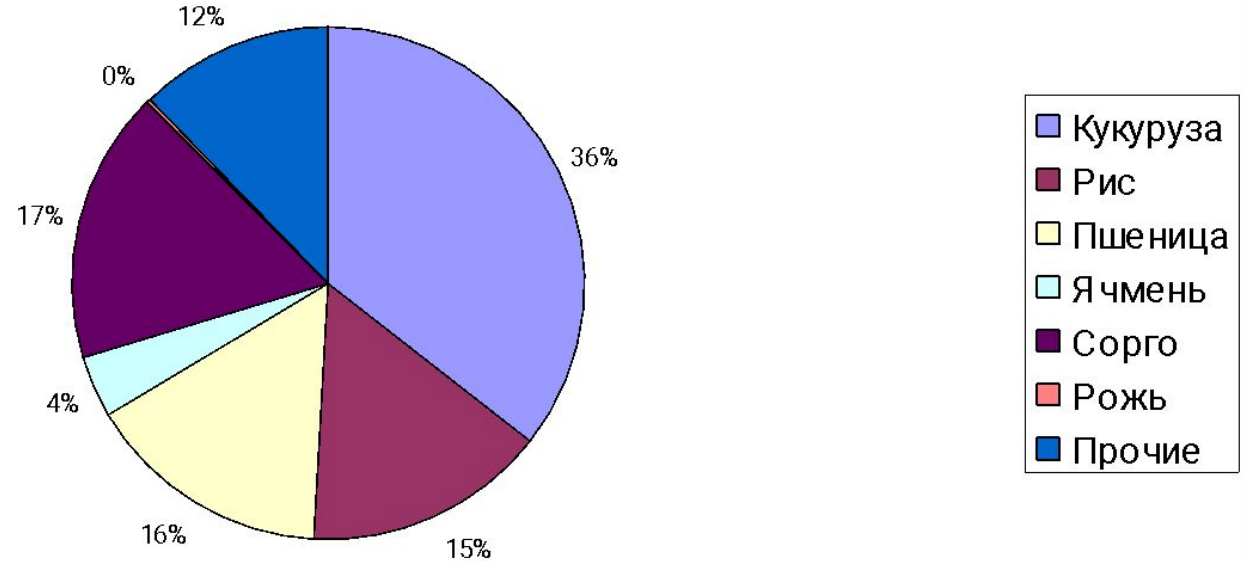
Вопрос 23: Охос-дель-Саладо это:

Варианты ответа: а) Действующий вулкан; б) Потухший вулкан; в) Спящий вулкан



Вопрос 24: Определите по рисунку, для какого макрорегиона характерна данная структура производства зерновых культур.
Варианты ответов: 1. Азия; 2. Африка; 3. Европа; 4. Северная Америка; 5. Южная Америка; 6. Австралия и Океания

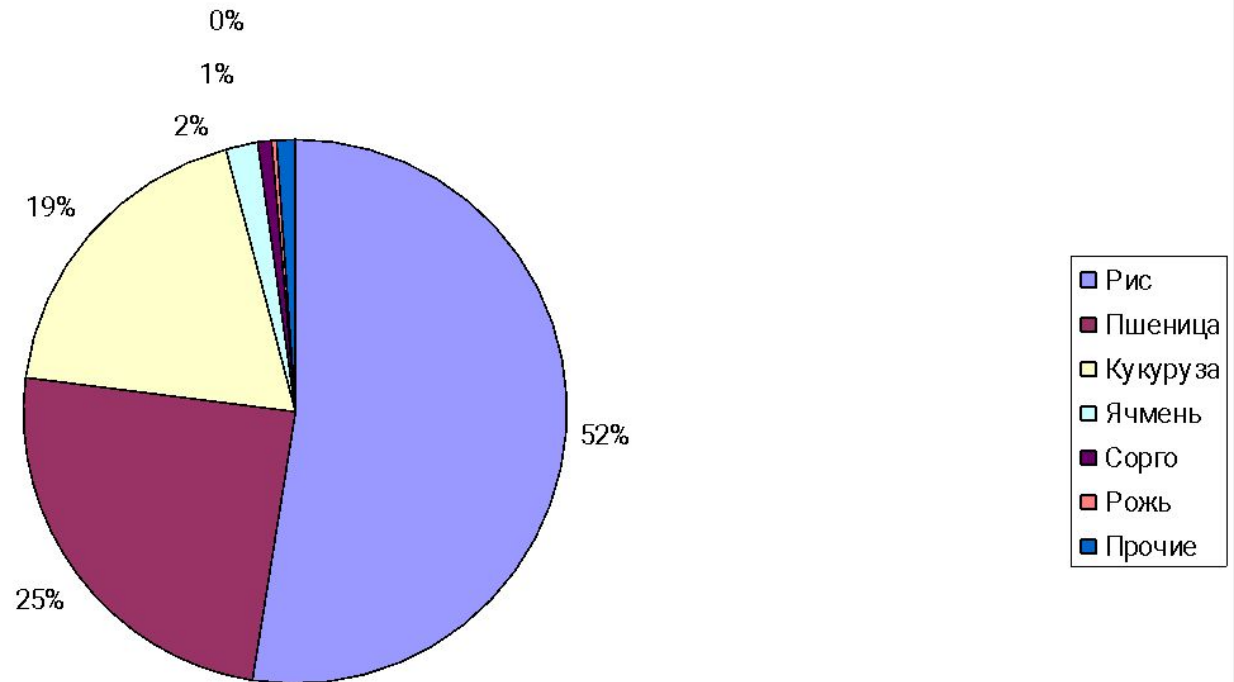
Структура производства зерновых культур, %



Вопрос 25: Определите по рисунку для какого макрорегиона характерна данная структура производства зерновых культур:

Варианты ответа: 1. Азия; 2. Африка; 3. Европа; 4. Северная Америка; 5. Южная Америка; 6. Австралия и Океания

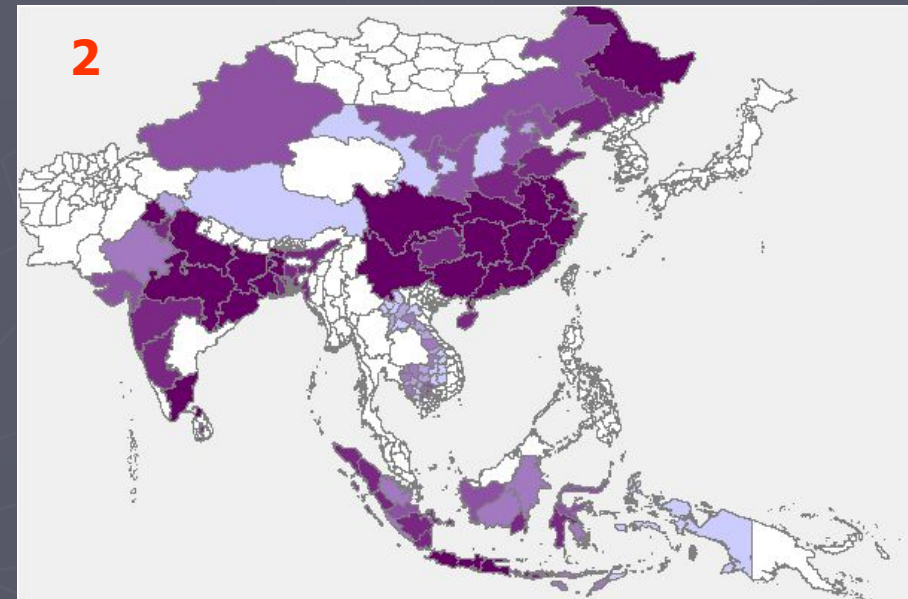
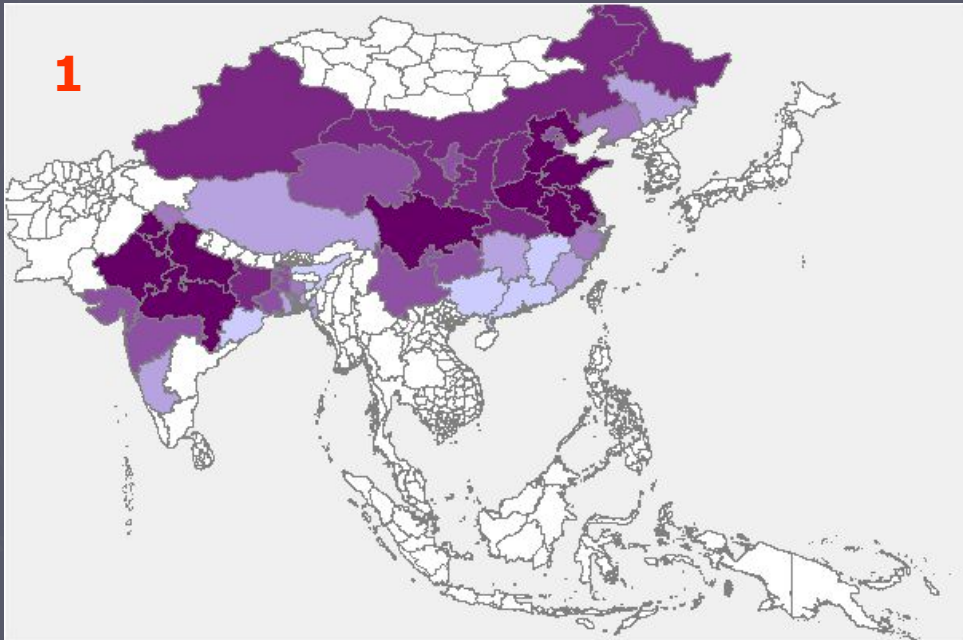
Структура производства зерновых культур в макрорегионе, %



Вопрос 26: Каждая из картограмм отражает региональное производство одной из мировых зерновых культур в Азии. Определите культуру для каждой картограммы (интенсивность цвета отражает объемы производства).

Рис.1 -

Рис. 2 -



Вопрос 27: Это государство занимает 2-е место в мире по производству данной масличной культуры. Укажите:

1. Название масличной культуры
2. Номер рисунка, где правильно отражены основные регионы ее производства (интенсивность цвета отражает объемы производства)



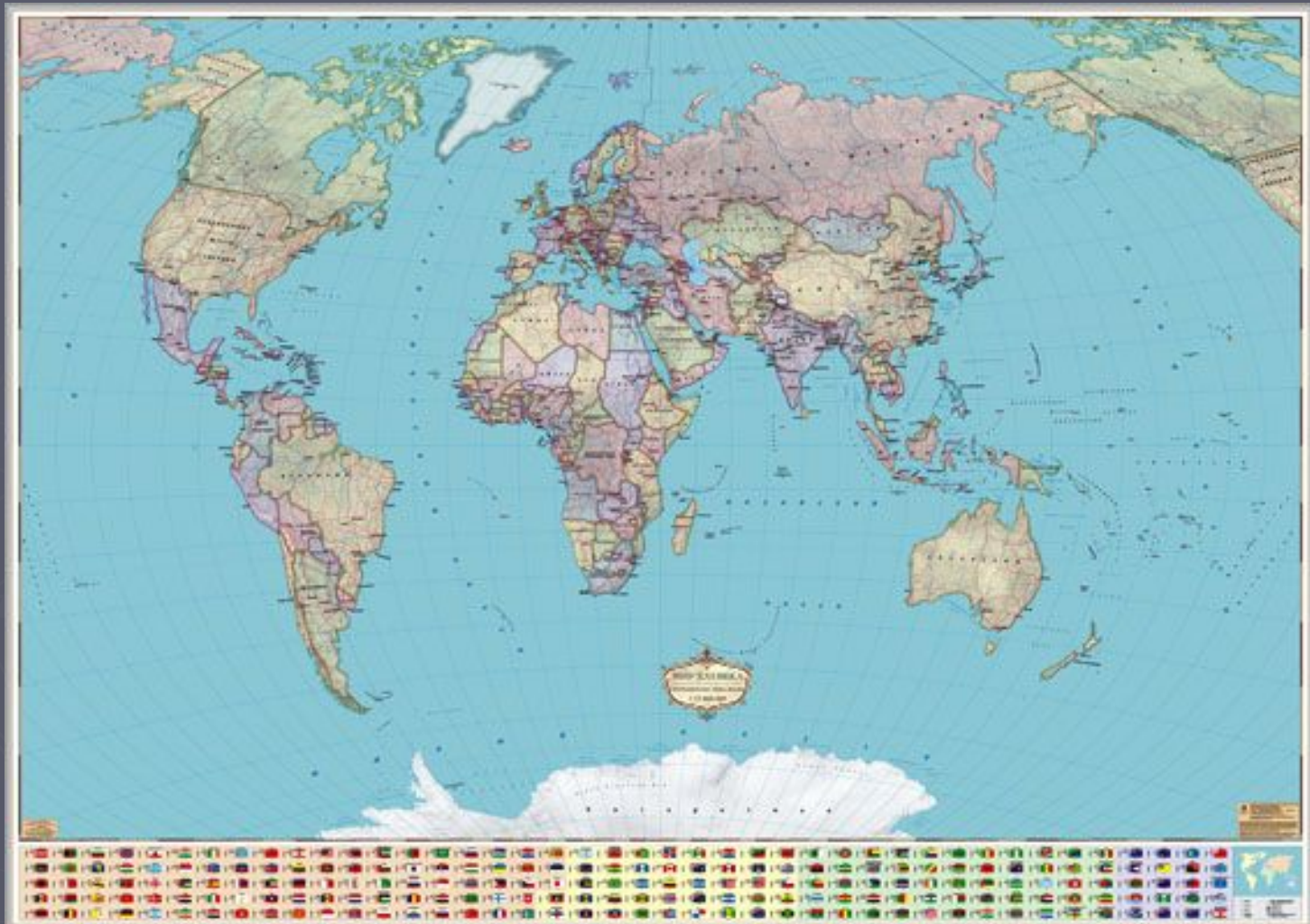
Вопрос 28: Какие государства, ранее входившие в состав СССР, на современном этапе являются членами Европейского союза:

1. Болгария;
2. Республика Молдова;
3. Литва;
4. Украина;
5. Словакия;
6. Латвия;
7. Эстония;
8. Словения

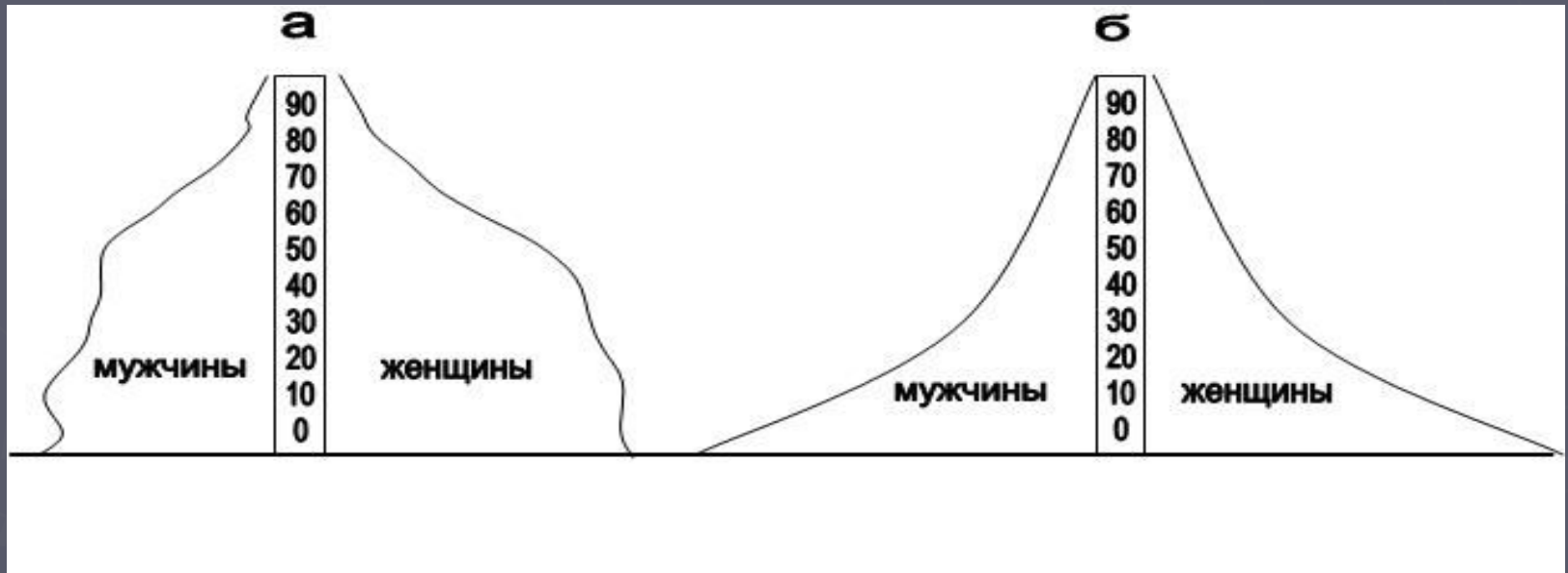


Вопрос 29: Качественными изменениями на политической карте мира являются:

Варианты ответа: 1. объединение государств; 2. образование государств; 3. распад государств; 4. изменение границ; 5. образование межгосударственных политических или экономических союзов и организаций; 6. введение новых форм государственного устройства



Вопрос 30: . Укажите, какой тип половозрастной пирамиды характерен для развитых стран – развивающихся стран –



Вопрос 31: Определите, какая из половозрастных пирамид соответствует
1. современной структуре населения США -
2. современной структуре населения Евросоюза –

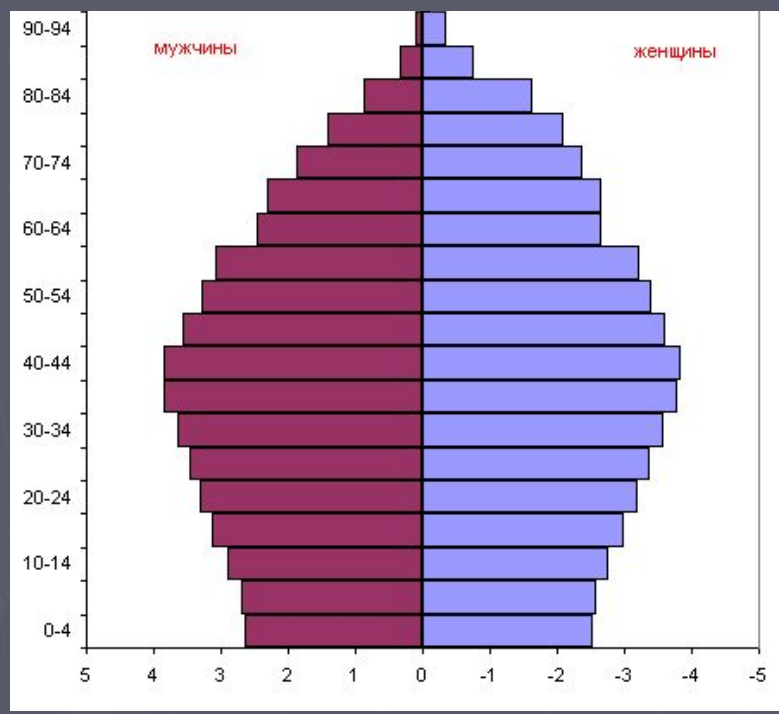


Рис. А

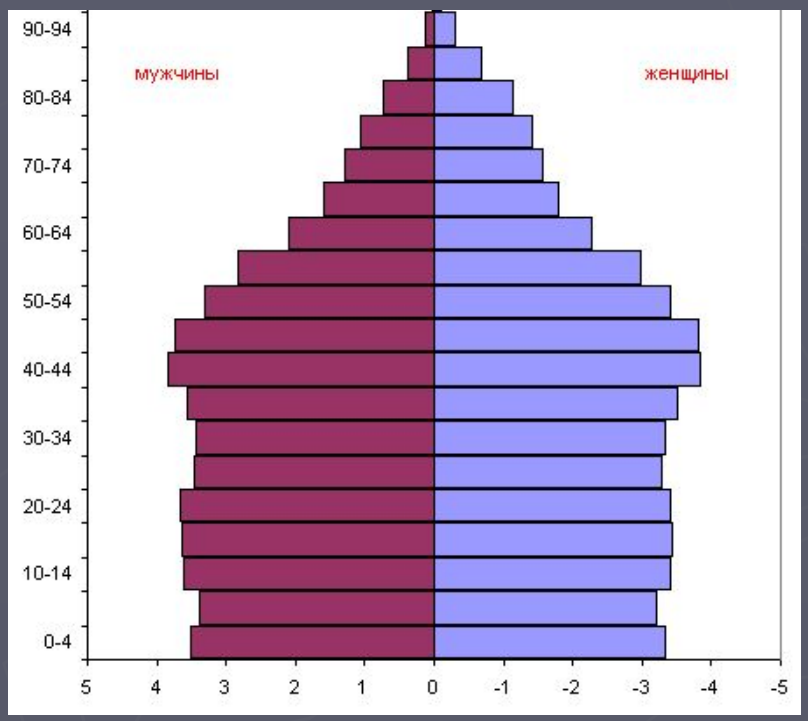
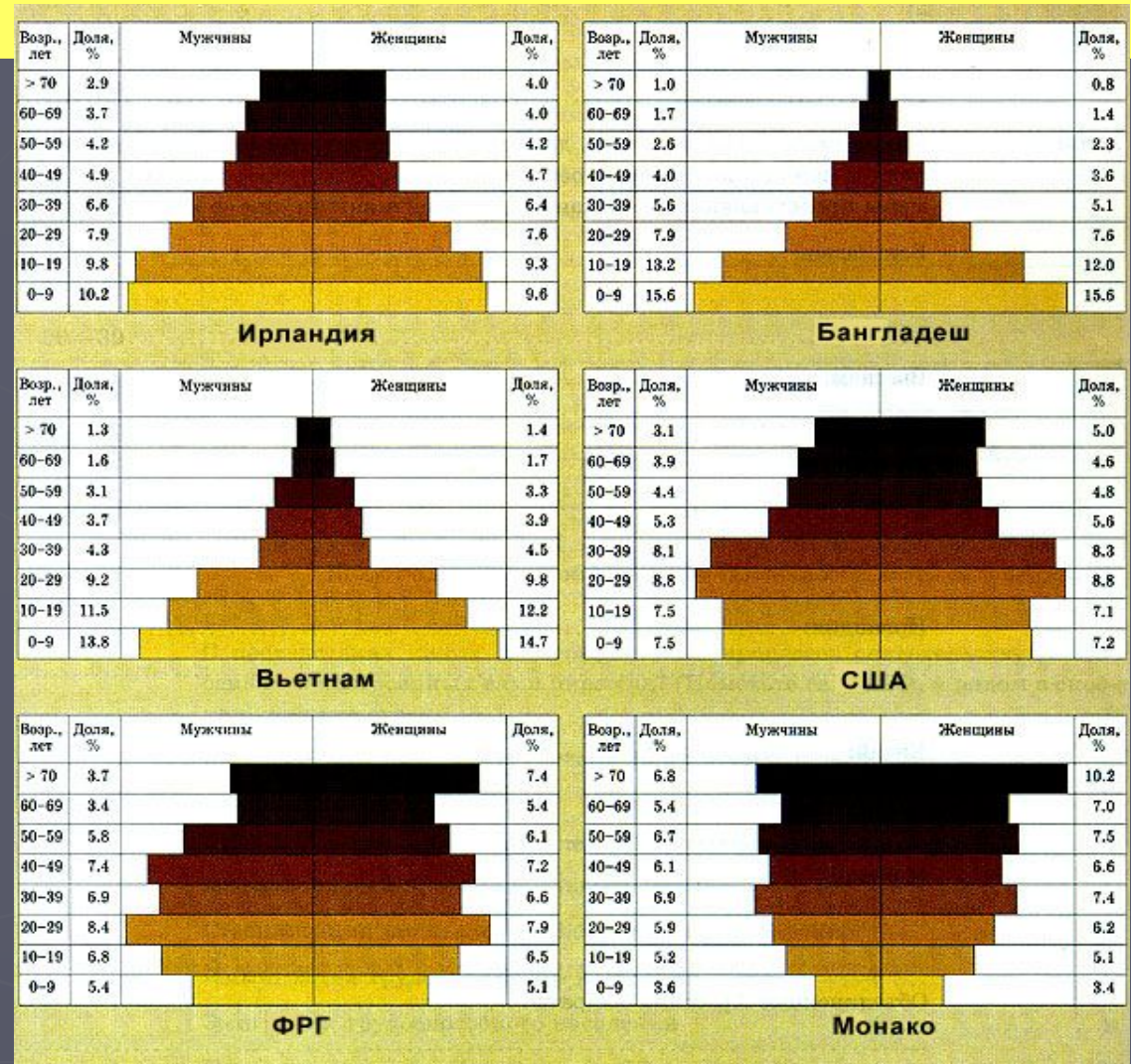


Рис. Б

Вопрос 32: Трем типам возрастной структуры населения соответствуют разные формы возрастной пирамиды.

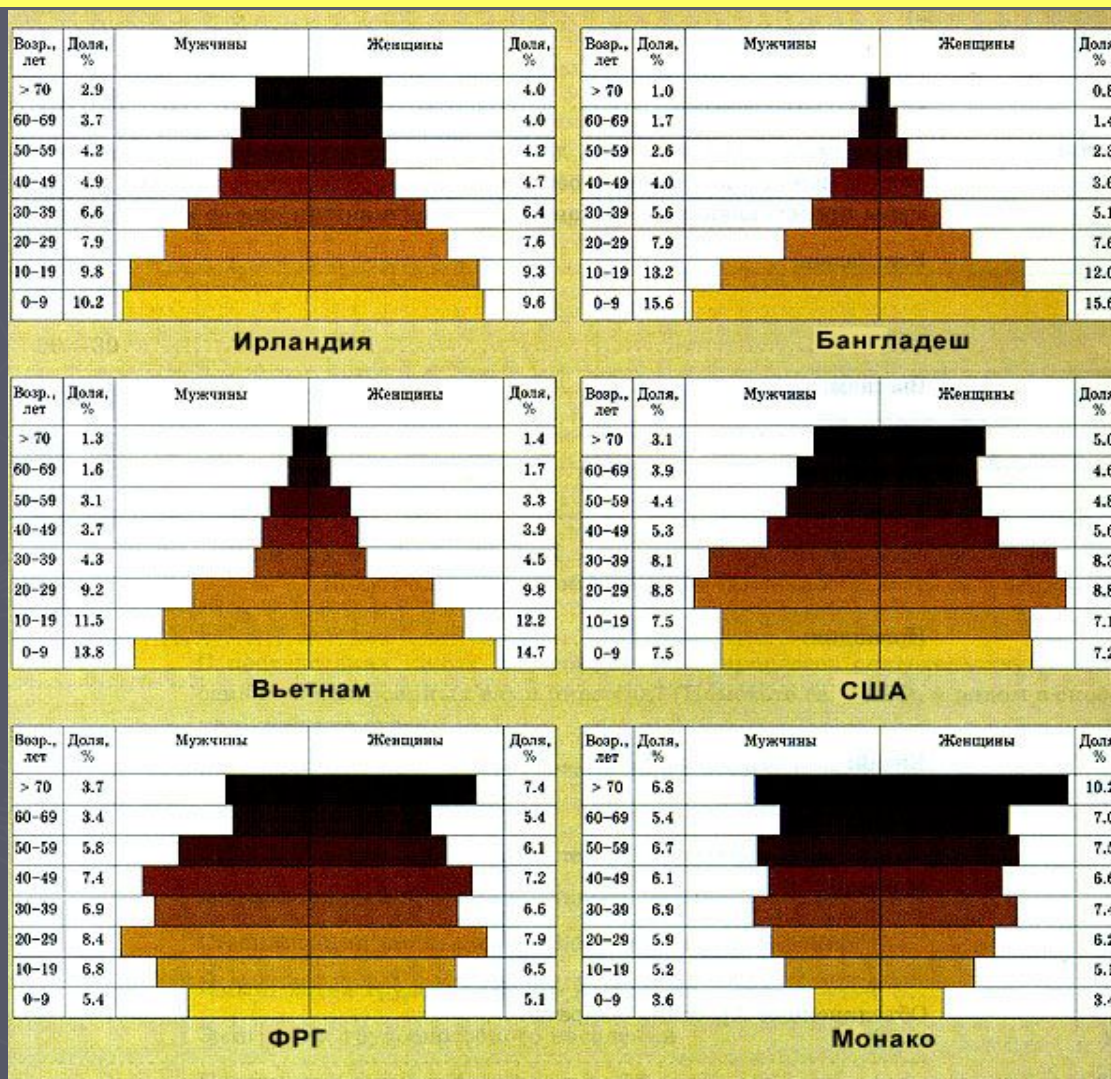
Определите по половозрастным пирамидам на рисунке страны с

1. - «молодым» населением
2. - «стареющим населением»
3. - «старым» населением



Вопрос 33: На основе данных рисунка о половозрастной структуре населения отдельных стран укажите

1. страну с самой высокой долей трудоспособного населения
2. страну с самой высокой долей дотрудоспособного населения
3. страну с самой высокой долей населения пенсионного возраста



Вопрос 34: Определите три страны, лидирующие в мире по объемам производства электроэнергии на ГЭС:
1. США, 2. Канада, 3. Бразилия, 4. Норвегия, 5. Индия, 6. Китай



Вопрос 35: Какие 3 страны из предложенного списка являются мировыми лидерами в добыче бокситов?

1. Ямайка, 2. Венесуэла, 3. Австралия, 4. Россия, 5. Бразилия, 6. Китай



Вопрос 36: Расположите крупнейшие народы мира в порядке возрастания их численности:

1. русские, 2. американцы, 3. китайцы, 4. хиндустанцы, 5. бенгальцы



Вопрос 37: Расположите крупнейшие народы мира в порядке убывания их численности:

1. японцы, 2. русские, 3. американцы, 4. китайцы, 5. хиндустанцы



Вопрос 38: укажите в предложенном списке страны, где уровень урбанизации превышает 80 %:

1. Бельгия, 2. Ирландия, 3. Уругвай, 4. Китай, 5. Египет, 6. Польша:



Вопрос 39: По фотографиям определите традиционный тип жилища:
а) эвенка, б) японца, в) жителя центральной Африки, г) англичанина, д)
полинезийца



Вопрос 40: Определите страны, в которых расположены эти крупнейшие мировые аэропорты:

1. Хитроу; 2. Ханеда; 3. Шарль де Голль; 4. Рейн-Майн; 5. Хэртфилд

