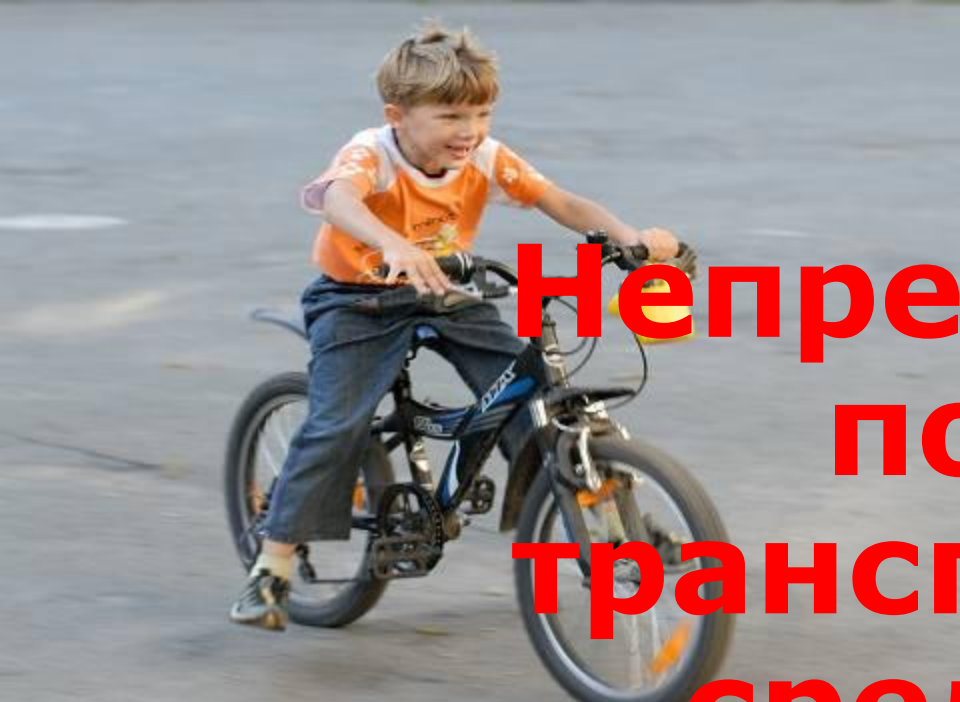


«Правила дорожного движения»

Выполнили: Ученики 6 класса

Учитель: Тихонова О.И.



**Непрерывный
поток
транспортных
средств и
пешеходов на
дорогах**




ГАИ





Дорожные знаки



Они помогают регулировать и организовывать движение машин, велосипедистов и пешеходов.

1. Предупреждающие



2. Предписывающие




3. Информационно-указательные



4. Знаки сервиса



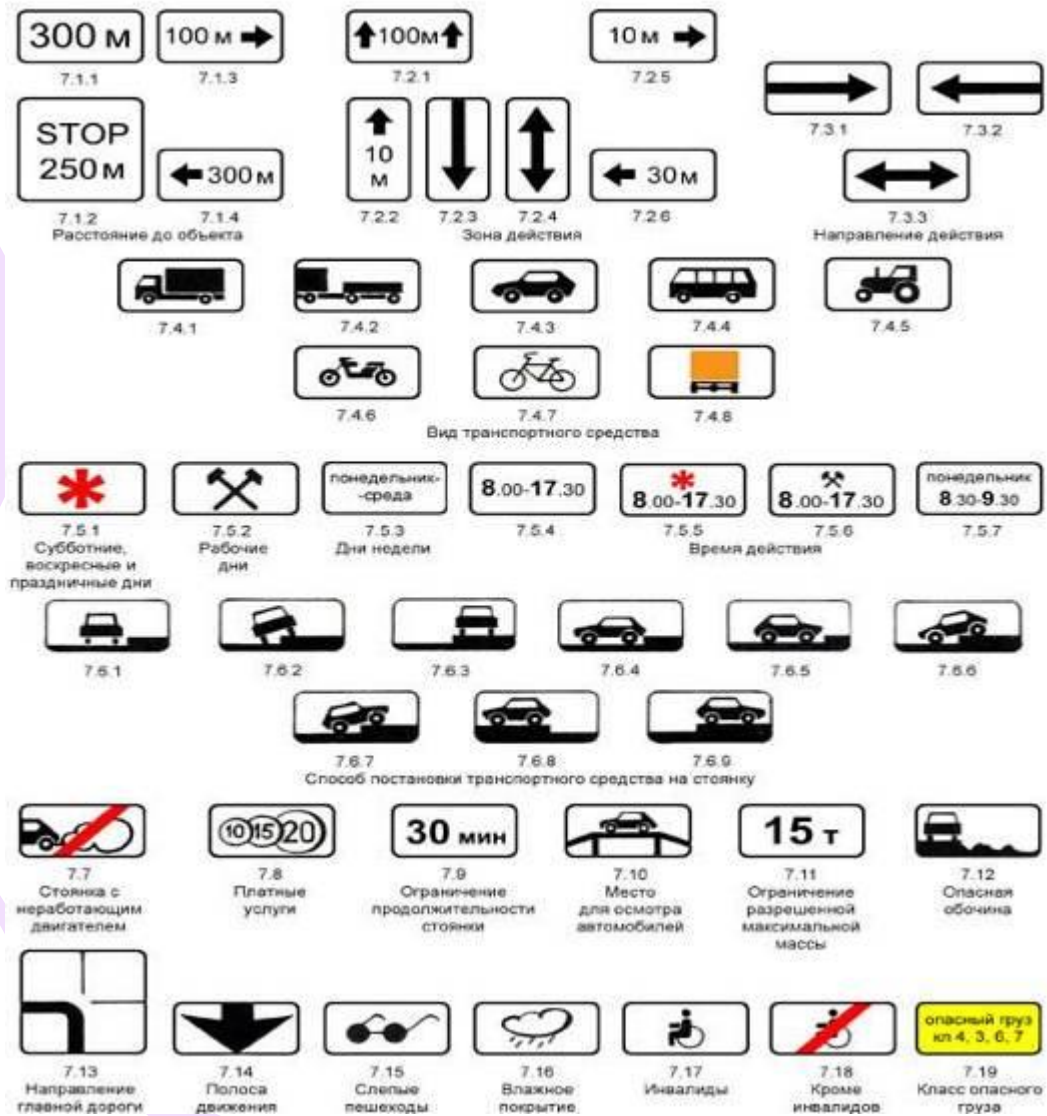
5. Знаки приоритета



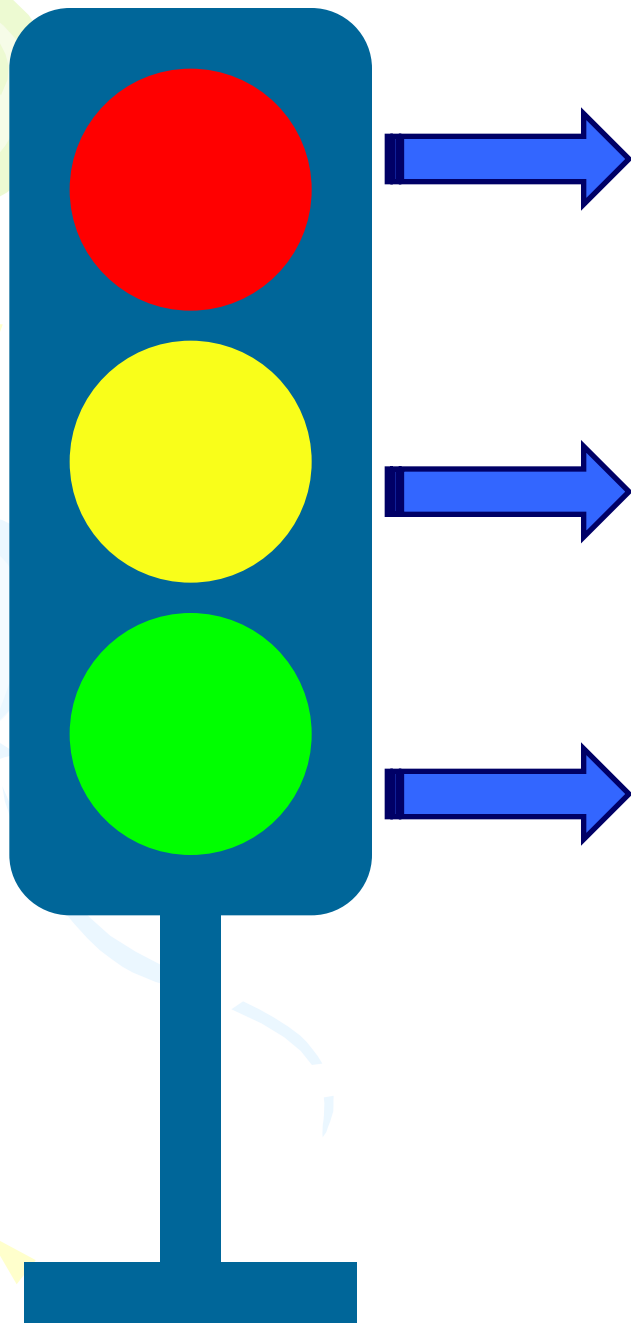
6. Знаки запрещающие



7. Знаки дополнительной информации



**С
В
е
Т
о
ф
о
р**







**Запрещает любое
движение транспортных
средств и пешеходов**

**Предупреждает
пешеходов и водителей о
смене сигналов**

**Разрешает движение
транспортных средств и
пешеходов**

Дорожная разметка



На улицах городов пешеходы ходят только по тротуарам или пешеходным дорожкам, придерживаясь правой стороны.






НЕЛЬЗЯ!

Улицы переходят по подземным или надземным пешеходным переходам. Если пешеход не успевает перейти проезжую часть, то нужно остановиться на середине проезжей части.






Переходить проезжую часть можно только при зеленом сигнале светофора.

Начиная переход, посмотри налево, дойдя до середины – направо.





СТОЙ!





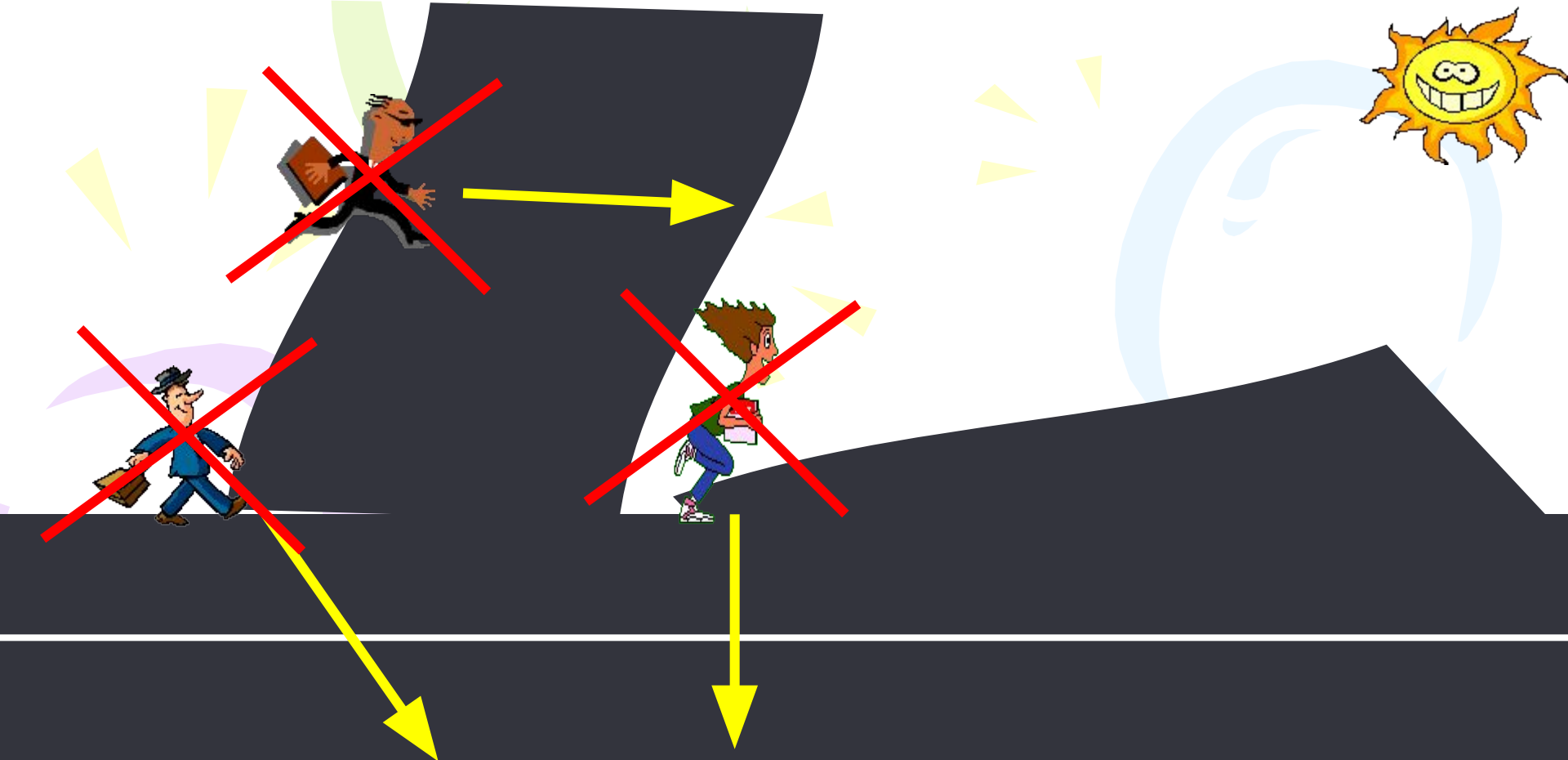
**По мосту или обочине загородной дороги
нужно идти навстречу едущим
автомобилям.**





Запрещается переходить дорогу около крутого поворота или около того места, где она круто уходит под гору или поднимается в гору.






**При переходе улицы группой (классом),
надо построиться в ряд по 2 человека и, не
задерживаясь на проезжей части, строго
выполнять все указания сопровождающих
учителей.**



**Ожидать автобус, трамвай, троллейбус
надо на тротуаре или на специально
отведенной посадочной стоянке.**



Автобус обходят сзади, а трамвай – спереди.



Возле железнодорожных путей нужно быть осторожным и внимательным. Переходить и переезжать на велосипеде через железную дорогу нужно в специально отведенном для этого месте.




ЗАДАЧКИ:

1. Какой знак называется «Пешеходный переход»?



1



2



5



6



3



4



7

2. Какой пешеход правильно переходит железнодорожные пути?



3. Какой из учеников правильно переходит дорогу?



4. Какой из учеников правильно переходит улицу?



5. Какой из знаков должен находиться на проезжей части, рядом с которой школа? Как этот знак называется?



«Осторожно дети»



**Соблюдайте
ПДД!**

