




# Центральная Россия.



Разработали:  
Беседина В.В.  
Мухортикова О.О.


## Цель урока:



- Создать условия для формирования представлений и знаний о регионе Центральная Россия.
- Способствовать изучению:  
состава и размера территории,  
оценки ЭГП Центральной России,  
оценки природных условий и природных ресурсов региона,  
особенностей и характерных черт населения и трудовых ресурсов.




## План урока:



1. Состав Центральной России.
2. Экономико-географическое положение (ЭГП).
3. Природные условия и ресурсы.
4. Население и трудовые ресурсы.

# Центральная Россия.



Состав:

район	Площадь тыс.км.	Население млн.чел.	Доля городского населения %	Плотность населения чел./км <sup>2</sup>
Центральный	485,1	29,2	83,1	50
Волго-Вятский	263,0	8,5	70,5	31
Центрально- Черноземный	168,0	7,8	62,4	46

# План – характеристика - ЭГП: экономико-географическое положение.




1. Положение района на территории государства (окраинное, пограничное, центральное).
2. Соседние районы, государства.
3. Положение относительно топливно-энергетических и сырьевых баз страны.
4. Положение относительно транспортных магистралей.
5. Вывод о влиянии ЭГП на развитие экономики региона.

# Экономико-географическое положение.



1. Находится на западе европейской части России. Центральное положение (столичное – Москва).








После распада СССР район оказался пограничным.

1. Задание: найдите приграничные государства-соседи Центральной России:

Белоруссия, Украина – это славянские государства, бывшие республики СССР, давние и тесные связи, русский язык.







**2. Задание: найдите соседние экономические районы.**

**2. Северо-Западный район, Европейский Север, Уральский район, Поволжье, Европейский Юг.**

**3. Задание : Определите положение относительно топливно-энергетических и сырьевых баз страны.**

**3. Находится вблизи топливно-энергетических баз (Тимано-Печорский угольный и нефтегазоносный бассейн, Урал – металлургическая база страны имеет собственную металлургическую базу.**



**4. Оцените положение относительно транспортных магистралей.**




**Имеет очень выгодное транспортное положение: проходят транзитные нефте- и газопроводы из Западной Сибири;**

**От Москвы отходят авто- и железные дороги кольцевые и меридиональные,**


**Развитая речная сеть: речной путь – Волга, каналы – что дают выход к морям.**

# 5. Задание: Сделай вывод об ЭГП Центральной России?



- ЭГП Центральной России выгодное :
- Центральное
- Наличие большого количества соседей, в том числе стран СНГ
- Развитая транспортная сеть
- Между топливными базами страны

# Природные условия.




3. Вопрос: благоприятны ли для развития экономики рельеф, климат?



Равнинная поверхность, умеренно-континентальный климат – очень благоприятны для ведения жизни и хозяйственной деятельности людей.



# Природные ресурсы:




4. **Используя текст учебника и карты атласа, назовите природные ресурсы Центральной России.**

1. Железные руды – КМА;
2. Бурый уголь –  
Подмосковный бассейн;
3. Торф;
4. Стройматериалы;
5. Фосфориты;




## 5. Назовите другие ресурсы:

- Лесные (северо-восток)
- Водные (невелики)
- Почвенные (юг)
- Рекреационные.



# Сделайте вывод о ресурсообеспеченности Центральной России.



- Природные ресурсы Центральная Россия разнообразны.
- На территории района распределены неравномерно:
- Юг-почвенные
- Северо-запад – водные
- Север- лесные
- Повсеместно- рекреационные
- Не богата минеральными природными



# Население.


район	Площадь тыс.км.	Население млн.чел.	Доля городского населения %	Плотность населения чел./км <sup>2</sup>
Центральный	<b>485,1</b>	<b>29,2</b>	<b>83,1</b>	<b>50</b>
Волго- Вятский	<b>263,0</b>	<b>8,5</b>	<b>70,5</b>	<b>31</b>
Центрально- Черноземный	<b>168,0</b>	<b>7,8</b>	<b>62,4</b>	<b>46</b>





# Выводы:

- Большая численность и высокая плотность населения;
- Высокая доля городского населения;
- Много городов.
- Русские (марийцы, мордва, чуваша).
- Исторические центры.



# Географический диктант.



1. Какой район не входит в состав Центральной России:

А) Центральный район

Б) Волго-Вятский

В) Центрально-Черноземный

Г) Северный.

## 2. Центральная Россия имеет ...положение:

- А. Периферийное;
- В. Столичное;
- С. Приграничное;



## 3. Соседними странами, имеющими границу с Центральной Россией имеют:

- А. Украина;      Б. Белоруссия.
- В. Молдавия.      Г. Литва.

## 4. Транспортная сеть в Ц.России представлена:

- A. Автомобильными дорогами.
- B. Трубопроводами.
- C. Железными дорогами.
- D. Всеми видами транспорта.



## 5. Центральная Россия ...

- A. богата природными ресурсами.
- Б. не богата природными ресурсами.

**6. В Ц.России есть крупное месторождение:**

- A. Бурого угля.**
- B. Фосфоритов.**
- C. Торфа.**
- D. Железной руды.**



**7. Развитию экономики Ц.России благоприятствуют:**

- A. природные условия.**
- B. природные ресурсы.**
- B. ЭГП.**

**8. В Ц.России преобладает:**

**А. городское.**

**Б. сельское.**



**9. Какой народ преобладает в Ц.России:**

**А. чувашаи. Б. мордва. В. Марийцы**

**Г. русские**

**10. На территории Ц.России находятся города-миллионеры:**

**А. Новгород.**

**Б. Воронеж**

**В. Москва.**

**Г. Нижний Новгород.**

# Домашнее задание

1. § 41, 42 устно вопрос 3,4.
2. Составить графоконспект «ЭГП, природные ресурсы Центральной России»
3. Составить презентацию «Москва-столица России».
4. Составить путеводитель «Золотое кольцо России»

