



$$90 - 40 - 5 + 1 =$$

97

Рыба – «верблюду»	36
Китовая акула	46
Тигровая акула	84
Щука	73


Китовая акула




Какова длина Китовой акулы?

$$15 + 5 - 4 + 2 = 18$$


Киты, касатки, дельфины – это млекопитающие животные



дельфины



КИТ



касатки

КИТ

$$(20 + 80) - 73 = 27 \text{ м}$$

касатка


$$(87 - 50) - 30 = 7 \text{ м}$$

дельфин

$$(89 + 1) - 80 = 10 \text{ м}$$

Самое большое животное в мире

голубой кит



длина 27 метров, вес 150 тонн



КТО СКОЛЬКО ЖИВЁТ?

• ДЕЛЬФИН

$$20 + 30 = 50$$

• КИТ

$$y - 50 = 45$$

• АКУЛА

$$37 - 30 = 7$$

Молодцы!

