

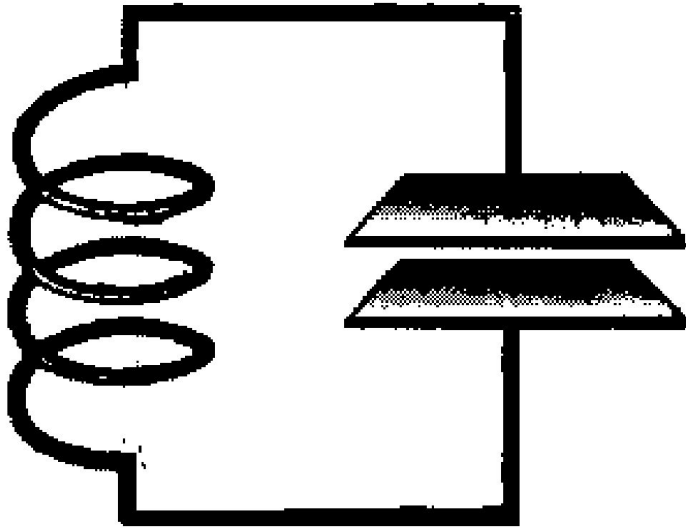
АНАЛОГИЯ МЕЖДУ
МЕХАНИЧЕСКИМИ И
ЭЛЕКТРОМАГНИТНЫМИ
КОЛЕБАНИЯМИ.
Формула Томсона.

Теория колебаний объединяет, обобщает различные области физики... Каждая из областей физики – оптика, механика, акустика – говорит на своем «национальном» языке. Но есть «интернациональный» язык, и это – язык теории колебаний... Изучая одну область, вы получите тем самым интуицию и знания совсем другой области».

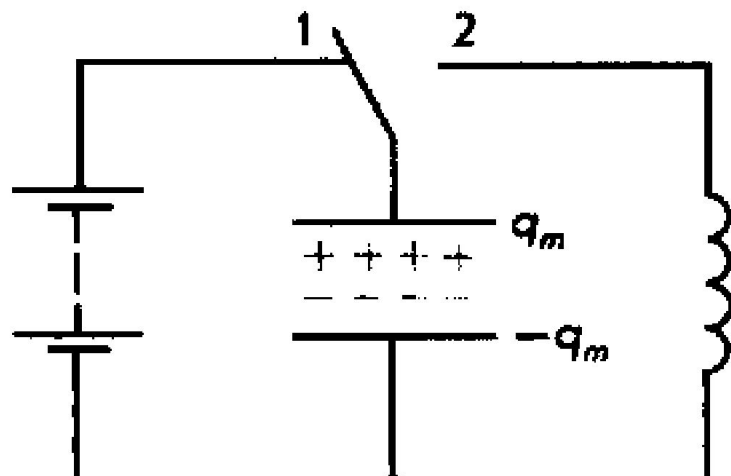
Л.И. Мандельштам.

Цели и задачи:

- Образовательные:
 - Показать универсальность основных закономерностей колебательных процессов для колебаний любой физической природы.
 - Показать, что колебания в идеальном колебательном контуре являются гармоническими.
 - Раскрыть физический смысл характеристик колебаний.
- Воспитательная:
 - Создать условия для формирования и развития добросовестности и взаимообучения учащихся.
- Развивающая:
 - Создать условия для развития умения анализировать, выделять главное, сравнивать и объяснять понятия, обобщать и систематизировать материал.
 - Способствовать развитию выделять существенные признаки объектов, умение выделять цели и способы деятельности, проверять ее результаты, выдвигать гипотезы, строить план эксперимента.

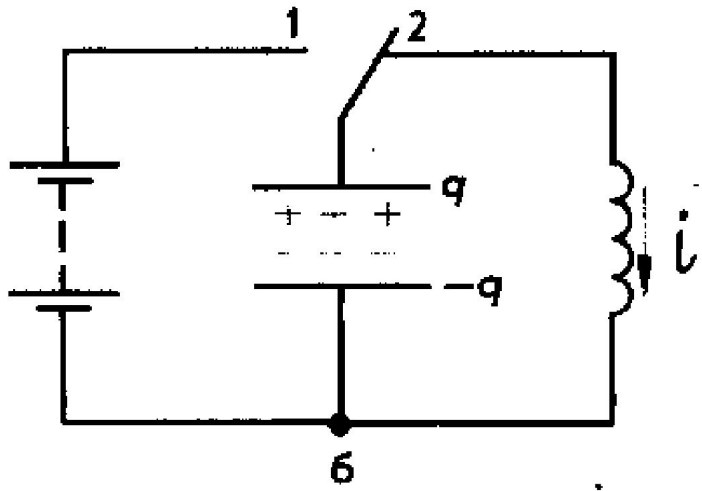


Система колебательного контура



$$W_p = \frac{q_m^2}{2C},$$

где q_m — заряд конденсатора, а C — его емкость.



$$W_M = \frac{Li^2}{2},$$

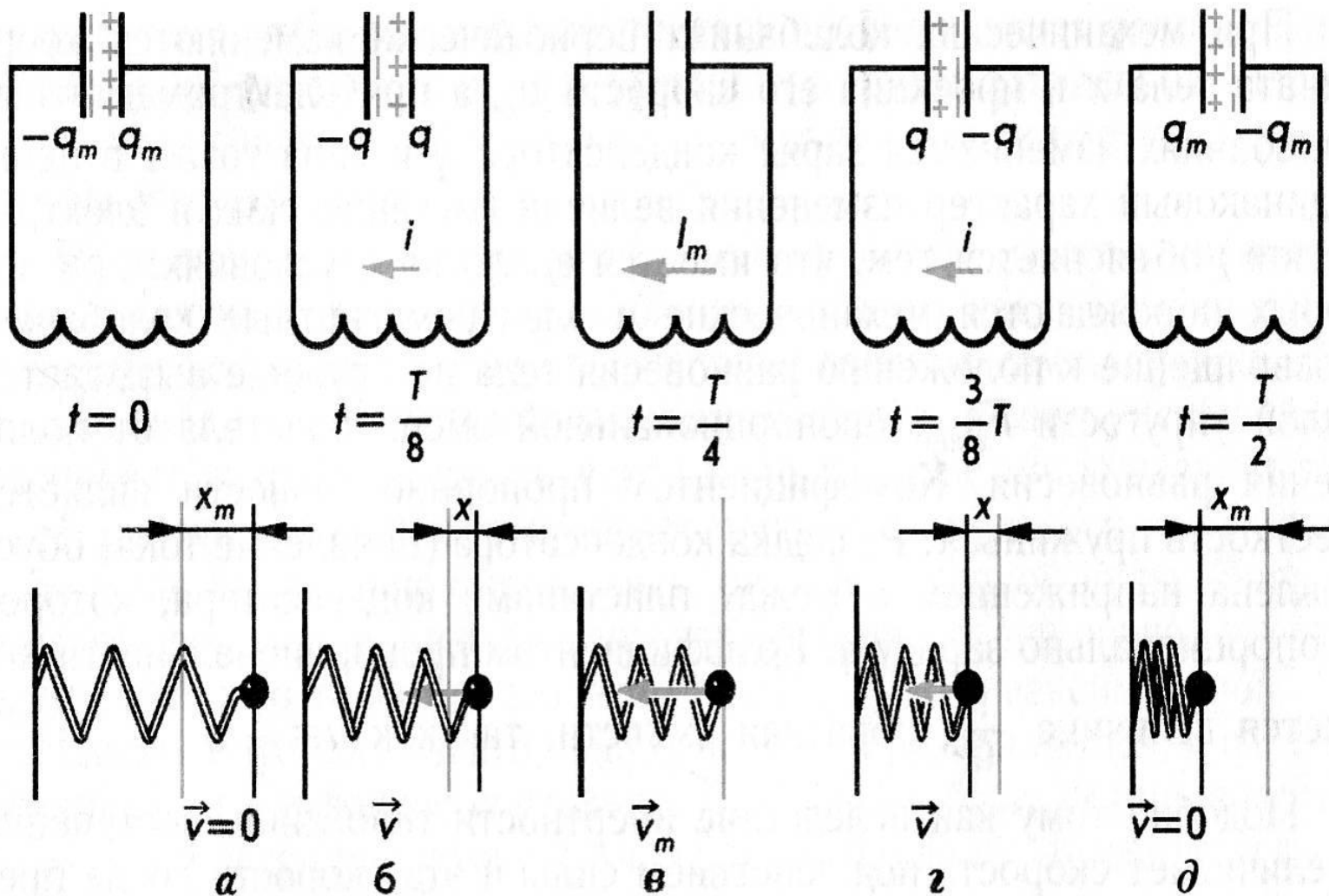
где i — сила переменного тока; L — индуктивность катушки.

Полная энергия W электромагнитного поля контура равна сумме энергий магнитного и электрического полей:

$$W = \frac{Li^2}{2} + \frac{q^2}{2C}. \quad (4.3)$$

$$W = \frac{Li^2}{2} + \frac{q^2}{2C} = \frac{q_m^2}{2C} = \frac{LI_m^2}{2}.$$

Механические и электромагнитные колебания.



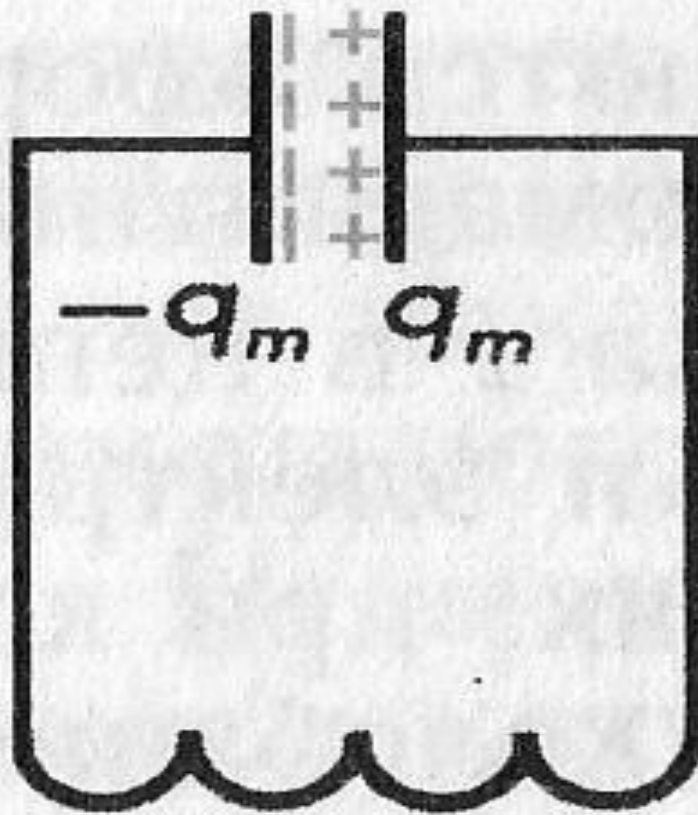
«Словарь» перевода описания механических и электромагнитных колебаний друг в друга:

Механические колебания

- 1) Масса тела
- 2) Упругость пружины
- 3) Отклонение тела от положения равновесия,
- 4) Скорость тела
- 5) Потенциальная энергия
- 6) Кинетическая энергия

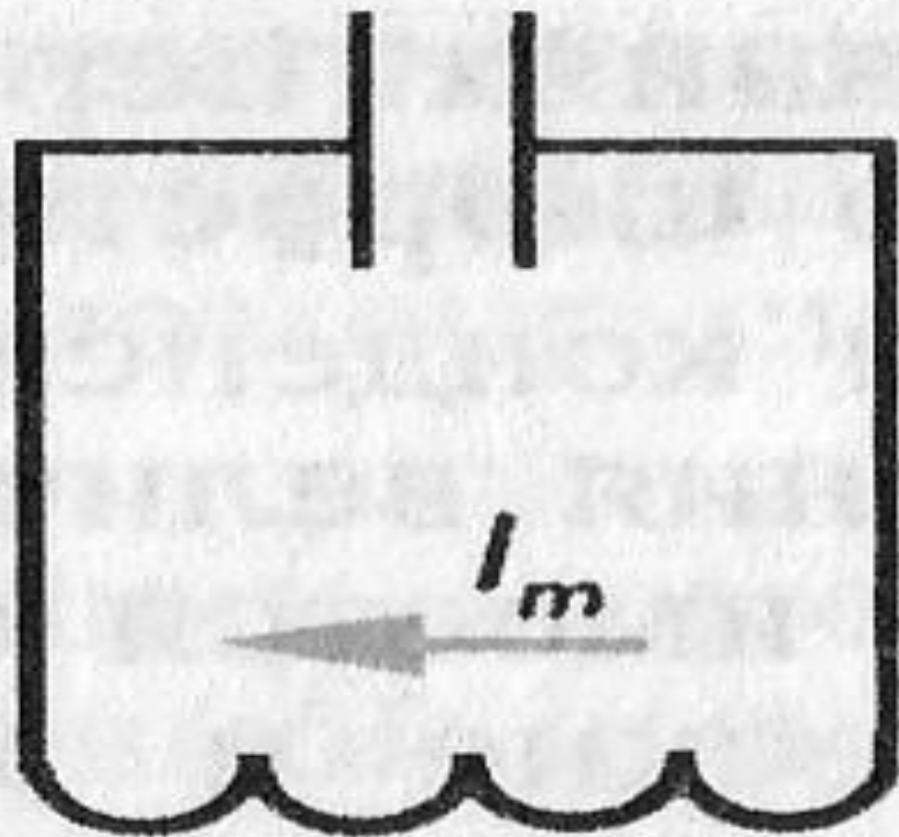
Электрическое колебание

- 1) Индуктивность катушки
- 2) Емкость конденсатора
- 3) Заряд на конденсаторе
- 4) Ток
- 5) Электрическая энергия
(энергия электрического поля)
- 6) Магнитная энергия (энергия магнитного поля)



$$t = 0$$

1. Конденсатор заряжен
2. Запас электрической энергии

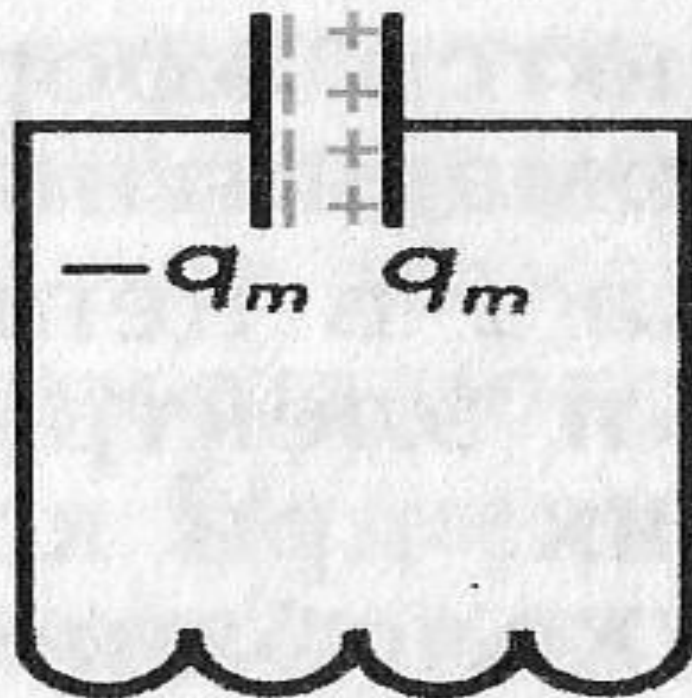


$$t = \frac{T}{4}$$

1. Течет ток

2. I_{\max} , $W_{\text{э max}}$
конденсатор разряжен
 $q = 0$

Начальный заряд создается ЭДС батареи



$t = 0$

«Словарь» перевода описания механических и электромагнитных колебаний друг в друга:

Механическая величина	Электрическая величина
Координата x	Заряд q
Скорость v_x	Сила тока i
Масса m	Индуктивность L
Жесткость пружины k	Величина, обратная емкости, $\frac{1}{C}$
Потенциальная энергия $\frac{kx^2}{2}$	Энергия электрического поля $\frac{q^2}{2C}$
Кинетическая энергия $\frac{mv_x^2}{2}$	Энергия магнитного поля $\frac{Li^2}{2}$

7) Сила


8) Сила трения

9) Жесткость пружины

7) Электродвижущая сила

8) Сопротивление

9) Величина, обратная емкости конденсатора



Уильям Томсон, лорд Кельвин, король викторианской физики

26 июня 1824 г


17 декабря 1907 г

получил образование в университетах
Глазго и Кембриджа

с 1846 до 1899 г. был профессором
натуральной философии в университете Глазго

посвящен в рыцари в 1866 г

получил звание пэра и титул лорда
Кельвина в 1892 г



Зная формулу периода гармонических колебаний упругого маятника, пользуясь Таблицей – выведите формулу Томсона.

$$\omega_0 = \sqrt{\frac{k}{m}},$$

$$\omega_0 = \frac{1}{\sqrt{LC}}.$$

$$T = 2\pi\sqrt{\frac{m}{k}}.$$

$$T = 2\pi\sqrt{LC}.$$

Добавьте недостающий элемент в [«словарь»!](#)

ЗАДАНИЕ:

Подставьте в формулу Томсона следующие значения:

$$L = 0,5 \text{ Гн}$$

$$C = 0,5 \text{ мкФ}$$

Вычислите период, а затем частоту.

$$T = 0,0031 \text{ с}$$

320 = ̸ Гц — частота в звуковом диапазоне, эти колебания можно услышать в телефоне и записать на осциллографе

ЗАДАЧА

- Как изменится период свободных колебаний в электрическом контуре при увеличении емкости конденсатора в 2 раза?
- **Ответ:** увеличится в 1,4 раза

ЗАДАЧА

- Конденсатор какой электроемкости следует подключить к катушке индуктивности 20 мГн , чтобы в контуре возникли колебания с периодом 1 мс ?
- Ответ: $1,27 \text{ мкФ}$